



21.cm

29.cm



www.taakbook.ir



نام و نام خانوادگی :

پایه : سوم

نام آموزگار :

تاریخ :

پیک آدینه

شماره

۱۵

سوم دبستان



بودجه بندی محتوایی :

هدیه های آسمان: درس ۱۱ عید مسلمانان
فارسی: بخوان و بیندیش (حوض فیروزه‌ای) مثل
ریاضی: فصل ۵: محیط
علوم تجربی: درس ۹ از ابتدا تا پایان (فعالیت) صفحه ۶۹
مطالعات اجتماعی: درس ۱۲ درست مصرف کنیم



هدیه های آسمان

۱- جاهای خالی را با کلمات مناسب پرکن (عیدفطر - فطریه - یار)

الف) مسلمانان در عیدفطر به عنوان پولی به نیازمندان می دهند

ب) خدا در قرآن همه مسلمانان را یکدیگر شمرده است.

ج) در روز عیدفطر مسلمانان با یکدیگر نماز می خوانند.

۲- عزیزم سخن حضرت علی (ع) درباره ی عید فطر بنویس؟

۳- کلم درست یا نادرستی جمله های زیر را مشخص کن

درست نادرست

الف) نماز عیدفطر در پایان محرم برگزار می شود.

درست نادرست

ب) در جشن عیدفطر مردم به دیدار دوستان و آشنایان می روند.

درست نادرست

ج) عید فطر در همه کشورهای جهان برگزار می شود



فارسی

۴- در هر دسته از کلمات ، کدام کلمه با بقیه فرق دارد. دور آن خط بکش.

پوشید- خواهد رفت- خورد- خواند

خندید- لطافت - گذشت- می خواند

پیک آدینه ۱



فارسی

۴- کلم با کلمات زیر جمله بساز.

خاطره:

دل پذیر:

باز:

۵- حرف «ی» در آخر هر یک از کلمه های زیر چه صدایی می دهد؟



۶- جمله ی زیر را مرتب کن.

دارد - آدم های - خدا - راست گو - را - دوست

۷- مخالف کلمه های زیر را بنویس.

نادران \neq

زود \neq

پنهان \neq

خنده \neq

۸- کلم یک خاطره ی قشنگ از روز اول مهر در چند سطر بنویس .



نام و نام خانوادگی :

پایه : سوم

نام آموزگار :

تاریخ :

بودجه بندی محتوایی :

هدیه های آسمان: درس ۱۹ گندم از گندم بروید (۲)
فارسی: بخوان و بیندیش (آفرینش حلزون)
ریاضی: فصل ۸ محاسبه ضرب
علوم تجربی: درس ۱۳ از ستونی از مرها تا پایان
مطالعات اجتماعی: درس ۲۳ ایمنی در کوچه و خیابان ۱



**پیک
آدینه**

شماره

۲۶

سوم دبستان



هدیه های آسمان

۱- گلم در دو سطر بنویس چه کارهایی باعث می شود در دنیا و آخرت خوشبخت شویم

.....
.....

۲- به نظر شما چه شباهتی بین شعر (زشت و زیبا) با متن درس وجود دارد

.....
.....

۳- جملات را کامل کن

الف) قبل از انجام هرکار، نتیجه ی آن فکر می کنم زیرا.....

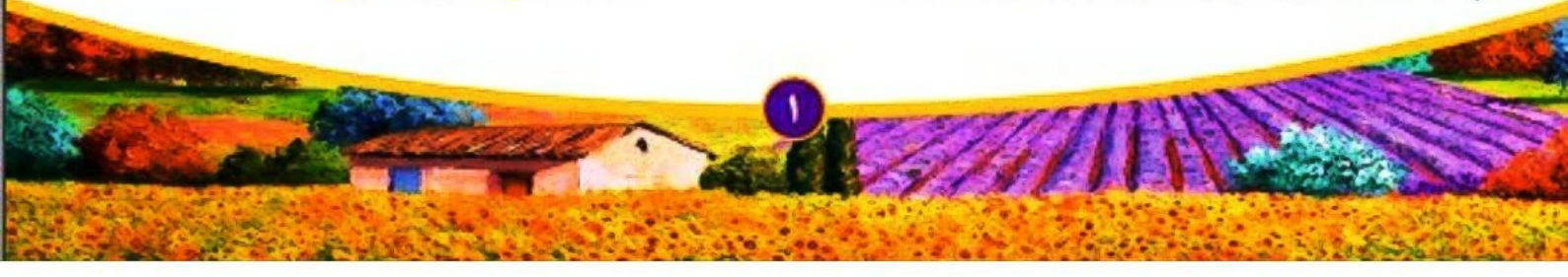
ب) بهشت هدیه ی خدا به کسانی است که.....



فارسی

۴- گلم با توجه به متن درس (آفرینش حلزون) گزینه های درست یا نادرست را مشخص کن

- الف) حلزون گفت: من به جای راه رفتن باید بخرم درست نادرست
- ب) حلزون شبها موقع خواب از صدف خود بیرون می آید درست نادرست
- ج) عنکبوت گفت من هنگام حرکت باید مایع لغزنده را روی زمین پاشم درست نادرست
- د) دندان ها حلزون در پشت زبانش مخفی هستند درست نادرست





نام و نام خانوادگی :

پایه : سوم

نام آموزگار :

تاریخ :

پیک
آدینه

شماره

۱۶

سوم دبستان



بودجه بندی محتوایی :

هدیه های آسمان: درس ۱۲ سخن آسمانی
فارسی: درس ۱۰ یار مهربان- بخوان و حفظ کن (نقاش دنیا)
ریاضی: فصل ۵ اندازه سطح، واحد اندازه گیری سطح
علوم تجربی: درس ۹ از گفتگو ص ۷۰ تا پایان
مطالعات اجتماعی: درس ۱۳ بازیافت



هدیه های آسمان

۱- عزیزم جاهای خالی را پر کن

الف) کتاب آسمانی مسلمانان است

ب) آن سه نفر در پشت دیوارهای خانه پیامبر به گوش می دادند

۲- با توجه به آیه ی ۷ سوره بینه بهترین آفریده های خدا چه کسانی اند؟

الف) کسانی که بخدا ایمان می آورند ●

ب) کسانی که نماز می خوانند ●

ج) کسانی که کارهای نیک انجام می دهند ●

د) گزینه ی الف و ج ●

۳- چرا آن سه نفر پشت خانه ی پیامبر به صدای دلنشین قرآن گوش می دادند؟



فارسی

۴- عزیزم جمله ها را کامل کن.

الف) می دانم که او خیلی مراقب

ب) می دانم که خیلی مراقب هستی.

ج) می دانم که آنها خیلی





۱۰ - فاطمه و فریبا هر کدام به مقدار مساوی کیک داشتند فاطمه $\frac{2}{4}$ و فریبا $\frac{2}{3}$ آن را خوردند با رسم شکل نشان بده که چه کسی مقدار بیشتری از کیکش را خورده است؟

۱۱ - کسرهای زیر را از بزرگ به کوچک مرتب کنید.

$\frac{3}{9}, \frac{7}{9}, \frac{4}{9}, \frac{2}{9}, \frac{1}{9}, \frac{9}{9}$



۱۲ - امیر و محسن هر دو به یک اندازه پول دارند امید $\frac{3}{9}$ پول خود را صدقه داد و محسن $\frac{1}{4}$ پول خود را صدقه داد. کدام یک بیشتر صدقه داده اند؟ با رسم شکل نشان دهید.

۱۳ - شکل رو به رو چند زاویه دارد؟ زاویه های راست آن را با کمک گونیا پیدا و رنگ کنید.



۱۴ - گلم ، جاهای خالی را با کلمات داده شده مناسب ، کامل کن . رود - قنات


الف) در بیشتر استان های کشور مردم برای مصارف خانگی یا کارهای کشاورزی استفاده می کنند.

ب) در زمان های قدیم مردم بجای حفر چاه از استفاده می کردند.

ج) از به هم پیوستن جویبارها تشکیل می شود.

۱۵ - توضیح بده اگر این آب های زیرزمینی نبود چه اتفاقی می افتاد؟

۱۶ - در تصویر زیر سه نوع خاک رس داریم بنویس آب در این خاک ها چه مقدار فرو می رود.





نام و نام خانوادگی :
 پایه : سوم
 نام آموزگار :
 تاریخ :

پیک آدینه

شماره
۱۰

سوم دبستان



بوجه بندی محتوایی :

هدیه های آسمان: درس ۸ جشن تکلیف
 فارسی: درس ۶ فداکاران - بخوان و حفظ کن (مثل باران)
 ریاضی: فصل ۳ تساوی کسر ها - مقایسه کسر ها
 علوم تجربی: درس ۶ از ابتدا تا پایان هر روز چگونه بوجود می آید
 اجتماعی: درس ۹ - مقررات خانگی ما



هدیه های آسمان

۱- عزیزم نامه ی محدثه را در درس هشتم (جشن تکلیف) بخوان و پاسخ نامه ی او را در این کادر بنویس.

.....

۲- درباره ی این تصویر یک بند بنویس.



۳- کارهای واجب را سبز و کارهای حرام را با قرمز رنگ کنید.

- | | | | | | |
|------------|----------------|----------|----------------------|-------------|-----------|
| روزه گرفتن | نگاه به نامحرم | تهمت زدن | احترام به پدر و مادر | خواندن نماز | دروغ گفتن |
|------------|----------------|----------|----------------------|-------------|-----------|



فارسی

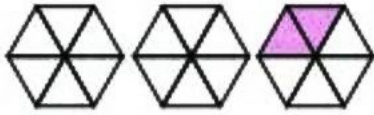
۴- با هر دو کلمه یک ترکیب بساز و در یک جمله بکار ببر. (غروب - قطار - حتی - خطرناک - مرگ - پاییزی - راننده ی - واقعه ی)

.....

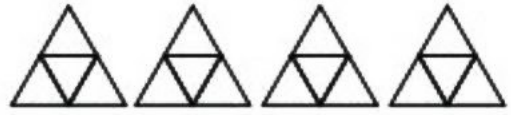




۱۱- شکل‌ها را به اندازه داده شده رنگ بزن و در جای خالی عدد مناسب بگذار.



..... واحد و واحد



۴ واحد $\frac{۳}{۴}$ واحد

۱۲- جاهای خالی را مانند نمونه پر کن.

وزن هندوانه ۳ کیلوگرم و ۷۵ گرم است یعنی کیلوگرم و از یک کیلوگرم.

وزن کیک ۶ کیلوگرم و ۳۵۰ گرم است یعنی کیلوگرم و از یک کیلوگرم.



۱۳- با توجه به شکل به سوالات پاسخ دهید.

الف) پاره خط (ج د) چه نام دارد؟

ب) پاره خط (الف ب) چه نام دارد؟

ج) اگر پاره خط (الف و ب) ۲ سانتی متر باشد پاره خط (ج د) چند سانتی متر خواهد بود؟

د) نقطه ی الف چه نام دارد؟



۱۴- عزیزم برای صرفه جویی در مصرف آب چند راه هایی پیشنهاد می دهد؟

.....

۱۵- آب شیرین در طبیعت به چه صورت هایی وجود دارد؟

۱۶- در جای خالی کلمه ی مناسب فرار دهید.

الف) مقدار آب قابل آشامیدن در طبیعت است.

ب) در فصل تبخیر آب بیشتر است.

ج) آب شور برای و مناسب نیست.

د) مقدار تبخیر آب در نور آفتاب از سایه است.



پیک آدینه ۹



- ۵- غلط های املایی را در جمله های زیر پیدا کنید و شکل درست آنها را بنویسید.
 الف) رانده ی قطار، با دیدن آتش .قطار را نگه داشت و جان مسافران را از مرگ هتمی نجات یافت.
 ب) ولی به علت آغاز جنگ تحلیلی و اشغال شهر نتوانست مدرسه برود.
 ۶- با توجه به زمان خواسته شده جمله را تغییر بده.

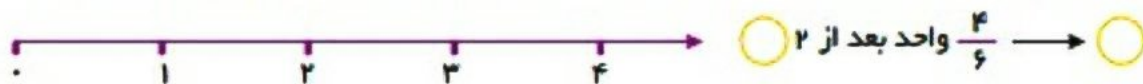
علیرضا با خانواده اش به مسافرت می روند (پارسال)
 ۷- عزیزم کامل کن.

بارکش وسیله است که :
 دودکش وسیله ای است که :
 وسیله ای که نفت را جا به جا می کند نام دارد.

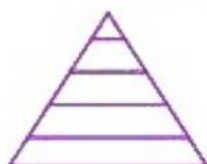

- ۸- عزیزم برای کلمه هایی که مشخص شده اند یک کلمه ی هم معنی مناسب بنویس.
 الف) رزعلی خواجوی جان مسافران را از مرگ (حتمی) نجات داد.
 ب) برای نجات جان (هم نوعان) جان خود را به خطر می اندازند.
 ج) جان خود را فدا کرد، تا از (پیشروی) آنان بسوی خاک ایران جلوگیری کند.



۹- کسرهای زیر را روی محور نشان دهید، سپس در جای خالی بنویسید که این کسر بین چه عددهای قرار می گیرد.



۱۰- برای کدام یک از شکل های زیر می توان کسر نوشت.





نام و نام خانوادگی :

پایه : سوم

نام آموزگار :

تاریخ :

بودجه بندی محتوایی :

هدیه های آسمان: درس ۱۰ ماه مهمانی خدا (۲)
فارسی: درس ۹ بوی نرگس
ریاضی: فصل ۵ حل مساله (زیرمستله) خط - نیم خط - پاره خط
علوم تجربی: درس ۸
مطالعات اجتماعی: درس ۱۱ منابع ۲

پیک آدینه

شماره

۱۴

سوم دبستان



هدیه های آسمان

۱- کدام وعده غذایی را در ماه رمضان بعد از اذان مغرب می خوریم.

- افطاری
- سحری
- شام
- غذا

۲- با توجه به آیه ی (یا ایها الذین امنوا کتب علیکم الصیام) صیام به چه معناست؟

- الف) نماز
- ب) روزه
- ج) دشمن
- د) مسلمان

۳- کدام ورزش روزه را باطل می کند؟ چرا؟



فارسی

۴- گلم جمله های زیر را با توجه به کلمه های داده شده ربط بده و دوباره بنویس

آنها هر روز بوی تو را حس می کنند

من

تو

او

ما



نام و نام خانوادگی: _____
 پایه: سوم _____
 نام آموزگار: _____
 تاریخ: _____

پیک آدینه

شماره

۲۰

سوم دبستان



بودجه بندی محتوایی:

هدیه های آسمان: درس ۱۵ همسفر شناس
 فارسی: درس ۱۳ (آزاد) بخوان و حفظ کن (وطن)
 ریاضی: فصل ۷ حل مساله (حدس و آزمایش) جدول داده ها
 علوم تجربی: درس ۱۱ (فعالیت) صفحه ۸۴ تا طبقه بندی صفحه ۸۵
 اجتماعی: درس ۱۷ از خانه خود محافظت کنیم



هدیه های آسمان

۱- به امام سجاده (ع) لقب (زین العابدین) داده اند یعنی:

- الف) زینت عالم
- ب) عبادت کننده
- ج) زینت عبادت کنندگان
- د) سجده کننده

۲- کتاب صحیفه ی سجاده از کیست؟ و موضوع آن چه موردی است؟

- الف) امام سجاده، دعاهای ایشان
- ب) امام علی- دعاهای ایشان
- ج) امام علی- سخنان ایشان
- د) امام سجاده- سخنان ایشان

۳- امام سجاده می فرمائید (خدایا کمک کن تا به دیگران خدمت کنم). در چند سطر بنویس مفهوم این جمله یعنی چی؟

.....



فارسی

۴- با توجه به متن به سوالات زیر پاسخ دهید. (سبز و سرخ و سفید)



من رنگ سبز هستم. بالای پرچم ایران نشسته ام.....

الف) نشانه ی الله وسط پرچم نشانه ی چیست؟.....

ب) رنگ سفید پرچم نشانه چیست؟.....

ج) پرچم وطن ما چند رنگ دارد؟.....





علوم

۱۶ - کدام وسیله سردی و گرمی هوا را نشان می دهد؟

- الف) بادنما
 ب) دماسنج
 ج) فرفره

۱۷ - کدام یک چشمه ی نور است؟

- الف) کتاب
 ب) توپ
 ج) خورشید

۱۸ - عزیزم علت افتادن سیب از روی درخت چیست؟

۱۹ - کلم درستی یا نادرستی گزینه های زیر را مشخص کن.

- الف) میوه دانه را در خود نگه می دارد. درست نادرست
 ب) سیب یک میوه ی یک دانه ی است. درست نادرست
 ج) به موادی که به اندازه ی مقدارشان در ظرف پش می شود مایع می گویند. درست نادرست

۲۰ - به نظر شما هوای آلوده چه ضررهایی برای انسانها و جانوران دارد؟

جدول ارزشیابی عملکردی و باز خورد توصیفی (اولیاء محترم)	خیلی خوب	خوب	قابل قبول	نیاز به تلاش
درک مفاهیم و مطالب پیک				
مدیریت و برنامه ریزی در انجام تکالیف				
باز خوردهای مناسب در روند آموزش				
انگیزه و دقت دانش آموز				
دقت در نوشتن درست				
گوش دادن و توجه به راهنمایی های والدین				
استقلال و عدم وابستگی				
اشتیاق به انجام فعالیت های بیشتر				




۵- کلم جاهای خالی را کامل کن

الف) قدرت + مند : یعنی کسی که دارد

ب) + مند : یعنی رفتاری که ارزش دارد.

ج) ثروت + مند : یعنی کسی که دارد

۶- با توجه به حروف نوشته شده داخل هر گل از متن درس کلمه پیدا کن و داخل گلبرگ ها بنویس



۷- عزیزم فرض کن تو یک کتاب هستی در یک بند بنویس دوست داری چگونه با تو رفتار کنند؟

۸- کلمات هم معنی را یک رنگ کنید.

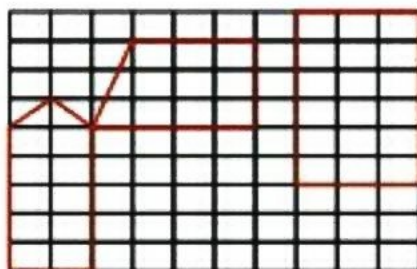


۹- کلم جاهای خالی را پر کن

الف) به اندازه ی سطح هر شکل می گویند و واحد آن است

ب) به اندازه دور هر شکل می گویند

۱۰- هر شکل از چند مربع تشکیل شده است؟



کدام شکل از مربع های بیشتری تشکیل شده است.





نام و نام خانوادگی :

پایه : سوم

نام آموزگار :

تاریخ :

بودجه بندی محتوایی :

پیک
آدینه

شماره ۱

سوم دبستان



هدیه های آسمان

۱- فرزندم نام اهل بیت پیامبر را داخل ستاره ها بنویس.



۲- جدول زیر را حل کنید.

۱- چه کسی ما را آفریده است؟

۲- نام همسر محمد (ص)

۳- از نعمت های خداست و مانند آب و غذا بدون آن نمی توانیم زندگی کنیم.

۴- کتاب آسمانی ما مسلمانان

۵- ستون دین است و روزی پنج بار می خوانیم.

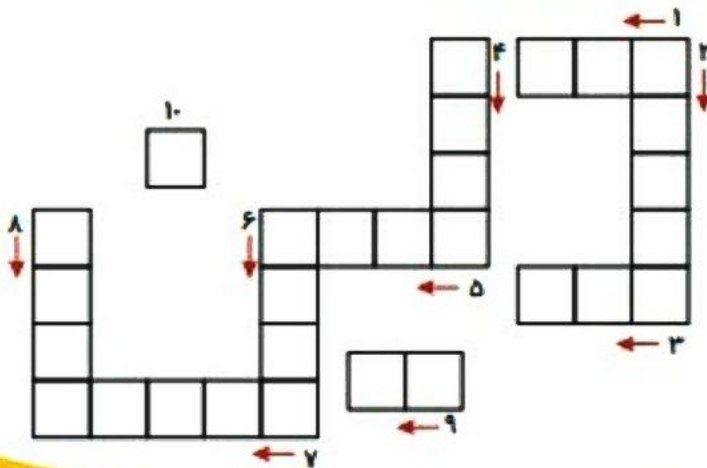
۶- نام دیگر حضرت فاطمه

۷- دین ما مسلمانان

۸- بچه ی با ادب هنگام دیدن دیگران می گوید.

۹- تعداد رکعت های نماز صبح

۱۰- این حرف بعد از نام پیامبر نوشته می شود.





نام و نام خانوادگی :
پایه : سوم
نام آموزگار :
تاریخ :

پیک آدینه

شماره ۹

سوم دبستان



بوجه بندی محتوایی :

هدیه های آسمان: درس ۷ بوی بهشت
فارسی: درس ۶: فداکاران
ریاضی: فصل ۳ کاربرد کسر در اندازه گیری
علوم تجربی: درس ۵ از «فعالیت» صفحه ۳۹ تا پایان
مطالعات اجتماعی: درس ۸: چرا با هم همکاری می کنیم.



هدیه های آسمان

۱- مادر اوپس به او اجازه داده بود تا اویش چند مدت در مدینه بماند.

الف) دو روز بماند ب) بیشتر از نصف روز در مدینه بماند ج) یک روز بیشتر در آنجا نماند د) یک ماه دیگر به مدینه برود.

۲- پیامبر در مورد اوپس چه فرمودند؟

۳- جاهالی خالی را پر کن.

الف) اوپس در حالی که حسرت دیدار را داشت به یمن برگشت .

ب) وقتی پیامبر به خانه آمد گفت را احساس می کنم.

ج) پیامبر خدا فرموده است بهشت زیر پای است.



فارسی

۴- در جای خالی کلمه ی خواسته شده را بنویس.



غروب



ترسو



سریع



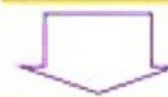
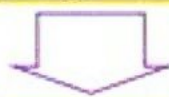
شعله



فداکار



افتخار





۱۶- همه اطراف ما پر از هواست ولی چرا ما آن ها را نمی بینیم ؟

۱۷- کلم درست یا نادرستی جمله های زیر را مشخص کن .

- | | | |
|----------------------------|------------------------------|--|
| <input type="radio"/> درست | <input type="radio"/> نادرست | الف) مایع به اندازه مقدارش در ظرف پخش می شود . |
| <input type="radio"/> درست | <input type="radio"/> نادرست | ب) آهن در دمای محیط ذوب می شود . |
| <input type="radio"/> درست | <input type="radio"/> نادرست | ج) مواد همیشه به یک حالت باقی نمی مانند . |
| <input type="radio"/> درست | <input type="radio"/> نادرست | چ) بخار آب یک نوع گاز است . |



اجتماعی

۱۸- خانواده چگونه به وجود می آید ؟

۱۹- درستی یا نادرستی عبارت های زیر را مشخص کن .

- | | | |
|----------------------------|------------------------------|---|
| <input type="radio"/> درست | <input type="radio"/> نادرست | الف) با تولد فرزندان ، تعداد اعضای خانواده بیشتر می شود . |
| <input type="radio"/> درست | <input type="radio"/> نادرست | ب) اندازه ی خانواده ها با یکدیگر تفاوت ندارند . |
| <input type="radio"/> درست | <input type="radio"/> نادرست | ج) اعضای خانواده یکدیگر را دوست دارند . |

۲۰- خانواده ی کوچک و خانواده ی بزرگ چه ویژگی هایی دارند ؟

جدول ارزشیابی عملکردی و باز خورد توصیفی (اولیاء محترم)			
نیاز به تلاش	قابل قبول	خوب	خیلی خوب

پیک آدینه ۲۰



۵- دلبندم شعر وطن را بخوان و بگو با توجه به شعر چه کارهایی برای آبادانی ایران باید انجام دهیم؟

۶- با توجه به شعر وطن جاهای خالی را با کلمات مناسب پرکن.



همه پاکیم و شریف بی خبر از و بهتانیم

همگی اهل صنعت و همگی اهل خیر و

حاليا بهر افتخار ما و درس خوانیم



ریاضی

۷- یک عدد چهار رقمی بنویس که دهگان آن ۷ و یکان آن ۲ و صدگان آن دو برابر یکان و هزارگانش بزرگترین عدد زوج یک رقمی باشد.

با عدد

با حروف

۸- عددی را دو برابر کردیم سپس حاصل آنرا با ۳۰ جمع کردیم جواب آن ۶۰ شد آن عدد را پیدا کنید.

عدد + خودش	حاصل	۲ + حاصل	نتیجه
$18 + 18$	۳۶	$36 + 2 = 38$	$38 < 42$

۹- مساحت یک مستطیل ۱۸ سانتی متر مربع است اندازه ضلع ها را طوری قرار دهید که محیط آن ۲۲ شود.





۱۷- چرا قورباغه جزء گروه مهره داران قرار دارد؟

۱۸- پنج گروه بزرگ مهره داران را نام ببر؟

۱۹- در جای خالی کلمه ی مناسب بنویس

(الف) مهمترین قسمت اسکلت نام دارد

(ب) ستون مهره ها در جانوران قرار دارد

۲۰- درستی یا نادرستی جمله های زیر را مشخص کن

(الف) در بدن همه جانوران اسکلت وجود دارد

(ب) مار ستون مهره ندارد

(ج) خفاش یک پرنده بچه زا است

(د) همه ی جانوران با شش تنفس می کنند



- درست نادرست
- درست نادرست
- درست نادرست
- درست نادرست



اجتماعی

۲۱- فرزندم کدام جمله نادرست است

(الف) دست و سر خود را از پنجره ی اتومبیل بیرون نبریم

(ب) همیشه از سمت چپ اتومبیل و از سمت راننده پیاده شویم

(ج) با راننده صحبت نکنیم و حواس او را پرت نکنیم

(د) هرگز با افراد غریبه صحبت نکنیم



۲۲- بهتر است هنگام شب در خیابان چه لباس و پوششی داشته باشیم؟ چرا؟

نیاز به تلاش	قابل قبول	خوب	خیلی خوب	جدول ارزشیابی عملکردی و بازخورد توصیفی (اولیاء محترم)
				درک مفاهیم و مطالب پیک
				مدیریت و برنامه ریزی در انجام تکالیف
				بازخوردهای مناسب در روند آموزش
				انگیزه و دقت دانش آموز
				دقت در نوشتن درست
				گوش دادن و توجه به راهنمایی های والدین
				استقلال و عدم وابستگی
				اشتیاق به انجام فعالیت های بیشتر