



21.cm

29.cm

انتشارات تاک کتاب

پیش به سوی آدینه

ششم دبستان

تاک کتاب

ششم دبستان

تقدیر آدینه

[www.taakbook.ir](http://www.taakbook.ir)



۲ کدام دسته از کلمات زیر هم نویسه می باشند؟

- الف) شیر - شیر (ب) قالب - غالب (ج) گل - گل (د) بحر - بهر

۳ ارزش لغت نامه دهخدا را با چه کتابی برابر دانسته اند؟

- الف) گلستان (ب) الهی نامه (ج) شاهنامه

۴ عبارت شال و کلاه کردن کنایه از چیست؟

۵ معنی واژه های زیر را بنویسید.

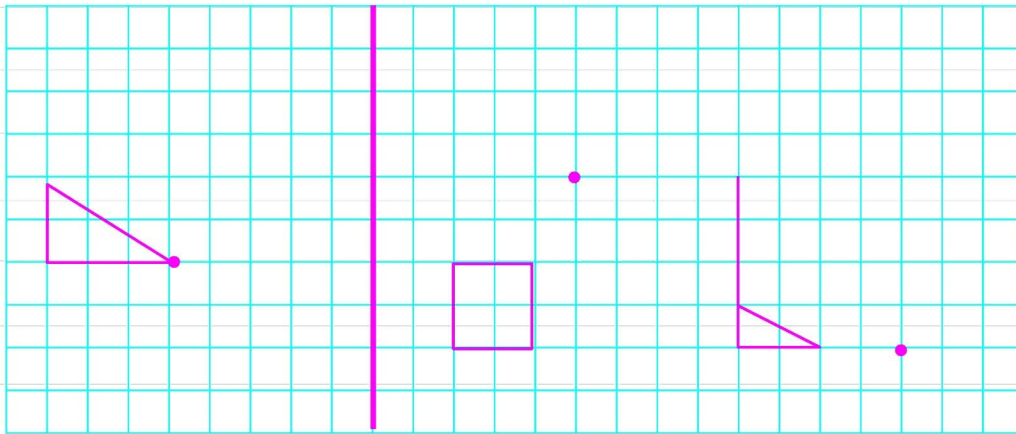
غریب:  معاصر:  درنگ:  تألیف:

۶ شکل صحیح کلمات نادرست زیر را بنویسید.

(غافل - آقت - دوژخیمان - دایره المعارف - تلفظ - آسار - علامه)

## ریاضی

۱ قرینه شکل های زیر را حول نقطه مشخص شده رسم کن.



۲ کدام یک از گزینه های زیر تقارن چرخشی ندارند؟

- الف) دایره (ب) مربع (ج) متوازی الاضلاع (د) دوزنقه



۲ با استفاده از آرایه تشبیه برای پدر و مادر خود یک متن بنویسید و از زحمات آنها تشکر کنید.

۳ در متن زیر غلط‌های املائی را پیدا کنید و شکل صحیح آنها را بنویسید.

گفت: تو چرا کار نکنی تا از مزلت خدمت رهایی یابی؟  
 خلاسه روزی برادر صروتمند به برادر فقیر گفت.

۴ در بیت «شبروان، مست ولای تو علی» شبروان به چه معنا می‌باشد؟


۵ در بیت زیر چه آرایه‌ای به کار رفته است؟

عشق بازی که هم آغوش خطر      خفت در خوابگه پیغمبر

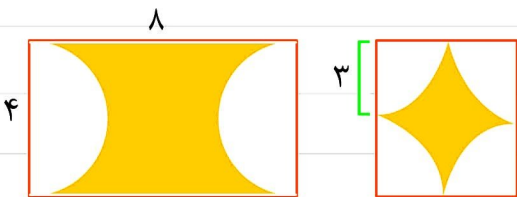
۶ پیام داستان یک قطره عسل چه بود؟

ریاضی

۱ محیط و مساحت شکل زیر را به دست آورید.



۲ مساحت قسمت رنگی شکل‌ها را پیدا کنید.



۳ محیط نیم دایره برابر است با .....

۴ مکعب مستطیلی به طول ۷، عرض ۴ ارتفاع ۲ سانتی‌متر داریم.

(الف) حجم آن چقدر است؟

(ب) مساحت جانبی آن چقدر است؟

۱ روباه و سنجاب در یک زنجیره غذایی جز کدام دسته زیر می‌باشد؟



- الف تجزیه کننده       ب) مصرف کننده       ج) تولید کننده

مطالعات



۱ هدف اصلی استعمارگران چه بود؟

۲ بیشترین نفوذ و دخالت بیگانگان در کشور ما مربوط به دوره ..... و ..... بوده است.

۳ حدود ۴ قرن پیش علوم مورد علاقه اروپاییان چه بود؟

- الف ستاره شناسی       ب) ریاضیات       ج) جغرافیا       د) گزینه الف و ج

۴ دستگاه تلسکوپ توسط ..... و دستگاه چاپ توسط ..... اختراع شد

۵ قاره آمریکا توسط کدام کشورها کشف شد؟ الف ب جیم دال

- الف اسپانیا - استرالیا       ب) استرالیا - پرتغال   
 ج) پرتغال - اسپانیا       د) فرانسه - اسپانیا



- بازخورد:  خیلی خوب       خوب       قابل قبول       نیاز به تلاش



۳ یک بسته بندی ۷۰ تایی توپ رنگ توپها به شکل زیر است جای خالی را کامل کنید

نارنجی	بنفش	قرمز	سبز	آبی	زرد
۷	۱۲	۱۵	۱۸	۸	۱۰

نسبت هر کدام از رنگها به کل توپها را بنویسید.

نسبت رنگ سبز به بنفش را بنویسید.

۴ با توجه به شکل:

**الف)** نسبت طول به محیط را بنویسید.

**ب)** نسبت عرض به مساحت را بنویسید.

۵ نسبت ۶ به ۴ مانند نسبت یک و نیم است.  درست  نادرست

### علوم

۱ چرا بعضی از گیاهان، موجودات دیگر را شکار می کنند؟

۲ گزینه نادرست را مشخص کنید.

- الف)** سلولهای گیاهی دیواره سلولی دارند.  **ب)** سلولهای جانوری مصرف کننده هستند.
- ج)** در سلول گیاهی هسته در مرکز قرار دارد.  **د)** سلولهای جانوری متنوع تر هستند.

۳ آیا بالا بردن سنگ باعث ذخیره شدن انرژی در آن می شود؟ توضیح دهید.



نام کلاس:

نام دبستان:

نام و نام خانوادگی:

بودجه بندی پیک

فارسی: صفحه ۹۰ تا ۹۶


قرآن: صفحه ۷۵ تا ۷۹

مطالعات: درس ۸ و ۹

هدیه‌ها: درس ۱۳ و ۱۴

ریاضی: صفحه ۱۱۰ تا ۱۱۴

علوم: مرور تا درس ۱۱



قرآن

۱ داستان ذوالقرنین در کدام سوره قرآن آمده است؟

۲ از کدام فلز به عنوان مادر فلزات نام برده می‌شود؟

۳ با توجه به پیام قرآنی (یرفع الله الذین آمنوا منکم والذین أوتوا العلم درجات) خداوند به چه کسانی درجات بالایی می‌بخشد؟

هدیه‌های آسمان

۱ نگین مسجدالحرام و شهر مکه کجاست؟

۲ مراسم حج و فایده‌هایی دارد؟

۳ در نامه ۴۷ نهج البلاغه آمده است شما را به رعایت ..... در کارهایتان سفارش می‌کنم.

۴ معنای آیه زیر را بنویسید.

«وَأَنْ لَّيْسَ لِلْإِنْسَانِ إِلَّا مَا سَعَى»

فارسی

۱ اشعار کدام شاعر به بیشتر به صورت مناظره است؟

(ج) ایرج میرزا

(ب) پروین اعتصامی

(الف) سعدی



۵ جنس هسته زمین بیشتر از ..... و ..... تشکیل شده است.

۶ امواج لرزه ای درون زمین از سنگ‌های سخت ..... و از سنگ‌های نرم ..... عبور می‌کنند.

مطالعات



۱ منظور از داشت در کشاورزی چیست؟

۲ آب مورد نیاز کشاورزی از آب ..... و ..... تأمین می‌شود.

۳ متوسط بارندگی سالانه ایران چند میلی متر است؟

- الف) ۸۰۰ متر
- ب) ۲۶۰ میلی متر
- ج) ۳۶۰ میلی متر
- د) ۷۰۰ میلی متر

۴ دو محصول سردسیری و دو محصول گرمسیری را نام ببرید.

● محصول سردسیری:

● محصول گرمسیری:

۵ به نظر شما چگونه می‌توان از کشاورزان ایرانی حمایت کرد؟

۶ نمودار زیر را کامل کنید.

<input type="radio"/> زراعت	<input type="radio"/> آب و هوای معتدل
<input type="radio"/> عامل انسانی در کشاورزی	<input type="radio"/> سرمایه
<input type="radio"/> برنج	<input type="radio"/> گوجه فرنگی



بازخورد:  خیلی خوب  خوب  قابل قبول  نیاز به تلاش

## بیک شماره ۵

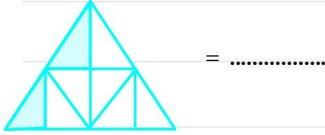
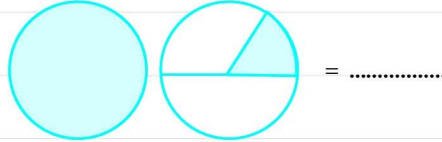
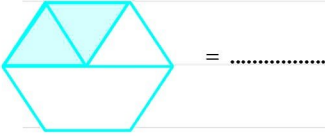


۴  $\frac{2}{3}$  زمینی را سیب زمینی و  $\frac{3}{12}$  باقیمانده را هندوانه کاشته‌ایم. چه کسری از زمین مورد استفاده قرار نگرفته است؟

$$\frac{2}{3}, \frac{4}{5}, \frac{1}{16}, 3, \frac{18}{4}, \frac{11}{5}$$

۵ اعداد زیر را از کوچک به بزرگ و از چپ به راست مرتب کنید.

۶ برای شکل‌های زیر کسر یا عدد مخلوط مناسب بنویسید.



## علوم

۱ برای اینکه کاغذ ضد آب شود، به آن چه ماده‌ای اضافه می‌شود؟

- الف) گچ      ب) نشاسته      ج) کُله      د) پلاستیک

۲ برای محافظت از منابع طبیعی چه راه‌هایی می‌شناسید؟ دو مورد را بنویسید.

۱. ....

۲. ....

۳ اگر به آب اکسیژنه ..... اضافه کنیم، محیط اسیدی رنگ آن به ..... تغییر پیدا می‌کند.

- الف) آب ژاول - صورتی      ب) سدیم - بنفش
- ج) پتاسیم پرمنگنات - صورتی و سپس بی رنگ      د) آب ژاول - بی رنگ





۴ اختلاف بزرگترین عدد ۷ رقمی و کوچکترین عدد ۷ رقمی بدون تکرار را بنویسید.



علوم



۱ به چه نوع تغییری، تغییر شیمیایی گفته می‌شود؟ با مثال توضیح دهید.

۲ به چه روش‌هایی می‌توانیم از فرسایش خاک جلوگیری کنیم؟

۳ برای حفظ و سلامت پوست چه کارهایی باید انجام دهیم؟

مطالعات

۱ چرا نواحی کوهستانی برای ما اهمیت زیادی دارند؟

۲ چند محصول صادراتی و وارداتی ایران را بنویسید؟

صادراتی:

وارداتی:

۳ چرا مغول‌ها به ایران حمله کردند؟ دو دلیل بیاورید.



نیاز به تلاش

قابل قبول

خوب

خیلی خوب

بازخورد:



نام کلاس:

نام دبستان:

نام و نام خانوادگی:

بودجه بندی پیک

فارسی: صفحه ۳۵ تا ۴۵

قرآن: تا صفحه ۴۰

مطالعات: درس ۷ و ۸

هدیه‌ها: درس ۶

ریاضی: صفحه ۳۵ تا ۴۲

علوم: درس ۵



## قرآن

۱ آیه زیر چگونه خوانده می‌شود؟

(كَهَيْصَ ) :

۲ معنی کلمات قرآنی زیر را بنویسید.

رزق: ذو: ذکری: هو:

۳ در عبارت قرآنی زیر، اتصالات را مشخص نمایید.

(ص وَالْقُرْآنِ ذِي الذِّكْرِ)

## هدیه‌های آسمانی

۱ بهترین راه هدایت مردم ..... و ..... است.

۲ این سخن از کدام بزرگوار است؟ (هرکس ما را دوست دارد، پس شبیه ما عمل می‌کند)

الف) پیامبر (ص)      ب) امام رضا(ع)      ج) امام حسین (ع)      د) امام علی (ع)

۳ ما چه وظایفی نسبت به امامان داریم؟

۴ چرا امام موسی کاظم (ع) با کارگران خود مشورت می‌کردند؟

## ز فارسی

۱ وقتی درباره مطلبی به طور غیر مستقیم سخن می‌گوییم به آن ..... می‌گویند.



نام و نام خانوادگی: \_\_\_\_\_ نام دبستان: \_\_\_\_\_ نام کلاس: \_\_\_\_\_

**بودجه بندی پیک**

قرآن: صفحه ۲۶ تا ۳۰	فارسی: صفحه ۲۵ تا ۳۵
هدیه‌ها: درس ۳ و ۴	مطالعات: درس ۶
علوم: درس ۴	ریاضی: فصل دوم



### قرآن

۱ با توجه به آیه زیر، چند صفت برای افراد با تقوا بنویسید.

«إِنَّ أَكْرَمَكُمْ عِنْدَ اللَّهِ أَتْقَاكُمْ»

..... و ..... و ..... و .....

۲ در عبارات قرآنی زیر، حروف ناخوانا را مشخص کنید.

إِنَّ الْمُتَّقِينَ ..... يَا أَيُّهَا الَّذِينَ .....

### هدیه های آسمانی

۱ معاویه در چه سالی از دنیا رفت؟

۲ عبارت «در کار دیگران تجسس نکنید» مربوط به (امربه معروف) است. درست  نادرست

۳ تشویق کردن دیگران به کارهای خوب چه اثراتی دارد؟

۴ در امر به معروف کردن انسان باید مانند ..... عمل کند.

### فارسی

۱ جمع کلمات زیر را بنویسید.

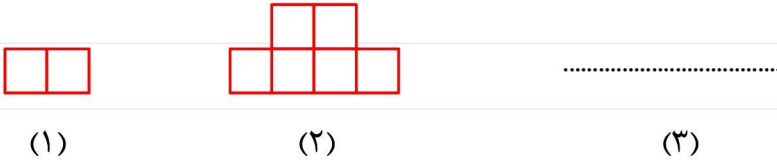
ایرانی  ملت  عامل  واژه

## پیک شماره ۳



۳ کوچکترین عدد زوج سه رقمی را بنویسید و آن را با بزرگترین عدد فرد سه رقمی جمع کنید.

۴ شکل سوم الگوی روبه رو را رسم کنید.



رابطه الگو را بنویسید.

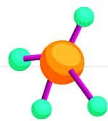
۵ الگوهای زیر را ادامه دهید.

..... و ..... و ..... و ۱۶ و ۹ و ۴ و ۱  
..... و ..... و ..... و ۴۷ و ۳۴ و ۲۲ و ۱۱

۶ مقایسه کنید.

۳۹۸۰۰  ۳۰۲۵۴      ۸۰۰۷۴۲۲  ۸۰۰۹۲۳۱  
۵۳۱۰۰۰  ۵۳۰۰۱      ۳۶۲۵۰۲  ۳۶۴۳۰

۷ با کارت‌های ۵ و ۸ و ۳ و ۹ و ۰ بزرگترین عدد ۵ رقمی فرد را بنویسید.



## علوم

۱ چرا انسان‌ها به فکر روش‌های جدید برای ثبت و ذخیره اطلاعات افتادند؟



۲ طبقه بندی مواد:



تعریف مواد طبیعی:



نام و نام خانوادگی: \_\_\_\_\_ نام دبستان: \_\_\_\_\_ نام کلاس: \_\_\_\_\_

### بودجه بندی پیک

قرآن: صفحه ۴۲ تا ۵۰ فارسی: صفحه ۵۵ تا ۶۵

هدیه‌ها: درس ۸ مطالعات: درس ۱۰

علوم: درس ۷ ریاضی: فصل سوم



### قرآن

۱ عبارات قرآنی زیر را معنی کنید.

رَبِّ زِدْنِي عِلْمًا ( \_\_\_\_\_ )

الصَّلْحُ خَيْرٌ ( \_\_\_\_\_ )

۲ با توجه به آیه زیر، معنی را کامل کنید.

«إِنَّا كُلَّ شَيْءٍ خَلَقْنَاهُ بِقَدَرٍ»

قطعا ما هر چیز را به ..... آفریدیم.

### هدیه‌های آسمان

۱ ولی فقیه با آگاهی کامل از دستوره‌های ..... و اوضاع ..... و ..... جامعه را اداره می کند.

۲ چرا امام زمان از نظرها غایب شدند؟

۳ جانشینان امام زمان در زمان غیبت صغری چه وظایفی داشتند؟



نام کلاس:

نام دبستان:

نام و نام خانوادگی:

فارسی: صفحه ۵۰ تا ۵۷

قرآن: صفحه ۳۰ تا ۴۵

بودجه بندی پیک

مطالعات: درس ۸ و ۹

هدیه‌ها: درس ۶ و ۷

ریاضی: صفحه ۴۴ تا ۵۱

علوم: درس ۶



## قرآن

۱ ماجرای شَقِّ القمر در شب چندم ماه رُح داد؟

۲ معنای کلمات (سمیع - رزاق - رَحمن) به ترتیب در کدام گزینه آمده است؟

(ب) شنوا - روزی دهنده - بخشنده

(الف) شنوا - بخشنده - روزی دهنده

(د) بخشنده - شنوا - روزی دهنده

(ج) روزی دهنده - بخشنده - شنوا

۳ چرا خداوند قرآن را قابل فهم و آسان نازل کرده است؟

## هدیه‌های آسمان

۱ غیبت صغری امام زمان از سال ..... شروع و تا سال ..... ادامه یافت.

۲ در زمان غیبت کبری مردم برای حل مشکلات دینی به چه کسانی باید مراجعه کنند؟

۳ این سخن از کیست؟ (پشتیبان ولایت فقیه باشید تا به مملکت شما آسیبی نرسد)

۴ برای کلمات زیر دو هم خانواده بنویس.

عاطفه ( ..... و ..... ) محاصره ( ..... و ..... )

جوامع ( ..... و ..... ) مُعَطَّر ( ..... و ..... )



## فارسی

۱ املای درست واژه های زیر را بنویسید.

(دماق پرور - تمع - انتحا - لابود - تقالا - فروق)

۲ مصراع اول بیت زیر را کامل کنید.

سهل است اگر که جان دهم اکنون برای تو

۳ مفرد کلمات زیر را بنویسید.

خطوط:

فنون:

عالمان:

نتایج:

۴ معنی بیت زیر را به صورت ساده بنویسید.

لاف از سخن چو در توان زد

آن خشت بود که پُر توان زد

۵ قالب شعر «ای مادر عزیز» چیست؟

(الف) دوبیتی (ب) غزل (ج) مثنوی (د) رباعی

۵ تمام ضرب المثل ها کنایه هستند.

درست نادرست

## ریاضی

۱ عبارت درست را  $\checkmark$  و عبارت نادرست را با X مشخص کنید.

- عدد ۲۲۸ بر ۶ بخش پذیر است.

- شماره شکل نهم در الگوی مثلثی برابر با ۵۵ است.

- بزرگ ترین مضرب هر عدد خودش می باشد.

- مجموع دو عدد فرد و یک عدد زوج همیشه فرد است.

۲ سه عدد بعدی را در هر الگو بنویسید.

۵، ۹، ۱۴، ۲۰، .....، .....، .....

۵۶، ۴۴، ۳۳، .....، .....، .....

۱، ۸، ۲۷، .....، .....، .....



نام کلاس:

نام دبستان:

نام و نام خانوادگی:

بودجه بندی پیک

فارسی: صفحه ۱۰۰ تا ۱۰۳


قرآن: صفحه ۸۵ تا ۹۱

مطالعات: درس ۲۳

هدیه ها: درس ۱۶

ریاضی: صفحه ۱۳۲ تا ۱۳۶

علوم: صفحه ۹۴ تا ۹۷



قرآن

۱ ترجمه عبارت قرآنی را کامل کنید.

«وَاللَّهُ رَئُوفٌ بِالْعِبَادِ» و خدا ..... به بندگان است.

۲ بیت زیر با کدام پیام قرآنی ارتباط دارد؟

دو گزرت راهی نماید راست، تو چون تیر از آن برگرد و راه دست چپ گیر

هدیه های آسمان

۱ حضرت معصومه (ص) به چه نسبتی با امام رضا (ع) دارند؟

۲ در زیارت نامه حضرت معصومه (س) می خوانیم: «سلام بر تو ای دختر امام، سلام بر تو ای خواهر امام، سلام بر تو ای عمه امام». منظور از این سه امام بزرگوار چه کسانی می باشند؟

۳ علت مسافرت شاهچراغ به ایران چه بود و مرقد ایشان کجاست.

علت سفر:  مرقد:





نام و نام خانوادگی: نام دبستان: نام کلاس:

بودجه بندی پیک

فارسی: صفحه ۹۸ تا ۱۰۰


قرآن: صفحه ۸۶ تا ۸۸

مطالعات: درس ۲۱ و ۲۲

هدیه‌ها: صفحه ۸۰ تا ۹۵

ریاضی: فصل ۶

علوم: صفحه ۸۴ تا ۹۲



قرآن

۱ معنای آیه زیر را کامل کنید

(لَا يَسْتَوِي أَصْحَابُ النَّارِ وَأَصْحَابُ الْجَنَّةِ أَصْحَابُ الْجَنَّةِ)

(مساوی نیستند اهل ..... و اهل .....)

۲ هر کلمه را به معنای درست آن وصل کن.

کسانی که  اخوان

بگو  الذین

برادران  قل

هدیه‌های آسمان

۱ به نظر شما گام‌های موفقیت کدامند؟

۲ نام سه تن از افراد موفق که می‌شناسید بنویسید.

۲ ما چه درس‌هایی می‌توانیم از شهدا بگیریم سه مورد بنویسید.

ز فارسی



۱ بیت زیر از چند جمله تشکیل شده است؟

شکر داریم کز طفولیت  
درس حُبّ الوطن همی خوانیم

فعل‌ها را در بیت بالا مشخص کنید.

۲ از کدام علامت نگارشی هنگام معنی کردن کلمات استفاده می‌شود؟

- الف) ویرگول      ب) نقطه      ج) دو نقطه      د) گیومه

۳ چهار کلمه بنویسید که در آن‌ها از حروف (س - ث - ص - ض) استفاده شده باشد.

۴ مخالف (متضاد) هر کلمه را داخل پرانتز بنویسید.

ساعی (.....)      ناگوار (.....)      تردید (.....)

۵ معنی بیت زیر را بنویسید.

دریا قلی! به وسعت دریاست نام تو  
تاریخ در تلفظ نام تو آکن است

۶ ترکیب (اتفاق ناگوار) یک نوع ترکیب اضافی است. درست      نادرست

ز ریاضی

۱ عددهای اعشاری را به صورت کسر یا عدد مخلوط بنویسید و ساده کنید.

$2/070 =$

$0/20 =$

$18/75 =$

$3/525 =$

۲ وزن یک بطری پر آب  $3/8$  کیلوگرم است. اگر وزن آب درون آن  $2/04$  کیلوگرم باشد، وزن بطری چند کیلوگرم است؟



نام کلاس:

نام دبستان:

نام و نام خانوادگی:

بهدیه بندی پیک

مطالعات: مرور سال قبل

فارسی: مرور سال قبل

ریاضی: مرور سال قبل

علوم: مرور سال قبل



ز فارسی

۱ مخالف کلمات زیر را بنویس.

روشنایی:

ترسو:

توانا:

۲ برای کلمات زیر یک هم خانواده بنویس.

مدرسه:

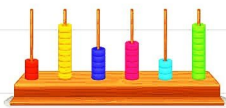
منظم:

تصویر:

۳ ضرب المثل « شب دراز است و قلندر بیدار » را در یک بند توضیح دهید.



ز ریاضی



۱ بزرگ ترین عدد نه رقمی را بنویسید که رقم هایش تکراری نباشد.

۲ کسرهای زیر را روی محور نشان دهید.

$$\frac{4}{5}, 1\frac{3}{5}$$

۳ اتومبیلی ساعت ۶ بعد از ظهر به مقصد رسید. اگر این اتومبیل "۱۳' ۴۲' ۷" در راه بوده باشد، چه ساعتی از مبدا حرکت کرده است؟

۴ چرا به عوامل بیماری زا، میکروب می گویند؟



۵ دو عامل مهم دفاعی بدن را نام ببرید.

۱. ....  
۲. ....

۶ تمام باکتری‌ها زیان آور و بیماری‌زا هستند.  درست  نادرست

مطالعات

۱ مقاومت مردم خرمشهر در مقابل نیروهای عراقی چند روز طول کشید؟



الف ۳۰ روز  ب ۳۲ روز  ج ۳۳ روز  د ۳۴ روز

۲ خرمشهر در استان ..... قرار دارد و نزدیک‌ترین شهر به آن ..... است.

۳ صدام چه رویایی در سر داشت؟

۴ چرا خرمشهر را خونین شهر نامیدند؟

۵ علت حمله کشور عراق به ایران چه بود دو مورد بنویسید.



بازخورد:  خیلی خوب  خوب  قابل قبول  نیاز به تلاش

فارسی



۱ معنی جملات زیر را به زبان ساده بنویسید.

سخنان محال و گزاف نگوید که در چشم مردم سبک شود.

چنان نکند که مُستمع، ملول گردد.

۲ چند واژه جدید بنویسید که با واژه (خوانی) ترکیب شده باشد؟

۳ کتاب «فتوت‌نامه سلطانی» اثر کیست؟

۴ مترادف کلمات زیر را بنویسید.

زوال:	خام:	اعتدال:
عبرت:	نثر:	راغب:

۵ زمان هر یک از فعل‌های زیر را مشخص کنید.

می‌گوید: تکرار کرده باشد: نخواهد کرد:

۶ در گزینه‌های زیر کدام واژه به صورت جمع آمده است؟

- الف) گزاف      ب) بزرگان      ج) اعتدال      د) نظم خوانی

ریاضی

۱ درستی یا نادرستی عبارتهای زیر را مشخص کنید؟

- اگر عدد  $\frac{8}{25}$  را با تقریب کمتر از یک گرد کنیم برابر با ۹ می‌شود.
- اگر کسر را با تقریب کمتر از  $\frac{1}{10}$  قطع کنیم برابر با  $\frac{1}{4}$  می‌شود.
- پاسخ به دست آمده با روش گرد کردن دقیق‌تر از روش قطع کردن است.