



21.cm

29.cm

انتشارات تاک کتاب

پیش به سوی آدینه

پنجم دبستان

تاک کتاب

پیش به سوی آدینه

پنجم دبستان

تاک کتاب

[www.taakbook.ir](http://www.taakbook.ir)



نام و نام خانوادگی :

پایه : پنجم

نام آموزگار :

تاریخ :



پیک  
آدینه

شماره

۲۵

پنجم دبستان



**بودجه بندی محتوایی :**

هدیه های آسمان و قرآن : بهمن همیشه بهار (۱)

فارسی : کاجستان (۲)

مطالعات اجتماعی : سفر به کرینا (۲)

ریاضی : فصل ۶ گنجایش

علوم : درس ۱۱ از ابتدای خاک چه اثری بر رشد گیاه دارد ؟ نا

ابتدای هوا چه اثری بر رشد گیاه دارد ؟



**هدیه های آسمان**

۱- این تصویر شما را به یاد کدام پیام قرآنی می اندازد . ترجمه ی آن را بنویسید.



۲- می توانید چند شعار انقلابی را خودتان بسازید یا شعارهای آن زمان را جمع آوری کنید ؟ از والدین خود کمک بخواهید.

۳- فکر می کنید راز پیروزی و موفقیت امام و مردم در این پیروزی چه بوده است ؟



**فارسی**

۱- متن را بخوانید و به جای کلماتی که خط کشیده شده کلمه ای هم معنی بنویسید.

پادشاهی (.....) با غلاسی در کشتی نشست و غلام هرگز (.....) دریا ندیده بود و مخنت (.....)

کشتی نیلزموده (.....) ، گریه و زاری در نیلا (.....) و لرزه بر اندامش افتاد . چندان که ملاطفت (.....) کردند

آرام نس گرفت و ملک (.....) از این حال آئنده (.....) گشت .

۱۱- فکر می کنید موجود کوچکی مثل موش چگونه می تواند در تشکیل خاک موثر باشد ؟

---




---

۱۲- چگونه می توانیم در جلوگیری از فرسایش خاک سهمی داشته باشیم ؟

---

۱۳- در زمین هایی به این شکل زمین را به چه صورت شخم بزنیم که فرسایش کمتری داشته باشد ؟ نشان دهید .



۱۴- منظور از کشورگشایان بی رحم چه کسانی است و تأثیر آن ها در ورود به ایران چه بود ؟

---

۱۵- جملات را با نوشتن کلمه ی مناسب از صندوقچه کامل کنید.

بنی عباس

محمد رودکی

سلطان

سلجوقیان

(الف) ..... شاعر معروف دوره ی سامانیان است .

(ب) در دروه ی ..... امامان شیعه و پیروان آن ها مورد آزار و اذیت قرار گرفتند .

(ج) مدارس نظامیه در دوره ..... ساخته شد .

(د) مهم ترین خوارزمشاهیان ..... نام داشت .

جدول ارزشیابی عملکردی و بازخورد توصیفی (اولیا، محترم)	خوب	خوب	قابل قبول	نیاز به تلاش
درک مفاهیم و مطالب پیک				
مدیریت و برتعه ریزی در انجام تکالیف				
بازخوردهای مناسب در روند آموزش				
انگیزه و دقت دانش آموز				
دقت در نوشتن درست				
گوش دادن و توجه به راهنمایی های والدین				
استقلال و عدم وابستگی				
اشتیاق به انجام فعالیت های بیشتر				

# پیک آدینه ۲۵ پنجم دبستان

۲- در باغچه ی حیاط خانه سبزی کاشته ایم . من آن ها را خیلی دوست دارم و روزی چند بار به آن ها آب می دهم ولی سبزی ها زرد شده اند . فکر می کنید علت آن چیست ؟ شما چه پیشنهادی برای شاداب شدن سبزی ها دارید ؟



.....

.....

۳- اثر نور را بر رشد گیاه آزمایش کنید و نتیجه را بنویسید.

انجام آزمایش :

نتیجه :



## اجتماعی

۱- این تصویر متعلق به حرم حضرت علی (ع) است . احساس خودتان را توصیف کنید.



.....

.....

۲- منظور از بین الحرمین کربلا چیست ؟

۳- با توجه به دلیلی که امام حسین (ع) برای قیام خود معرفی کردند ، شما چگونه می توانید ادامه دهنده ی راهشان باشید.

.....

.....

جدول ارزشیابی عملکردی و بازخورد توصیفی (اولیاء محترم)	خیلی خوب	خوب	قابل قبول	نیاز به تلاش
درک مفاهیم و مطالب پیک				
مدیریت و برنامه ریزی در انجام تکالیف				
بازخورد دهائی متناسب در روند آموزش				
انتگیزه و دقت دانش آموز				
دقت در نوشتن درست				
گوش دادن و توجه به راهنمایی های والدین				
استقلال و عدم وابستگی				
اشتیاق به انجام فعالیت های بیشتر				



نام و نام خانوادگی :

پایه : پنجم

نام آموزگار :

تاریخ :

پیک  
آدینه

شماره

۳۰

پنجم دبستان

**بودجه بندی محتوایی :**

هدیه های آسمان و قرآن :

فارسی : از درس کاجستان تا آخر کتاب

مطالعات اجتماعی : مرور فصل ۵

ریاضی : مرور فصل ۷

علوم تجربی : درس ۱۰ تا پایان کتاب

**هدیه های آسمان**

۱ - مفهوم آیه ی مشهور « إِنَّا لِلّٰهِ وَإِنَّا إِلَيْهِ رَاجِعُونَ » چیست ؟ و در کدام سوره آیه ی قرآن قرار دارد ؟



مفهوم آیه :

۲ - احساس خودت را نسبت به روزهای انقلاب توصیف کنی.



۳ - چگونه می توانید روحیه ی ظلم ستیزی را از همین حالا در خودت تقویت کنید؟

**فارسی**

۴ - در جای خالی کلمه ی مناسب بنویسید که درباره ی اسم قبل از خود توضیح دهید.

- اشک ..... از دیدگان ستاره فرو ریخت و گفت : « ای خدای ..... ، این پسرک ..... من در این

دو سه ماهه ، راه چند ساله پیوده است . - بهاره می گوشت با پاسخ های ..... او را آرام کند .

- زهرا می دانست علی دانشمندی ..... و پزشکی ..... خواهد شد .



نام و نام خانوادگی :

پایه : پنجم

نام آموزگار :

تاریخ :



# پیک آدینه

شماره

## ۱۰

### پنجم دبستان



#### بودجه بندی محتوایی :

هدیه های آسمان و قرآن : درس ۷ : رنگین کمان جمعه (۲)  
فارسی : درس ۶ : سرود ملی  
مطالعات اجتماعی : درس ۸ : راه ها و حمل و نقل (۱)  
ریاضی : فصل ۳ : نسبت نسبت های مساوی  
علوم تجربی : درس ۵ : تا ابتدای « اسگلت »



#### هدیه های آسمان

۱- به فرموده ی حضرت علی (ع) ..... بهترین ماه سال، ..... بهترین شب سال ،  
..... بهترین روز هفته است.

۲- مادر بزرگ ساجده حاضر می شد تا به نماز جمعه برود . ساجده از مادر بزرگ خواست که اجازه دهد او هم همراه  
مادر بزرگ برای نماز برود. در بین راه ساجده پرسید نماز جمعه هم مثل بقیه نمازهاست ؟ چه فرقی با نماز روزهای  
دیگر دارد ؟ من می خواهم همه را یاد بگیرم . می توانید در پاسخ به سوال های ساجده کمک کنید ؟



۳- چند کار خوب که روز جمعه به انجام آن ها سفارش شده در جای خالی بنویسید :

روز جمعه





نام و نام خانوادگی :

پایه : پنجم

نام آموزگار :

تاریخ :



پیک  
آدینه

شماره

۲۰

پنجم دبستان



**بودجه بندی محتوایی :**

هدیه های آسمان و قرآن : درس ۱۲ خورشید پشت ابر (۲)  
 فارسی : روزی که باران می بارید .  
 مطالعات اجتماعی : درس ۱۵ : بازگشت از سفر حج  
 ریاضی : فصل ۵ : تفریق عددهای اعشاری  
 علوم تجربی : درس ۹ تا ابتدای بیج ها چگونه کار ها را آسان می کنند ؟



**هدیه های آسمان**

۱ - در حدیث رسول گرامی آمده است : « از قرآن جدا نشوید و آن را راهنما و رهبر خود قرار دهید » چگونه می توانیم مفهوم آن را در زندگی خود به کار گیریم ؟ (با مثال)

۲ - اسراف (زیاده روی) در هر یک از موارد زیر چه نتایج را به دنبال دارد ؟

برق	آب	استفاده از تلفن همراه	نتایج
			راهکار



**فارسی**

۳ - جملات سوالی را از درس پیدا کنید و یادداشت کنید.


۷- میانگین چهار عدد ۱۶ شده است. دو عدد از آن اعداد ۱۲ و ۱۷ هستند اگر نسبت دو عدد ۳ به ۴ باشد آن دو عدد کدامند؟

۸- آذر ۳۰.۰۰۰ تومان پول داشت که مطابق نمودار تصویری مقابل بیشتر پول خود را خرج کرده و مبلغی برایش باقی مانده است با توجه به نمودار، جدول داده ها را کامل کنید و بگویید برای خرید هر کالا چند تومان پول پرداخته است؟



نوع هزینه	لوازم التحریر	صدقه	خوراکی	کرایه	کتاب	باقی مانده پول
مبلغ خرجمت	تومان	تومان	تومان	تومان	تومان	تومان

۹- برای آبیاری یک باغچه به روش قطره ای روزانه ۷۵/۳۸ لیتر آب مصرف می شود، در یک ماه چند لیتر آب مصرف می شود؟ این مقدار برابر چند سی سی است؟



۱۰- نام سه نوع خاک را بنویسید و ویژگی هر کدام را ذکر کنید.

<p>خاک</p> <p>ویژگی</p>	<p>خاک</p> <p>ویژگی</p>	<p>خاک</p> <p>ویژگی</p>
-------------------------	-------------------------	-------------------------



# پیک آدینه ۱۰



فارسی

۴- فرزندم : سرود ملی را با خط خوش بنویسید .

۵- با توجه به سرود ملی به سوالات پاسخ دهید .

الف ) از خواندن سرود چه احساسی پیدا کردید ؟

ب ) چه مفاهیم مهمی را از شعر برداشت کردید ؟

ج ) فکر می کنید چرا سرود ملی برای یک کشور اهمیت دارد ؟

۶- جاهای خالی را مانند نمونه کامل کنید .

پاینده + گی ← پایندگی

جاودانه + ی ←

..... + ..... ← بندگی

زنده + ی ←

گوینده + ..... + ..... ←

..... + ..... ← تشنگی

۷- در کدام مواقع دیده اید که سرود ملی خوانده شود ؟ ( ۲ مورد )



ریاضی

۸- با توجه به شکل روبرو عبارت های زیر را کامل کنید .

$\frac{\text{تعداد گیلان}}{\text{تعداد انار}} =$

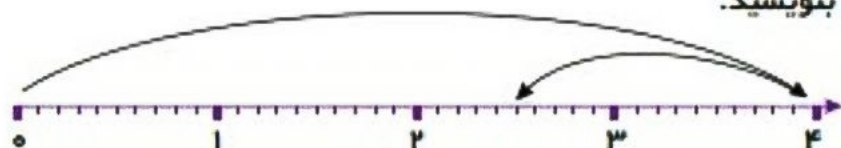
$\frac{\text{تعداد سیب}}{\text{تعداد انار}} =$

$\frac{\text{تعداد انار}}{\text{تعداد گیلان و سیب}} =$

$\frac{\text{تعداد سیب}}{\text{کل میوه ها}} =$

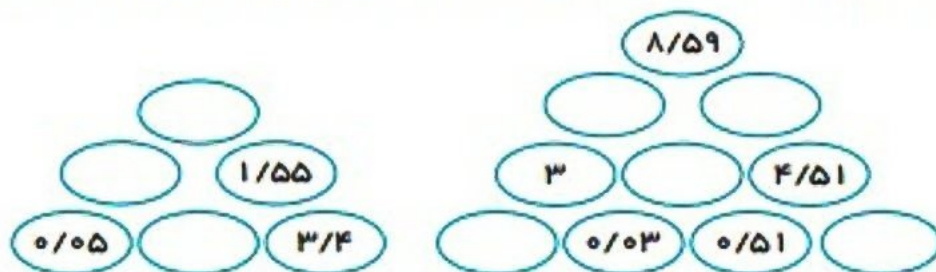
$$\begin{array}{r} 16 \\ - 7/02 \\ \hline \end{array}$$

۹- عزیزم: تفریق مربوط به محور زیر را بنویسید.



$$\dots - \dots = \dots$$

۱۰- جاهای خالی را به گونه ای پر کنید که عددی که در هر خانه نوشته می شود مجموع دو عدد خانه های پایینی باشد.



۱۱- حاصل تفریق های زیر را با تبدیل اعداد اعشاری به عدد مخلوط بدست آورید و سپس حاصل را به اعشاری تبدیل کنید.

$$13/073 - 7/03 = \dots\dots\dots$$

$$9/025 - 3/004 = \dots\dots\dots$$

۱۲- در هر  عدد مناسب بنویسید.

$$\begin{array}{r} 5 \square / \square 01 \\ - \square 8/9 \\ \hline 40/00 \square \end{array}$$

$$\begin{array}{r} 3/ \square \\ - \square /48 \square \\ \hline 0/01 1 \end{array}$$

$$\begin{array}{r} 1 \square / 16 \square \\ + 14/ \square \square 4 \\ \hline \square 1/ \square 32 \end{array}$$



علوم

۱۳- اهمیت پیچ ها را در آسان تر شدن کارها می توانید شرح دهید؟ (با مثال)

.....  
 .....

۱۴- تا حالا کشیدن آب از چاه را دیده اید؟ چه وسیله ای در این کار به آن ها کمک می کند؟

.....

# پیک آدینه ۲۰

۴ - جدول را کامل کنید.

معنی	ترکیب جدید	واژه
		خوش + نویس
		داستان + .....
		برنامه + .....
		نمایشنامه + .....



۵ - با دیدن جمله ی تصویر مقابل چه احساسی پیدا می کنید؟ آن را توصیف کنید.

.....

.....

.....

۶ - یک روز بارانی را در سه سطر توصیف کنید و در آن از کلمات (رهگذر - هدیه - آرامش - تفکر - نگاه) استفاده کنید.

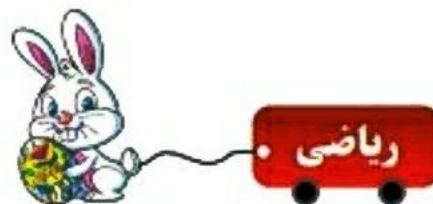
.....

.....

.....

۷ - هم خانواده ی کلمات را بنویسید.

اختیار      غرق      منظور      منتظر



۸ - حاصل تفریق های زیر را بدست آورید . یکی را به کمک محور اعداد و یکی را با استفاده از جدول ارزش مکانی

$$4/3 - 1/7 =$$



$$\begin{array}{r} 43/72 \\ - 12/183 \\ \hline \end{array}$$

جدول  
→

بدست آورید .

# پیک آدینه ۵

۷- جدول را مانند نمونه کامل کنید ؟

معنی	واژه جدید	واژه + گر یا گار
کسی است که با زر یا طلا زبور آلات می سازد	زرگر	زر + گر
.....	.....	روز + .....
.....	پروردگار	..... + .....
کسی که کوچه را تمیز می کند	.....	..... + .....

۸- در یک روز صبح بهاری سه مرد در ایستگاه قطار منتظر بودند . اما آن قدر سرشان به حرف زدن گرم شد که متوجه نشدند صدای خانسی را که از بلندگو اعلام می کرد که مسافران سوار قطار شوند . وقتی قطار راه افتاد هر سه مرد به دنبال قطار دویدند . اولی با زحمت فراوان سوار شد . دومی هم خود را به زور به قطار رساند و سوار شد . در این هنگام سومی شروع به خندیدن کرد از او پرسیدند : چرا می خندی ؟ تو که جا مانده ای ؟ مرد گفت : « برای این می خندم که من مسافر بودم و آن دو به بدرقه ی من آمده بودند ! »  
موارد زیر را مشخص کنید :



- زمان خاطره :

- مکان خاطره و موقعیت خاطره :

- شخصیت هایی که در خاطره حضور دارند :



ریاضی

۹- الگوی زیر را ادامه دهید





نام و نام خانوادگی :

پایه : پنجم

نام آموزگار :

تاریخ :

# پیک آدینه

شماره ۵

پنجم دبستان



## بودجه بندی محتوایی :

هدیه های آسمان و قرآن : درس ۴ : از نوزاد بپرسید !  
فارسی : درس ۳ : رازی و ساخت بیمارستان  
مطالعات اجتماعی : درس ۴ : من عضو گروه هستم .  
ریاضی : فصل ۱ : الگوها  
علوم تجربی : درس ۲ : از ابتدای « تغییر در خدمت زندگی » تا پایان درس .

## هدیه های آسمان



۱- با توجه به آن چه در مورد حضرت عیسی یاد گرفتید جاهای خالی را کامل کنید .



کتاب آسمانی :



معجزات :



لقب :

۲- بنا به فرموده حضرت علی (ع) کسی که با او هم نشین می شویم چه ویژگی هایی باید داشته باشد ؟ سه مورد

.....

۳- پیامبران اولوالعزم چه کسانی هستند؟

.....

۴- سه نمونه از کارهای بزرگ حضرت عیسی (ع) را بنویسید.

.....



## فارسی

۵- برای هر واژه یک هم معنی بنویسید ؟

شگفت زده : ..... کس : ..... ناچار : ..... بلند آوازه : .....



۶- در قدیم برای نگهداری گوشت چه می کردند ؟

.....

# پیک آدینه ۱۵ پنجم دبستان

۱۵- نام چهار خوراکی که دوست دارید بنویسید . حالا بگو چه مزه ای دارند که تو از خوردن آن ها لذت می ببری.

ردیف	نام خوراکی	نوع مزه
۱		
۲		
۳		
۴		

۱۶- آیا فکر می کنید حس بویایی هم در تشخیص مزه ی غذا موثر است ؟ می توانی با طراحی یک آزمایش پاسخ دهید ؟



## اجتماعی

۱۷- اگر بخواهید به پاکستان سفر کنید ، به بعضی از اطلاعات نیاز دارید تا به موقع از آن استفاده کنید مثل

- آب و هوای این کشور :

- صنایع دستی :

- دین و زبان آن ها :

- ورزش ملی :



۱۸- با توجه به نقشه به سوالات پاسخ دهید ؟

۱- نام رودی که به دریای آرال می ریزد .

۲- نام بیابانی در ترکمنستان .

۳- رودی در مرز ایران و ترکمنستان .

میز به نلانی	قابل قبول	خوب	خیلی خوب	جدول ارزشیابی عملکردی و بازخورد توصیفی (اولیاء محترم)
				درک مفاهیم و مطالب پیک
				مدیریت و برنامه ریزی در انجام تکالیف
				بازخوردهای مناسب در روند آموزش
				انتگیزه و دقت دانش آموز
				دقت در نوشتن درست
				گوش دادن و توجه به راهنمایی های والدین
				استقلال و عدم وابستگی
				لشתיق به انجام فعالیت های بیشتر

۱۰- الگوی به کار رفته در حاصل ضرب های مقابل را توضیح دهید و سپس حاصل ضرب دو عبارت آخر را بنویسید .

$$۱۵ \times ۱۵ = ۲۲۵$$

$$۲۵ \times ۲۵ = ۶۲۵$$

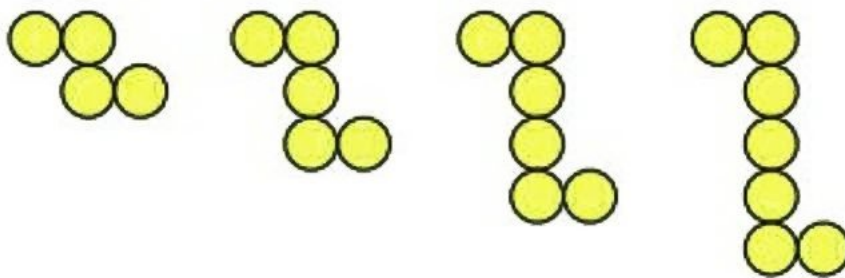
$$۳۵ \times ۳۵ = ۱۲۲۵$$

$$۴۵ \times ۴۵ = ۲۰۲۵$$

$$۶۵ \times ۶۵ = \dots$$

$$۸۵ \times ۸۵ = \dots$$

۱۱- اگر الگوی زیر را ادامه دهیم در شکل صد و بیست و هفتم چند دایره خواهیم داشت ؟



الگوی ۱۲۷

?

.....

۱۲- با تبدیل به الگوی عددی مشخص کنید . که شکل شماره ۲۵ چند مثلث دارد .




شکل ۲۵

?

.....

۱۳- با کشیدن شکل ، رابطه ی الگوی مثلثی و مربعی را پیدا کنید .



۱۴- تشکیل رنگین کمان را با استفاده از یک آبپاش توضیح دهید .

# پیک آدینه ۱۵

۴- در شعر سرای امید کدام کلمه ها هم آهنگ است؟ (سه مورد)

الف) ..... و ..... ب) ..... و ..... ج) ..... و .....

۵- دو کلمه ی هم خانواده بنویسید .



لطف



رشید



معاصر

۶- فکر می کنید مطالعه ی نام آوران گذشته چه تاثیری می تواند در آینده ی ما داشته باشد؟

۷- کلمات زیر ارزش املائی دارند . آن ها را به ترتیب حروف الفبا کامل کنید .

تحویل - تصور - عوض - بقیه - لحظه - موضوع - محور - مطالعه - فرست - معاصر

۸- شیوه ی دفاع در گذشته و امروز را با هم مقایسه کنید و بنویسید .

گذشته:

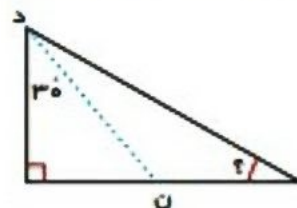
امروز:



ریاضی

۹- اندازه ی زاویه های خواسته شده در شکل های زیر را پیدا کنید.

«ن» نیمساز است







نام و نام خانوادگی :

پایه : پنجم

نام آموزگار :

تاریخ :

# پیک آدینه

شماره ۱  
پداوری

پنجم دبستان

## بوجه بندی محتوایی :

هدیه های آسمان و قرآن : کتاب چهارم

فارسی : کتاب چهارم

مطالعات اجتماعی : کتاب چهارم

ریاضی : کتاب چهارم

علوم تجربی : کتاب چهارم



## هدیه های آسمان

۱- به مناطق گرمسیری سفر کرده بودیم برای همین پدرم شب تا صبح رانندگی می کرد . نماز صبح به جایی رسیده بودیم که آب برای وضو نبود و جهت قبله را هم نمی دانستیم . اسلام برای همچنین مواقعی چه چاره ای اندیشیده است ؟

۲- کلمه هایی که به هم ارتباط دارند را مثل هم رنگ آمیزی کنید .

بزرگترین مسجد اسلامی	یارباوقای پیامبر	اولین مسجد مسلمانان	از بهترین زنان عالم	دایه ی پیامبر
آسیه	مسجد قبا	حلیمه	مسجد الحرام	ابوذر

۳- امروز اخبار اعلام کرده بود که خورشید گرفتگی اتفاق می افتد . مادرم گفت : پس یادمان باشد نماز آیات بخوانیم . دو سوال فکرم را مشغول کرد که نماز آیات را چگونه بخوانم ؟ و آیا در مواقع دیگری هم خواندن نماز آیات واجب می شود ؟ مرا راهنمایی کنید .



## فارسی

۴- کلمه های زیر را به ترتیب حروف الفبا مرتب کنید.

جهان افروز - پذیرفت - ساحل - لحظه - منتظر - تصمیم - هیجان زده - جمعیت - سرگذشت - آغوش



نام و نام خانوادگی :

پایه : پنجم

نام آموزگار :

تاریخ :



# پیک آدینه

شماره

## ۱۵

### پنجم دبستان



#### بودجه بندی محتوایی :

هدیه های آسمان و قرآن : درس ۱۰ : در ساحل دجله (۱)  
فارسی : درس ۹ : نام آوران دیروز ، امروز ، فردا - بخوان و  
حفظ کن (سرای امید)  
مطالعات اجتماعی : درس ۱۲ : کشورهای همسایه (۲)  
ریاضی : فصل ۴ : زاویه و نیمساز  
علوم تجربی : درس ۷ : تا ابتدای « حس لامسه »



#### هدیه های آسمان

۱- داستان « عزیز » را یک بار دیگر بخوان . چه نتیجه ای از داستان گرفتید ؟ ( سه مورد )

---

---

۲- فکر می کنید چرا بنی عباس با آن همه قدرت و ثروت فراموش شده است ؟

---

۳- جملات را با استفاده از آنچه در مورد امام هادی (ع) آموخته ای کامل کنید .

الف) متوکل از ..... و ..... میان امام هادی (ع) و مردم می ترسید .

ب) یکی از مشهورترین شاگردان آن حضرت ..... است که حرمش در شهر ..... قرار دارد .

ج) امام با همه ی سختی ها و رنج ها از ..... و ..... مردم دست برداشت .



#### فارسی

۱- بیت زیر را با خط خوش بنویسید.

راه ما راه حق ، راه بهروزی است      اتحاد ، اتحاد ، رمز پیروزی است .

---

- معنی بیت بالا را به زبان ساده بنویسید.

# پیک آدینه ۱ یادآوری پنجم دبستان

۱۴- هر یک از تصاویر زیر کدام تبدیل انرژی را نشان می دهد؟



۱۵- سنگ های رسوبی و سنگ های آذرین را با هم مقایسه کنید و نتیجه ی آن را بنویسید .



اجتماعی

۱۶- در ایام نوروز که به مسافرت رفته بودیم . در ابتدای ورود به شهر به ما نقشه ای هدیه می دادند که برای رفتن به جاهای دیدنی و گردشگری آن به ما کمک می کرد . فکر می کنی برای انجام چه کارهای دیگری از نقشه استفاده می شود؟ از بزرگ تر ها هم می توانی کمک بگیری .

۱۷- کار مورخ و باستان شناس را مقایسه کنید و شباهت و تفاوت آن دو را بنویسید .

تفاوت	شباهت
.....	.....
.....	.....
.....	.....
.....	.....

نیاز به نلانی	قابل قبول	خوب	خیلی خوب	جدول ارزشیابی عملکردی و بازخورد توصیفی (اولیاء محترم)
				درک مفاهیم و مطالب پیک
				مدیریت و برتانه ریزی در انجام تکالیف
				بازخوردهای مناسب در روند آموزش
				انگیزه و دقت دانش آموز
				دقت در نوشتن درست
				گوش دادن و توجه به راهنمایی های والدین
				استقلال و عدم وابستگی
				اشتیاق به انجام فعالیت های بیشتر

# پیک آدینه | یادآوری

۵- برای جدول زیر سوال های مناسب بنویسید .

			۱
			۲
			۳
			۴
			۵
			۶
			۷
			۸
			۹

۱. ....
۲. ....
۳. ....
۴. ....
۵. ....
۶. ....
۷. ....
۸. ....
۹. ....

۶- جستجوی یک گنجشک به دنبال دانه در یک روز برفی را در یک بند توصیف کنید .

.....

.....

۷- برای هر کلمه ، کلمه های مرتبط با آن را در نمودار مانند نمونه بنویسید .

<div style="border: 1px solid blue; border-radius: 50%; padding: 5px; display: inline-block;">گل</div>	<div style="border: 1px solid blue; border-radius: 50%; padding: 5px; display: inline-block;">شاعران</div>	<div style="border: 1px solid blue; border-radius: 50%; padding: 5px; display: inline-block;">نوشت افزار</div>
<div style="border: 1px solid blue; border-radius: 50%; padding: 5px; display: inline-block;">اقاقیا</div> <div style="border: 1px solid blue; border-radius: 50%; padding: 5px; display: inline-block; margin-left: 10px;">زرگس</div> <div style="border: 1px solid blue; border-radius: 50%; padding: 5px; display: inline-block; margin-left: 10px;">رز</div>	<div style="border: 1px solid blue; border-radius: 50%; padding: 5px; display: inline-block; width: 40px; height: 20px;"></div> <div style="border: 1px solid blue; border-radius: 50%; padding: 5px; display: inline-block; margin-left: 10px; width: 40px; height: 20px;"></div> <div style="border: 1px solid blue; border-radius: 50%; padding: 5px; display: inline-block; margin-left: 10px; width: 40px; height: 20px;"></div>	<div style="border: 1px solid blue; border-radius: 50%; padding: 5px; display: inline-block; width: 40px; height: 20px;"></div> <div style="border: 1px solid blue; border-radius: 50%; padding: 5px; display: inline-block; margin-left: 10px; width: 40px; height: 20px;"></div> <div style="border: 1px solid blue; border-radius: 50%; padding: 5px; display: inline-block; margin-left: 10px; width: 40px; height: 20px;"></div>



۸- عدد «صد و هشت میلیون و صد و هشت هزار و هشت» را در نظر بگیرید .

الف) عدد را به رقم بنویسید .

ب) عدد چند رقمی است ؟

# پیک آدینه ۱۰ پنجم دبستان


۱۴ - نجاهای خالی را با کلمه ی مناسب پر کنید.

- ..... حرکت استخوان ها را امکان پذیر می کند .

- مجموع استخوان ها ..... درونی بدن ها ما را تشکیل می دهد .

- در مفصل بین استخوان ها ..... وجود دارد .

- از روی هم قرار گرفتن مهره ها ، لوله ای به وجود می آید که ..... درون آن قرار دارد .



۱۵ - می توانید از روی نمودار نام سه استان که بیشترین صنایع مصرفی را در خود جای داده اند را بنویسید.



۱۶ - از روی نقشه ، استان هایی را که صنایع مادر را در خود جای داده اند ،

پیدا کنید و نام آن ها را بنویسید.

۱۷ - آیا فکر می کنی پیشرفت صنایع مادر در اقتصاد کشور ما تاثیر داشته باشد ؟ با دلیل توضیح دهید .

۱۸ - مواد اولیه ی کارخانه ی ماشین سازی از معادن ..... و ..... و ..... تهیه می شود .

جدول ارزشیابی عملکردی و باز خورد توصیفی (اولیاء محترم)	خیلی خوب	خوب	قابل قبول	نیاز به تلاش
درک مفاهیم و مطالب پیک				
مدیریت و برنامه ریزی در انجام تکالیف				
بازخورد های مناسب در روند آموزش				
انگیزه و دقت دانش آموز				
دقت در نوشتن درست				
گوش دادن و توجه به راهنمایی های والدین				
استقلال و عدم وابستگی				
اشتیاق به انجام فعالیت های بیشتر				