



21.cm

29.cm



صفحات تمام رنگی
تعداد صفحات ۷۲
قطع رحلی



www.taakbook.ir




ارزشیابی کیفی - توصیفی ✓

ارزشیابی ماهانه ✓

ارزشیابی عملکردی ✓

ارزشیابی پایان نوبت اول ✓

ارزشیابی پایان نوبت دوم ✓





آزمون ارزشیابی اول دبستان



نام :

نام خانوادگی :

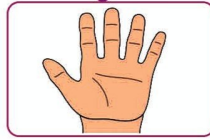
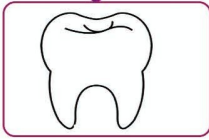
کلاس :





۱. کلمه تصاویری که صدای اولشان « آ » است رنگ کن .






۲. تصاویری که به هم مربوط است با خط به هم وصل کن .



۳. تصاویری که صدای اولشان مثل هم است به هم وصل کن .



۴. عزیزم تصاویری که صدای آخرشان « ب » است را رنگ کن .





آزمون ارزشیابی اول دبستان

نام :

نام خانوادگی :

کلاس :



۱. اضافه کن و بنویس عزیزم .

ر
ر

ترس +

.....

.....

ز
ز

زن +

.....

.....

۲. ترکیب کن و وصل کن و بنویس .

..... = رُست

..... = شه

..... = مَن

..... = ران

ایر

دُ

شید

دُش

۳. عزیزم یک کلمه اضافه کن و بخوان و جمله ای زیبا بساز .

..... : دامن

..... : ایران

..... : آسان

..... : نان

..... : زمستان



۴. فرزندم هر کلمه را در جای مناسب خودش قرار بده.



میز - دریا - آیا - یاس - ایرانی - آینه - روسری - بیرون
دایره - آبادی - ایستاد - یار - ابری - دیداری - سایه - زیارت

ی ی

.....

.....

.....

.....

.....

.....

.....

.....

ای ی ی

.....

.....

.....

.....

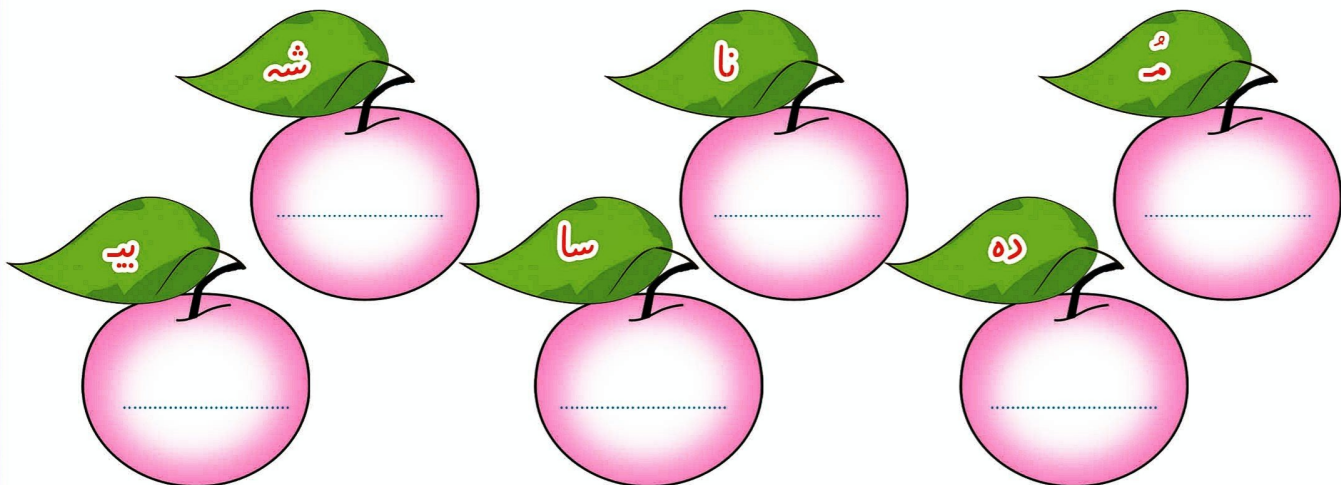
.....

.....

.....

.....

۵. برای هر کدام از ترکیبات زیر کلمه بساز.



۹. جمع هر دو شکل هر قسمترا با عدد و چوب خط بنویس .

۱۰. مربع های شگفت انگیز را با عددهای مناسب کامل کن .



۳	۱	۲		۹	۵	۴	۷	۶
۵	۶	۹	۱		۷	۳		۲
۴	۸	۷	۲	۶			۱	۹
۹	۵	۱	۷	۳	۶	۲	۴	
۷	۲	۸	۵	۱	۴		۹	۳
۶	۳	۴	۹	۸	۲	۱		۷
	۴	۵	۶	۷	۹	۸	۳	۱
۱		۶	۳	۵	۸	۹	۲	۴
۸	۹		۴	۲	۱	۷	۶	۵

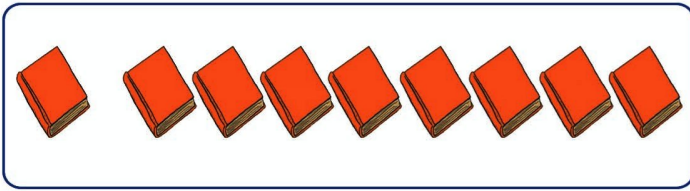
۱۱. دو عدد پیدا کن که جمع آن برابر با عدد بالای ستون باشد .

۷


۴




۱۲. ابتدا جواب ها را بنویس عزیزم سپس هر جمع را به شکل مربوط آن وصل کن .




$۴ + ۳ = \square$



$۳ + ۵ = \square$

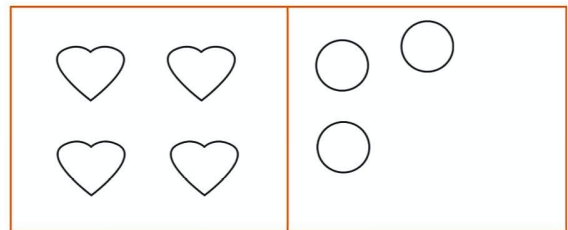
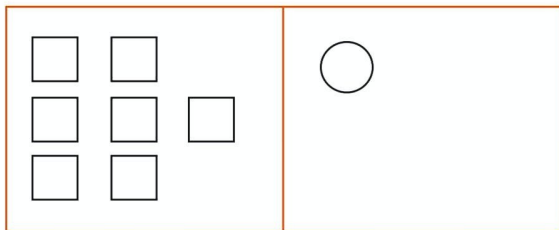
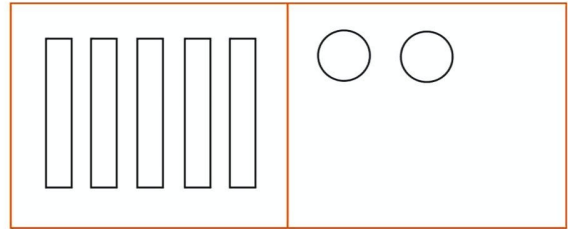
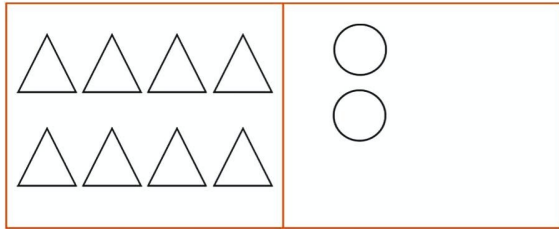


$۶ + ۲ = \square$



$۱ + ۸ = \square$

۱۳. در سمت راست آنقدر شکل بکش که عدد هر دو دسته برابر شود .



۱۴. در جاهای خالی عدد مناسب بنویس .

$\square = ۹$

$۸ < \square$

$۳ > \square$

$۵ > \square$

$۶ > \square$

$۵ < \square$

نیاز به تلاش بیشتر

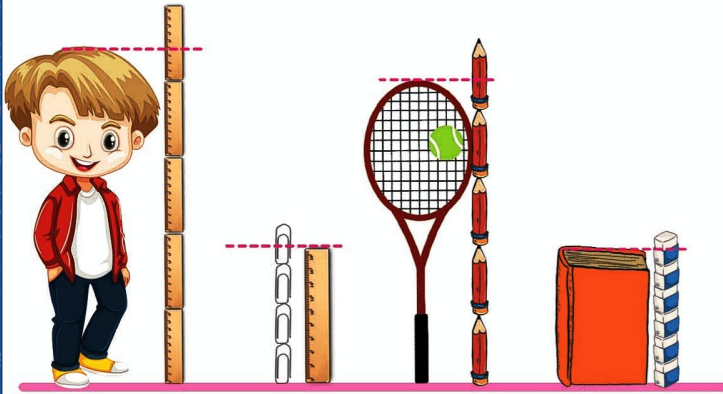
قابل قبول

خوب

خیلی خوب



۶. عدد مناسب را بنویس و جمله ها را کامل کن .



بلندی کودک بین ۴ تا است .

بلندی بین تا است .

بلندی بین تا مداد است .

بلندی کتاب بین تا است .

۷. برای هر قسمت یک جمع یا یک تفریق بنویس و دو قسمت را با هم مقایسه کن و دور علامت مناسب را خط بکش .

..... + + =

>
=
<

..... - =

..... + + =

>
=
<

..... + + =

..... + + =

>
=
<


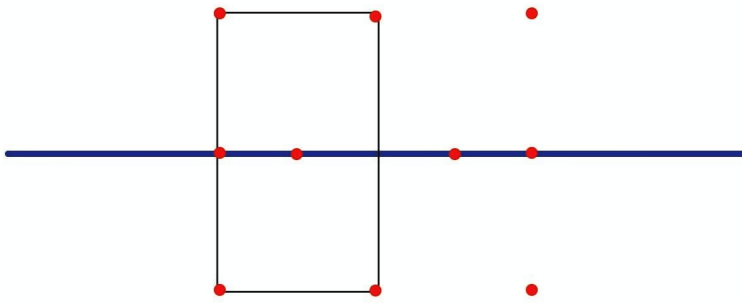
..... - =

۸. ۱۵ پرنده روی درخت نشسته بودند . ۶ تا از آن ها پرواز کردند . چند پرنده روی درخت ماندند ؟






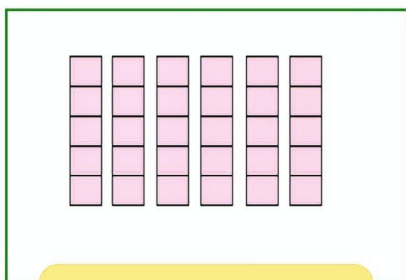
۹. نقاط را با خط کش به هم وصل کن تا دو نیمه ی شکل مثل هم شود.



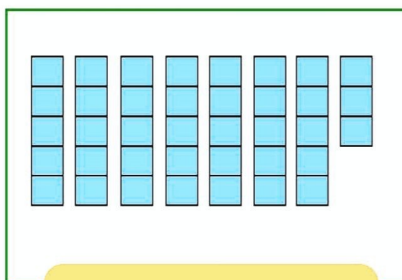
۱۰. عزیزم، اول الگوی بین عددها را پیدا کن و بعد ۴ عدد بعدی را بنویس.



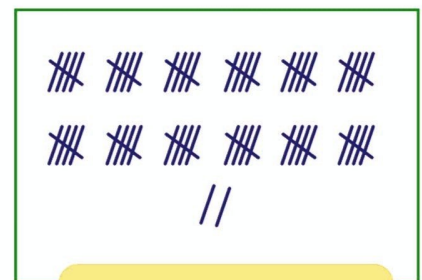
۱۱. عزیزم دور عدد مناسب خط بکش.




۳۰ ۴۵ ۲۵



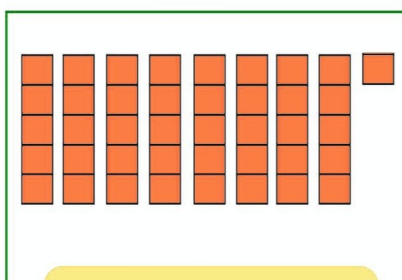
۳۸ ۴۰ ۳۹



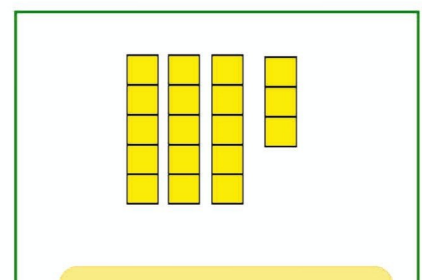
۶۲ ۳۵ ۲۵



۵۳ ۶۲ ۷۰



۶۵ ۵۰ ۴۱



۱۸ ۲۵ ۱۰



۱۲. جاهای خالی را پر کن فرزندم و عدد را بخوان.

۷۰	ده تایی یکی	۴۳	ده تایی یکی	۶۹	ده تایی یکی	۷۵	ده تایی یکی

	ده تایی یکی		ده تایی یکی		ده تایی یکی		ده تایی یکی
	۳ ۵		۱ ۸		۵ ۳		۲ ۷

۱۳. وصل کن.

بیست	چهل و شش	هفده	هفتاد و پنج	سی و شش	شصت و نه
۴۶	۱۷	۲۰	۶۹	۷۵	۳۶

۱۴. عزیزم عددها را بخوان و با حروف بنویس.

۳۶	۷۳	۵۱	۱۹
.....



۱۵. جواب جمع ها را با رنگ کردن مربع ها بدست آور فرزندم.

$9 + 7 + 4 =$	<input type="text"/>	<input type="text"/>	<input type="text"/>	<input type="text"/>	<input type="text"/>
$6 + 3 + 5 =$	<input type="text"/>	<input type="text"/>	<input type="text"/>	<input type="text"/>	<input type="text"/>
$7 + 2 + 8 =$	<input type="text"/>	<input type="text"/>	<input type="text"/>	<input type="text"/>	<input type="text"/>
$4 + 6 + 5 =$	<input type="text"/>	<input type="text"/>	<input type="text"/>	<input type="text"/>	<input type="text"/>

خیلی خوب خوب قابل قبول نیاز به تلاش بیشتر



۱. برای شکل‌ها جمع یا تفریق بنویس؟



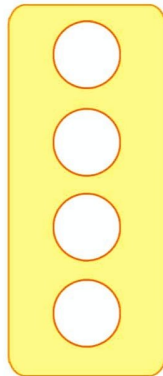
۲. جمع و تفریق‌های زیر را حل کن و علامت $< = >$ بگذار.

$$20 + 10 + 5 + 2 = \square$$

$$60 - 10 = \square$$

$$10 + 5 + 5 + 5 + 5 = \square$$

$$40 - 20 = \square$$



$$25 + 5 + 5 = \square$$

$$70 - 30 = \square$$

$$20 + 20 + 10 = \square$$

$$50 - 30 = \square$$

۳. عددهای قبل و بعد عددهای نوشته شده را بنویس.

	۳۹	
--	----	--


	۷۸	
--	----	--

	۹۳	
--	----	--

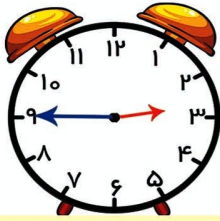
۴. کامل کن.

۸ ده تایی و ۹ یکی می شود ۴۵ می شود ده تایی و یکی
 ۱ ده تایی و ۶ یکی می شود ۵۰ می شود بسته ی ده تایی

۵. ادامه بده.




۶. با توجه به ساعت کامل کن .



کمی به ساعت مانده است

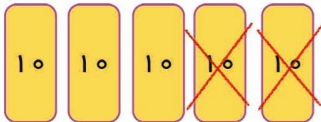


ساعت از گذشته است



ساعت است

۷. برای شکل زیر یک مسئله بنویس و پاسخ بده .



۸. هفت اردک در آب شنا می کردند ۸ اردک دیگر هم وارد آب شدند ، ۵ تا از اردک ها از آب بیرون رفتند . حالا چند اردک در آب شنا می کنند ؟



..... اردک

۹. مریم ۳ دسته ی ده تایی مداد رنگی داشت معلم به او یک دسته ی ده تایی مداد رنگی داد ، حالا مریم چند مداد رنگی دارد ؟



..... مداد رنگی

۱۰. مربع شگفت انگیز را کامل کن .

۹	۳	۸	۶	۵	۱	۷	۲	۴
۴		۵	۷		۲	۳		۱
۲	۱	۷	۴	۳	۹	۸	۶	۵
۶	۹	۴		۷		۱	۵	۲
۷		۳	۱		۴	۹		۶
۸	۲	۱		۹		۴	۳	۷
۳	۴	۶	۸	۱	۵	۲	۷	۹
۱		۲	۹		۳	۵		۸
۵	۸	۹	۲	۴	۷	۶	۱	۳



نیاز به تلاش بیشتر



قابل قبول

خوب

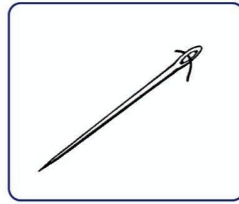

خیلی خوب



۱۸. کدام جسم در آب فرو می رود؟



۱۹. کدام یک از اجسام زیر جذب آهن رُبا نمی شود؟



۲۰. فرزندم چند شکل آهن رُبا بکش.



خیلی خوب خوب قابل قبول نیاز به تلاش بیشتر

