

# گردد

برگ آزمون ریاضی

پایه ی اول ابتدایی ۱



خلاصه ای از تمام فصل های کتاب



# بزرگ آزمون ریاضی گراد پایه ی اول ابتدایی

مدیر پروژه و ناظر علمی:  
سمیرا فتحیه (کارشناس ارشد ریاضی محض)


مؤلف: مریم اسحاقیان



[ انتشارات گراد ]



به الگوهای زیر دقت کن و آن را ادامه بده.



کدام الگو درست است. آن را داخل خط بسته بگذار.



شکل هایی که تعدادشان مثل هم است با خط کش به هم وصل کن.





# بزرگ آزمون ریاضی گراد پایه اول ابتدایی

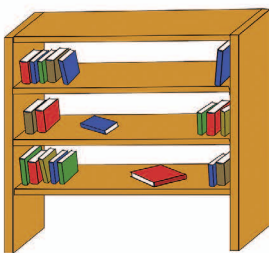


نام و نام خانودگی: آموزگار: کلاس: تاریخ: / /

فرزندم شکل های داخل جدول را در تصویر پیدا کن و به تعداد هر شکل خانه های جدول را رنگ کن.



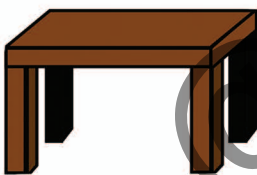

به تعداد انگشتان باز هر دست تصاویر زیر را بکش.



سمت راست کتابخانه گلدان بکش.

سمت چپ کتابخانه گلدان بکش.

روی میز بشقاب بکش.



پایین میز توپ بکش.

به تعداد هر حیوان که در مزرعه می بینی از خانه های جدول رنگ بزن.









تاریخ: / /

کلاس:

آموزگار:

نام و نام خانودگی:

عدد ها را ۸ تا ۸ تا بشمار و به هم وصل کن تا شکل کامل شود. ۶۴



مرغابی روی خانه ی عدد ۱ ایستاده است او می خواهد به برکه ی آب برسد با توجه به توضیحات به او کمک کن.

۱ تا جلو برو ۱۰ تا جلو برو ۲ تا به عقب برگرد ۳ تا جلو برو ۴ تا جلو برو ۵ تا جلو برو

	۱	۲	۳	۴	۵
۶	۷	۸	۹	۱۰	۱۱
۱۲	۱۳	۱۴	۱۵	۱۶	۱۷
۱۸	۱۹	۲۰	۲۱		

حاصل جمع و تفریق ها را بنویس و علامت مناسب را انتخاب کن.

$$۲۰ + ۳۰ = \dots$$



$$۵۰ - ۱۰ = \dots$$

$$۱۰ + ۵ + ۵ - ۵ = \dots$$



$$۲۰ + ۱۰ + ۴ = \dots$$



مهدی ۵ صفحه از کتاب قرآن را خواند. مادرش ۱۱ صفحه ی دیگر را خواند و پدر مهدی ۱۵ صفحه ی دیگر از قرآن را خواند. آن ها روی هم چند صفحه را خوانده اند؟

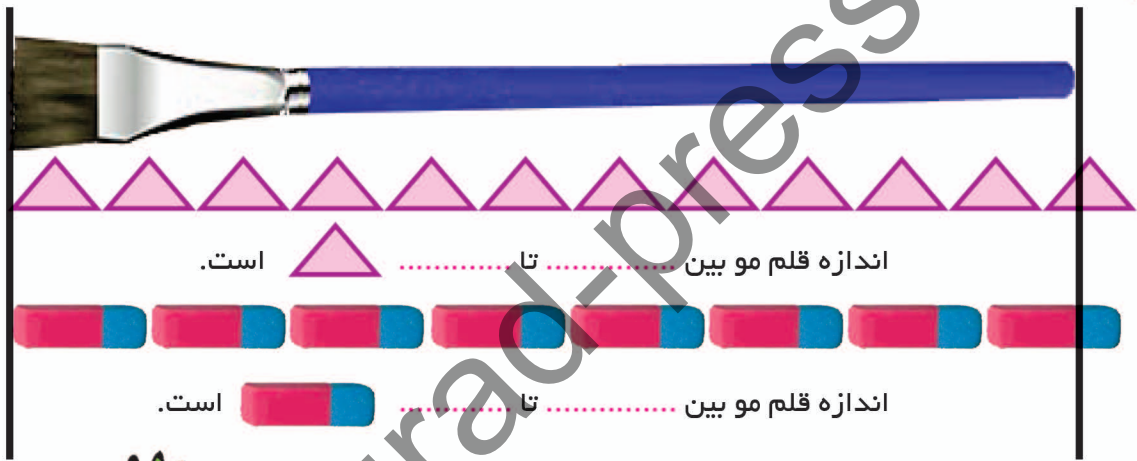


با کمک چوب خط حاصل جمع یا تفریق را حساب کن.

$$۱۵ + ۵ - ۵ = \boxed{\phantom{00}}$$

$$۱۸ - ۸ = \boxed{\phantom{00}}$$

اندازه ی قلم مو بین کدام دو عدد است؟




هویج شماره ی ..... از همه کوتاه تر است.

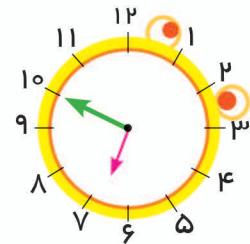
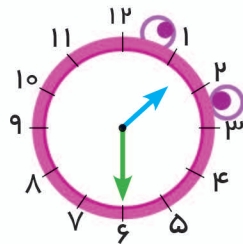
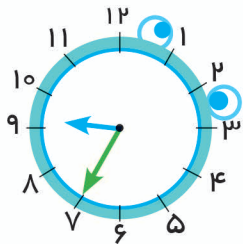
هویج شماره ی ۲ هم اندازه ی هویج شماره ی ..... است.

هویج شماره ی ..... و ..... بلند تر از هویج شماره ی ۲ هستند.

هویج شماره ی ..... بلند ترین هویج است.



فرزندم جاهای خالی را کامل کن.



زمان بین ساعت ..... و ..... است. زمان بین ساعت ..... و ..... است. زمان بین ساعت ..... و ..... است.



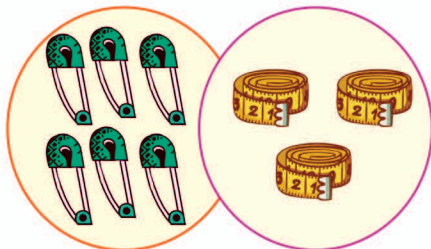
تاریخ: / /

کلاس:

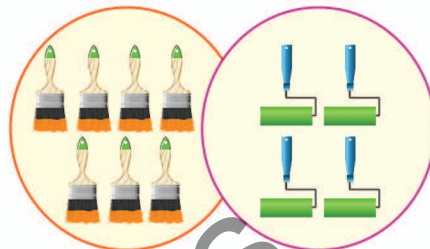
آموزگار:

نام و نام خانودگی:

برای هر دسته از شکل ها یک عبارت جمع بنویس سپس جواب آن را بنویس. 

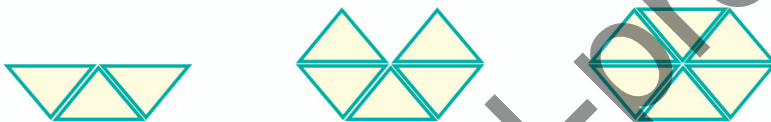


$$\bigcirc + \bigcirc = \bigcirc$$



$$\bigcirc + \bigcirc = \bigcirc$$

حاصل جمع را با کمک چوب خط پیدا کن و عبارت جمع را بنویس. 



$$\dots + \dots + \dots = \dots$$

پاسخ را بنویس و علامت مناسب  $\langle$   $=$   $\rangle$  را انتخاب کن. 




$$\dots - \dots = \dots$$



$$\dots + \dots + \dots = \dots$$

بلندی آب نبات چوبی بین ..... تا ..... است. 



بلندی آب نبات چوبی کوتاه تر از ..... است. 



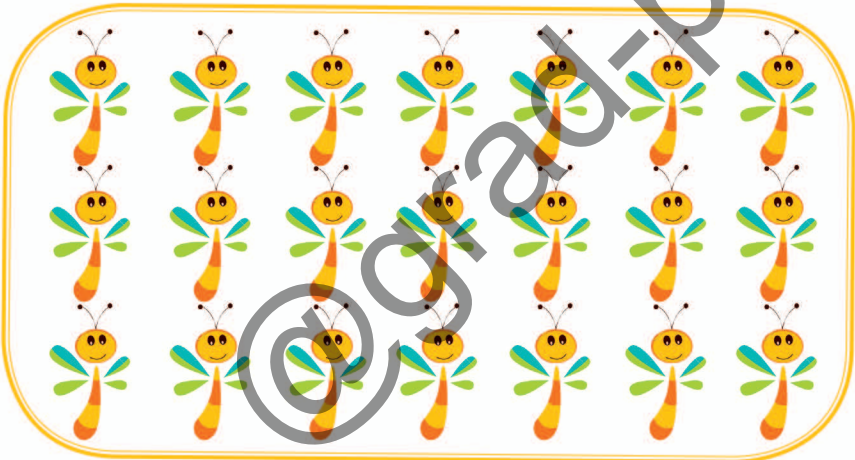

# برگ آزمون ریاضی گراد پایه اول ابتدایی

۲۰




نام و نام خانودگی: آموزگار: کلاس: تاریخ: / /

دسته های ده تایی درست کن و جدول را کامل کن. 



جاهای خالی را با عدد های مناسب کامل کن. 





# برگ آزمون ریاضی گراد پایه اول ابتدایی

# ۱۸



تاریخ: / /

کلاس:

آموزگار:

نام و نام خانودگی:

جاهای خالی را با عدد مناسب کامل کن.




اعداد را ۳ تا ۳ تا به هم وصل کن تا شکل کامل شود و به دلخواه آن را رنگ بزن.



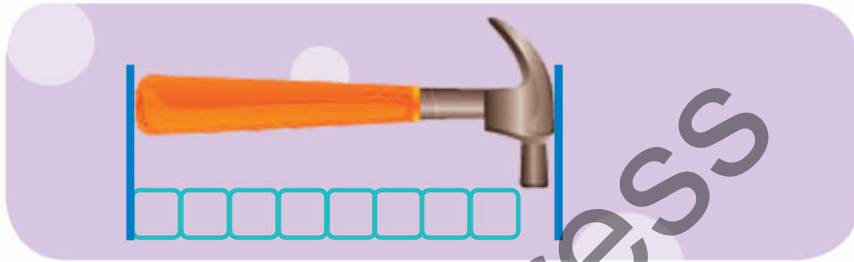
الگو را کامل کن.



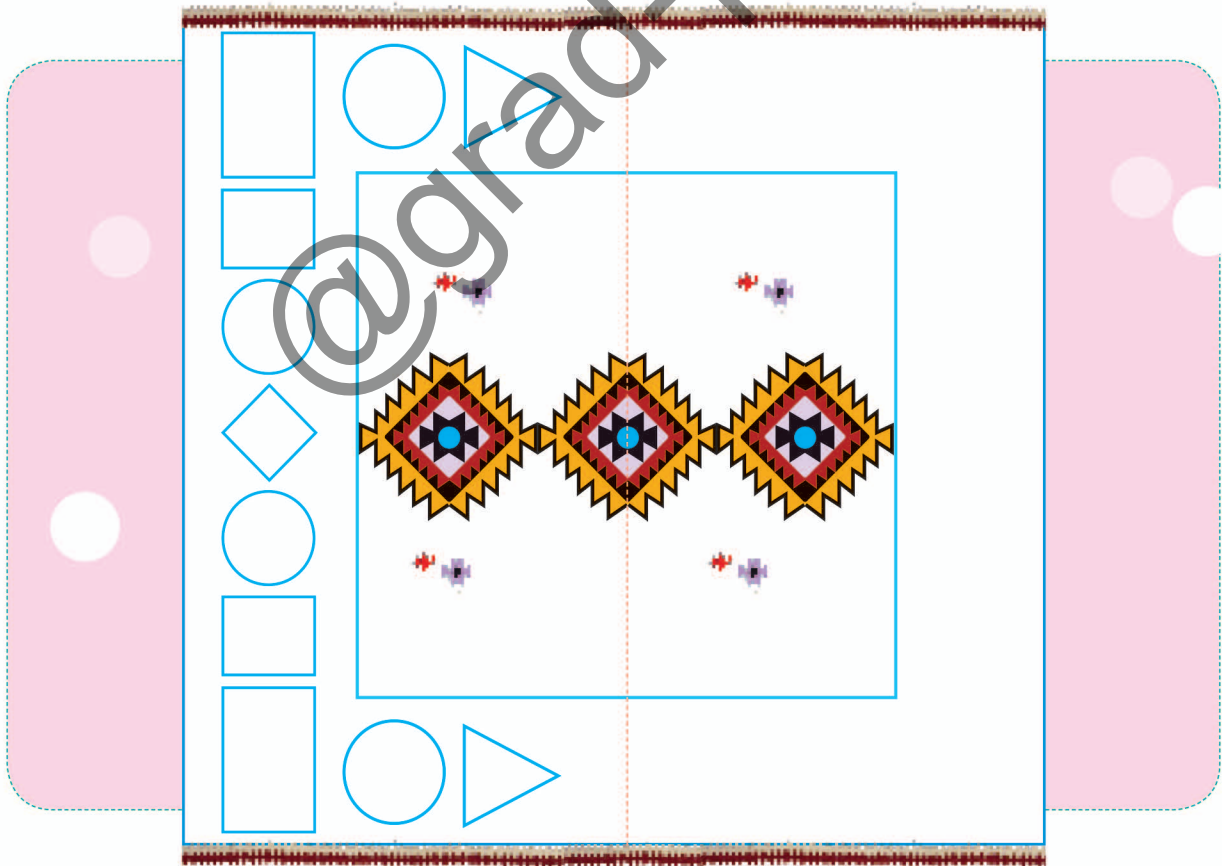
اندازه ی شانه کمی بلند تر از ..... است.  است. 



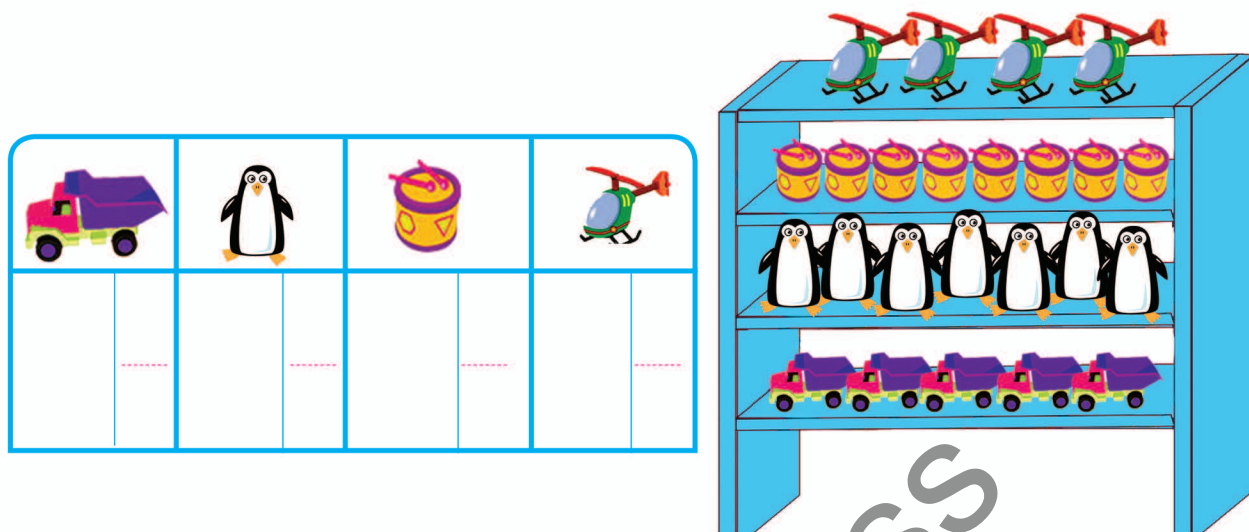
اندازه چکش کمی بلندتر از ..... است؟



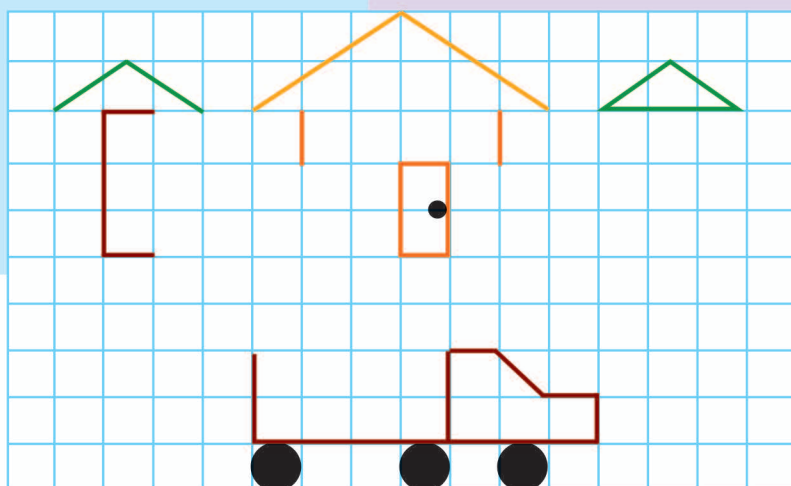
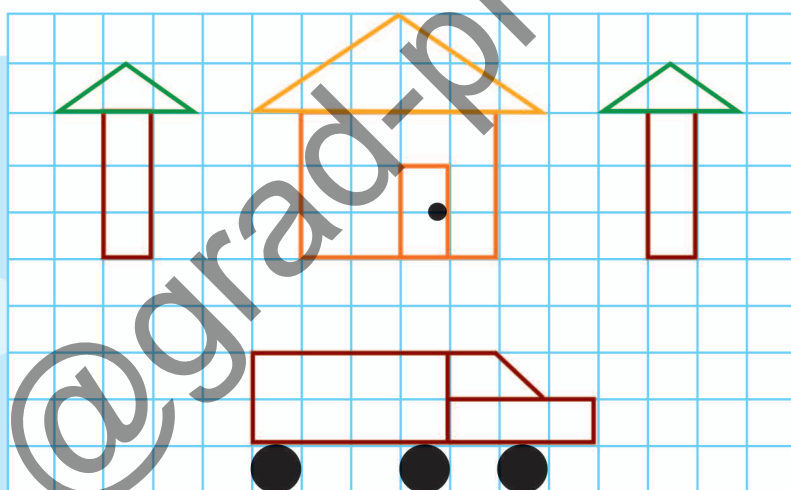
با شابلون سمت راست شکل را کامل کن. 



اسباب بازی های هر قفسه را با چوب خط بشمار و عدد آن را بنویس.

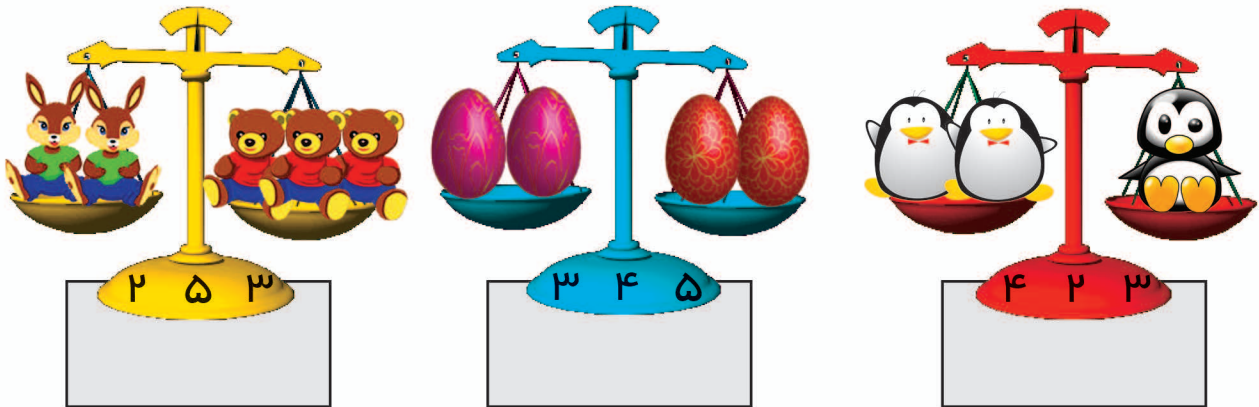


با استفاده از خط کش شکل بالا را در قسمت پایین کامل کن.






شکل های هر دسته روی هم چند تا است؟ دور عدد مناسب را خط بکش و زیر آن چوب خط بکش.



اگر به تعداد شکل های سمت راست از شکل های سمت چپ برداریم در سمت چپ چند تا می ماند؟ عدد آن را بنویس.

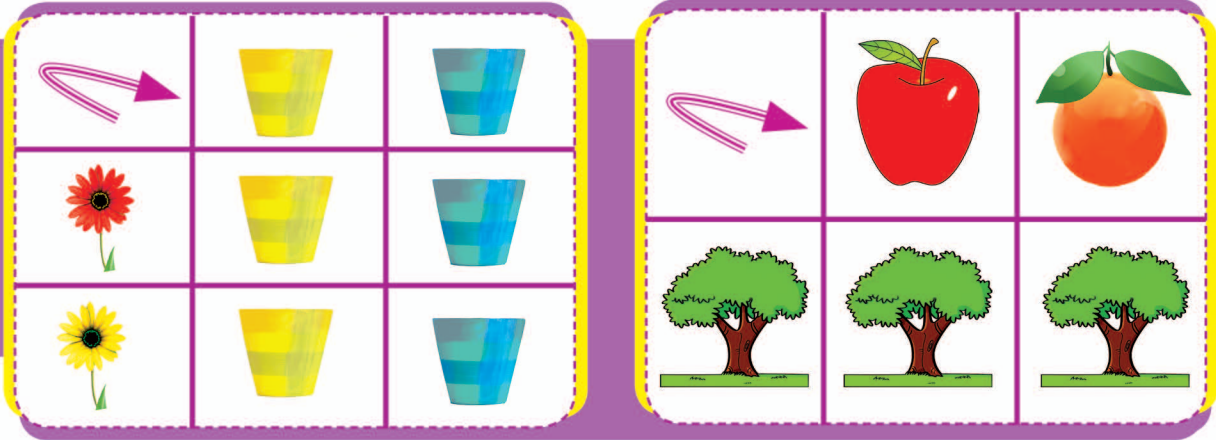


الگوها را ادامه بده.

○-۵-○-۵-.....

۲-۳-۳-۲-.....

کامل کن.



گوشه های هر شکل را با کشیدن گردی مشخص کن و به تعداد لبه ها چوب خط بکش.




با رنگ کردن چینه ها حساب کن شکل های سمت چپ و راست با هم چند تا است؟



انگشتان یک دست را باز کن و به تعداد پرندگان روی درخت انگشتان خود را ببند و به تعداد

انگشت های باقی مانده چوب خط بکش.




مریم کوچولو در حال نماز خواندن چادری بر سر دارد که روی آن شکل دارد. به تعداد هر شکل یک خانه رنگ کن و یک چوب خط بکش.

با کشیدن چوب خط نشان بده هر شکل از چند چینه درست شده است؟ به تعداد یکی بیش تر از چوب خط ها، از گردی های اطراف دست رنگ بزن.




با استفاده از شکل های مقابل قطار بکش.

به تعداد شکل های سمت چپ از شکل های سمت راست جدا کن.



به هر دسته از شکل های زیر یک شکل اضافه کن، عددی را که نشان می دهد به انگشت های مربوط به خود وصل کن.



یکی قبل و یکی بعد از تعداد شکل های هر دسته را بکش و به اندازه ی شکل های داخل گردی، از انگشتان دست رنگ بزن.

