



21.cm

29.cm



www.taakbook.ir



نام و نام خانوادگی :

پایه : چهارم

نام آموزگار :

تاریخ :

پیک آدینه

شماره ۱

چهارم دبستان



بودجه بندی محتوایی :

قرآن و هدیه های آسمان- درس اول دانه ای که نمی خواست بروید.
ریاضی: درس ۱ اعداد و الگوها- راهبرد حل مسئله - عدد نویسی
فارسی و نگارش: درس ۱ - آفریدگار زیبایی
علوم: درس ۱ - زنگ علوم- روش علمی
مطالعات اجتماعی: درس ۱ - همسایه های ما



هدیه های آسمان

۱- دانش آموز عزیز کلمات قرآن را بخوانید و حروف ناخوانا را مشخص کنید.

رَحِيمًا- آمِنُوا- هَدَى- صَلَوَاه

۲- کلمات زیر را بخش بخش کن و بخوان.



يُوصَلُ ←

يَسْتَلُونَ ←

قُلُوبِنَا ←

يُقَاتِلُونَ ←

۳- به نظر تو آیا پروانه دوست خوبی برای دانه بود؟ فکر کن و بنویس.

۴- طبق گفته های ریشه ی درخت هلو، چه چیزهایی برای رشد گیاه لازم است.(۴مورد)

۵- همه نیازهای موجودات زنده را بر طرف نموده است.



چهارم دبستان

۱۱ - میوه فروشی هندوانه را وزن کرد ترازو $\frac{6}{3}$ کیلوگرم را نشان داد و بعد هندوانه ی دیگری را وزن کرد که وزن آن $\frac{2}{1}$ کیلوگرم کمتر از او بود. به نظر شما وزن هنداونه دوم چند کیلوگرم است؟

۱۲ - فرزندم اگر قد فاطمه $\frac{1}{1}$ متر باشد، قد دوستش $\frac{2}{5}$ تا $\frac{4}{5}$ متر از او بلندتر باشد قد دوستش چند متر است؟

۱۳ - حاصل عبارتهای زیر را به دو صورت بدست آورید.

 به طور تقریبی $\frac{3}{6} + \frac{1}{5} = \dots\dots\dots$

$\frac{3}{6} + \frac{1}{5} = \dots\dots\dots + \dots\dots\dots = \dots\dots\dots$ به طور تقریبی

 به طور تقریبی $6 - \frac{3}{9} = \dots\dots\dots$

$9 - \frac{3}{9} = \dots\dots\dots - \dots\dots\dots = \dots\dots\dots$ به طور تقریبی

۱۴ - فرزند پرتلاشم با توجه به آنچه در درس آموختی تبدیل کن و جاهای خالی را بنویس.

$\frac{6}{7}$ سانتی متر = میلی متر

$\frac{5}{9}$ سانتی متر = میلی متر

۵ میلی متر = سانتی متر

۲۸ میلی متر = سانتی متر

۱۵ - فرزندم با متر قد خودت و دو نفر از اعضای خانواده تان را اندازه بگیرد با اعشار و عدد مخلوط بنویسد.

دانش آموز پرتلاش، فصل بدن ما (۲) را مطالعه کنید و با توجه به آنچه آموختی به سوالات زیر پاسخ صحیح دهید.

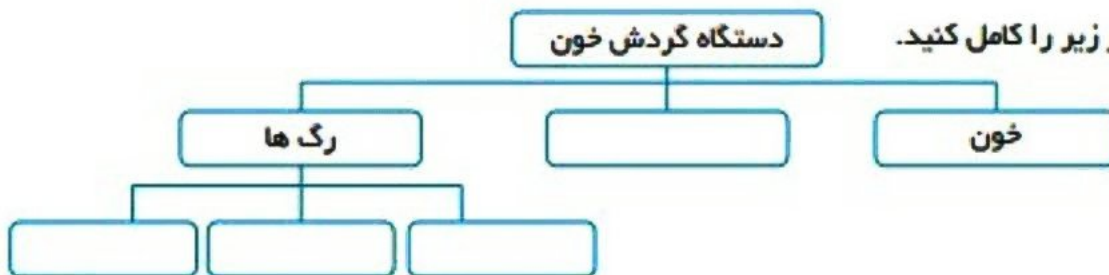


علوم

۱۶ - رگ ها لوله هایی هستند که خون را حمل می کنند، رگ های بدن عبارتند از

دستگاه گردش خون

۱۷ - فرزندم نمودار زیر را کامل کنید.





چهارم دبستان

۱۱ - جاهای خالی را با عبارت مناسب کامل کنید.

الف) احتمال اینکه از این کیسه مهره‌ی قرمز بیرون بیاید

ب) احتمال اینکه از این کیسه مهره‌ی آبی بیرون بیاید

۱۲ - اگر یک تاس را ۱۰ بار بیندازیم احتمال آمدن عدد زوج چقدر است. چرا؟

۱۳ - کلمه در ریاضیات احتمال برابر را با چه کسری نشان می دهند.

● $\frac{1}{2}$ (د)

● $\frac{2}{1}$ (ج)

● $\frac{4}{8}$ (ب)

● $\frac{3}{9}$ (الف)

۱۴ - دو پیشامد مثال بزنید که احتمال اتفاق افتادن آن به صورت عبارت زیر باشد

(به طور حتم اتفاق می افتد)

(به احتمال برابر اتفاق می افتد)

۱۵ - اگر تاس را پرتاب کنیم، کدام یک به طور حتم اتفاق می افتد.

● عددی کمتر از ۵ بیاید (ب)

● عددی مضرب ۲ بیاید (الف)

● عددی بیشتر از ۷ بیاید (د)

● عددی بیشتر از ۱ بیاید (ج)



۱۶ - کلمه فعالیت های انسان گاهی به زیستگاه های طبیعی آسیب می رسانند در هر یک از موارد زیر مشخص کنید که فعالیت مورد نظر چه آسیبی به محیط زیست می رساند؟

الف) احداث جاده در یک منطقه ی جنگلی

ب) احداث یک کارخانه ی صنعتی در یک منطقه ی ساحلی

۱۷ - عزیزانم، کشاورزانی که در مزرعه ی کنار رودخانه کار می کنند، برای حاصلخیزی خاک مزرعه، از کود شیمیایی

استفاده می کنند، این کار چه تاثیری بر منطقه دارد؟



نام و نام خانوادگی :

پایه : چهارم

نام آموزگار :

تاریخ :

بودجه بندی محتوایی :

قرآن و هدیه: درس ۹-۱ - خدا چون ممنونم
ریاضی: فصل ۷- آمار و احتمال: نمودار و ...
فارسی: درس ۱۷- مدرسه هوشمند
علوم: درس ۱۳- زیستگاه
مطالعات اجتماعی: درس ۲۲- روزهای مهم



پیک آدینه

شماره

۳۰

چهارم دبستان



هدیه های آسمان

۱- دلبندهم: معنی کلمات قرآنی را بنویسید.

حبل:	خلق:	نا:	لا:
شمس:	رزق:	بصیر:	ملانکه:

۲- کلم این سخن از چه کسی است. (از خواندن قرآن غافل نباشید)

- الف) امام علی (ع) ب) امام سجاده (ع) ج) پیامبر اکرم (ص) د) هیچکدام

۳- کلم معنی آیه زیر را بنویسید و بگویید در چه موردی نازل شده است؟

وَجْوهٌ یُّومِنُذِ ناضِرَةٌ وَّ وَجْوهٌ یُّومِنُذِ باسِرَةٌ

۴- کلم شما می خواهید در مزرعه اعمالتان چه چیزهای بکارید؟

۵- چرا در روز قیامت کسانی که کارهای خوب انجام داده اند، شاد و خندان هستند؟

پیک آدینه ۱۵



۸- در متن زیر چند غلط املایی دارد؟ عزیزم بخوان و درست آن را بنویس.

خلاصه هرچه به روز ورود مهمان محرابان نزدیک می شدیم طیش قلبها تندتر می شود خوشحال و با نشاط به حیات رفتیم. بچه ها بی صبرانه ساعت ورود را می پرسیدند و مرطوب به مسولان مدرسه می گفتند: پس کی به سمت محل دیدار و سخنرانی حرکت می کنیم؟

هنوز سخنان ایشان را به خاطر دارم که فرمودند: آن وقت که ما گلستان می خاندیم معنایش را نمی فهمیدیم.

۹- معنی (کشید) را در جمله های زیر بنویسید.

نسیم ملایم و خنک با مدادی دستی به صورتم کشید.....

مریم ترسید و با نگرانی فریاد کشید.....

اوتفا سنتی زیبایی کشید.....



ریاضی

۱۰- فرزند گلم با رقم های (۵ و ۷ و ۲ و ۰ و ۱) کوچکترین عدد را بنویسید که بر ۲ و ۵ بخش پذیر باشند.

۱۱- فرزندم تقسیم های زیر را حل کنید و بنویسید که بخش پذیر هستند یا بخش پذیر نیستند.

$$۷۲۸ \overline{) ۴}$$

$$۶۵ \overline{) ۵}$$

$$۵۵۳ \overline{) ۷}$$

$$۸۴ \overline{) ۶}$$



ریاضی

۱۱- فرزندم به نظر شما اگر قیمت یک مداد ۷۶۰ تومان باشد و با ۴۵۶۰ تومان چند مداد از همان می توان خرید؟

۱۲- فرزند گلم: رضا هر روز ۹۳۵ دقیقه درس می خواند او هر روز چند ساعت درس می خواند؟

۱۳- فرزند گلم: اگر ۳۰ جلد کتاب ریاضی ۴۵۶۰ صفحه داشته باشد هر جلد کتاب ریاضی چند صفحه دارد؟

۱۴- فرزند خوبم با توجه به عبارت درستی هر یک از بخش های تقسیم را بنویسید سپس تقسیم مربوط به آن را حل کنید؟

$$\begin{array}{ccccccc} (14 \times 32) + 9 = 457 & \rightarrow & & & & & \\ \downarrow & & \downarrow & & \downarrow & & \\ \dots & & \dots & & \dots & & \dots \end{array}$$

$9 < 32$

۱۵- عدد شش رقمی بنویسید که رقم صدگان آن ۸ ، رقم دهگان و صدگان هزار آن ۶ و دهگان هزار آن ۲ و بقیه رقم هایش صفر و پنج هستند و بر ۱۲ بخش پذیر باشند؟

۱۶- دانش آموز خوبم فضا پیمایی در ۴۵ دقیقه ۹۷۹۲۰۰۰ کیلومتر راه را طی می کند . این فضاپیما در یک ساعت چند کیلومتر می پیماید؟



علوم

۱۷- جاهای خالی را با کلمه مناسب تکمیل کنید.

محل تشکیل سنگ های رسوبی..... می باشد.

مهمترین ویژگی سنگ های رسوبی آن های می باشد.

سنگ مرمر از دگرگونی سنگ به وجود می آید.

سنگ پا از سنگ می باشد.



پیک آدینه ۲۵



۶- دانش آموز خوب با توجه به معانی متفاوت شیر، جمله بنویسید.

شیر:

شیر:

شیر:

۷- فرزندانم کلمات بهم ریخته را مرتب کنید و جمله بنویسید؟

گرفت - موش - دست - و - برد - کله ی - گرفتار - بازی گوش - شد - موش

شیر - دام - گیر - صیاد - افتاد - گیر - عوض - شیر - افتاد - کرک

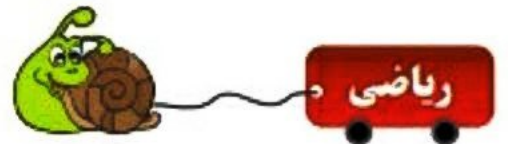
۸- با توجه به معنی کلمات زیر، املاهای درست آن واژه ها را بنویسید.

..... حول و هوش = اطراف ،

..... یک قازی = بی ارزش ،

..... حراس = ترس ،

..... متقیر = عصیان ،



۹- رامین می خواهد با ادامه دادن یکی از خطوط زیر، خطی عمود بر خط (ه) رسم کند اما فقط اجازه دارد یکی از خطها

را ادامه دهد شما فکر می کنید رامین کدام خط را باید ادامه دهد؟



ه ۱- هر گاه از برخورد دو خط زاویه ی راست به وجود می آید آن دو خط را عمود بر هم می گویند حالا شما دو خط عمود

بر هم رسم کنید (با استفاده از گونیا)



چهارم دبستان



ریاضی

۱۰ - حاصل عبارت های زیر را بدست آورید.

$$\frac{12}{16} - \frac{7}{16} =$$

$$\frac{12}{24} + \frac{1}{4} =$$


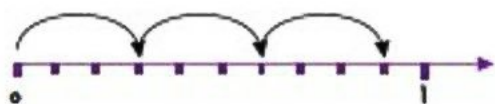
$$\frac{16}{18} - \frac{1}{2} =$$

$$7 \times \frac{2}{25} =$$

$$\frac{3}{10} + \frac{3}{5} =$$

$$\left(5 \times \frac{3}{20}\right) - \left(\frac{3}{10} + \frac{5}{20}\right) =$$

۱۱ - عملیات مربوط به هر محور را بنویسید.



۱۲ - کسرهای زیر را ساده کنید.

$$\frac{10}{25} =$$

$$\frac{7}{28} =$$

$$\frac{36}{54} =$$

$$\frac{25}{75} =$$

$$\frac{24}{36} =$$

$$\frac{9}{18} =$$

۱۳ - حاصل ضرب های زیر را به روش گسترده بدست آورید.

$$5 \times 218 =$$

$$524 \times 30 =$$



علوم

۱۴ - دوست عزیزم جاهای خالی را کامل کن.

باتری ها می توانند انرژی را ذخیره کنند.

انرژی از پرمصرف ترین انرژی ها در سراسر جهان است.

در یک مدار الکتریکی الکتریسیته به وسیله از باتری جاری می شود.



نام و نام خانوادگی :
 پایه : چهارم
 نام آموزگار :
 تاریخ :

پیک آدینه

شماره
۲۵
 چهارم دبستان



بودجه بندی محتوایی :
 قرآن و هدیه های آسمانی: درس ۱۷ - خانم بیاری - آقای بیاری
 ریاضی: فصل ۶ - اشکال هندسی - راهبرد حل مساله، چهارضلعی
 فارسی بخوانیم و بنویسیم: درس ۱۵ - شیر و موش
 علوم: فصل ۱۱ - بی مهره ها - کره ها و ...
 مطالعات اجتماعی: درس ۱۸ - پوشش گیاهی و زندگی جانوری در ایران



هدیه های آسمان

وارزقنا وانت خیر الرازقین

۱- اتصالات رادر آیه ی زیر با فلش مشخص کنید.

معنی این عبارت قرآنی را بنویسید؟

۲- عزیزم در ابتدایی چند سوره ی قرآنی حروف مقطعه قرار دارد. (میتوانی به قرآن مراجعه کنی یا از والدین کمک بگیری)

۳- عزیز گلم، معنی درست کلمات قرآنی را علامت بزنید.

- | | | | | |
|------------|--------------|----------|----------------|-----------------|
| ● روزی بده | ● روزی دهنده | ● رازقین | ● قلوب - دل ها | ● قلوب - جان ها |
| | | | ● بهترین | ● بهتر |

۴- آیه ی زیر را بخوانید ، معنی آن را بنویسید و بگویند این آیه در چه مورد توصیه کرده است.

ویزکیهم و یعلمهم الكتاب و الحکمه



فارسی

دانش آموز پرتلاش :درس شیر و موش از سروده های ایرج میرزا شاعر معاصر ایران است که در سال ۱۲۵۱ هجری در تبریز متولد شد و در سال ۱۳۰۴ در تهران چشم از جهان فرو بست.

۵- فرزندم کلمه هایی را که «هم آهنگ» یا هم قافیه هستند را هم رنگ کنید.

- خفت دریاوت دندان کنش زندش نباد جان آشتت میاد

پیک آدینه ۲۴



۶- خوبم هم معنی کلمه های زیر را بنویسید.

اندوخت یاد گرفت ناپسند پرهیز

۷- برای صفت های زیر با توجه به متن درس، اسم مناسب بنویسید.


مغرور جلیل بی گناه
حیرت انگیز کهنسال درخشان

۸- کلمه هایی را که از دو قسمت تشکیل شده است را مشخص کنید و قسمت هایش را جدا کنید و بنویسید.

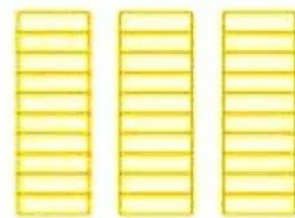


دلنگ - آتشبار - عطار - میان تهی - اندوخت - وصف ناپذیر - کهنسال - بلندآواز - طغیان - سیلاب
بنده پروری - هنرنمای - عالم - مشک

مثال : دلنگ : دل + نگ

.....
.....
.....



۹- با توجه به شکل مقابل و واحد، عددی را که هر شکل نشان میدهد بنویسید؟



۱۰- فرزندم حاصل عبارت روبه رو به طور تقریبی چقدر است؟

$$9/8 - 3/4 - 4/6 =$$



نام و نام خانوادگی :

پایه : چهارم

نام آموزگار :

تاریخ :

پیک
آدینه

شماره

۲۴

چهارم دبستان



بودجه بندی محتوایی :

قرآن و هدیه های آسمانی: درس ۱۶ - اسب طلایی
ریاضی: فصل ۵- اعداد اعشاری و مخلوط- مرور فصل
فارسی بخوانیم و بنویسیم: درس ۱۴ - ادب از که آموختی؟
علوم: بدن ما (۲) سرخک، سیاهرگ، مویزک، نبض، تصفیه ی خون
مطالعات اجتماعی: درس ۱۸ پوشش گیاهی و زندگی جانوری در ایران



هدیه های آسمان

۱- دانش آموز خوب داستان حضرت زکریا را بخوان و بگو خدای مهربان مژده ی چگونه فرزندی را به حضرت زکریا(ع) دارد؟

۲- فرزندم با توجه به درس معنی عبارت قرآنی زیر را کامل کنید. **واذکر اسم ربک بکره و اصیلا**

و یاد کن ن را و شام

۳- در درس موضوع دوچرخه ی احسان را خواندیم کلم بگو که احسان روی دوچرخه ی خود چه نامی گذاشت؟

۴- عزیزم شما از آیه ی زیر چه درسی می گیرید لطف کنید معنی آن را بنویسید؟ **ان اللہ بامرکم ان تودوا الامانات الی اهلها**



فارسی

عزیز پرتلاش درس ادب از که آموختی را بخوان و به سوالات زیر پاسخ بده

۵- مانند مثال نمودار مربوط به هر جمله را بنویسید (محمد شیشه را شکست)



باغبان درخت را کاشت



خواهرم غذا را خورد.



الناز گلدان را آورد.



نام و نام خانوادگی :

پایه : چهارم

نام آموزگار :

تاریخ :

بودجه بندی محتوایی :

قرآن و هدیه های آسمان درس ۱۰ - روشن ترین شب
ریاضی: فصل ۳ - تقسیم دورقی بر یک رقی - تقسیم چندرقی بر ۲ و ۳ رقی
فارسی و نگارش: درس ۷ - مهمان شهر ما
علوم: درس ۶ - سنگ ها و انواع سنگ ها
مطالعات اجتماعی: درس ۹ - نخستین شهر ما چگونه بوجود آمد؟



پیک
آدینه

شماره

۱۴

چهارم دبستان



هدیه های آسمان

۱- با توجه به سوره اخلاص « آیه ۳ » هنگام قرائت از این آیه چه چیزی را درک می کنید، در یک سطر بنویسید.

.....

لَا إِلَهَ إِلَّا هُوَ خَالِقُ كُلِّ شَيْءٍ

۲- معنی کنید

.....

عزیزم بگو منظور از خالق چیست؟

۳- فرزند خوبم: در زمانی که هنوز حضرت محمد(ص) به پیامبری برگزیده نشدند عادت های زشت مردم عربستان چه بود؟

.....

۴- عزیزم به نظر شما چرا به پیامبر محمد امین می گفتند؟

۵- فرزندم به نظر شما اولین کسانی که به پیامبر (ص) ایمان آوردند، چه کسانی بودند؟

۶- فرزندم به نظر شما اولین آیه ای که جبرئیل بر پیامبر (ص) نازل کرد چه بود و در چه سوره ای از قرآن است؟

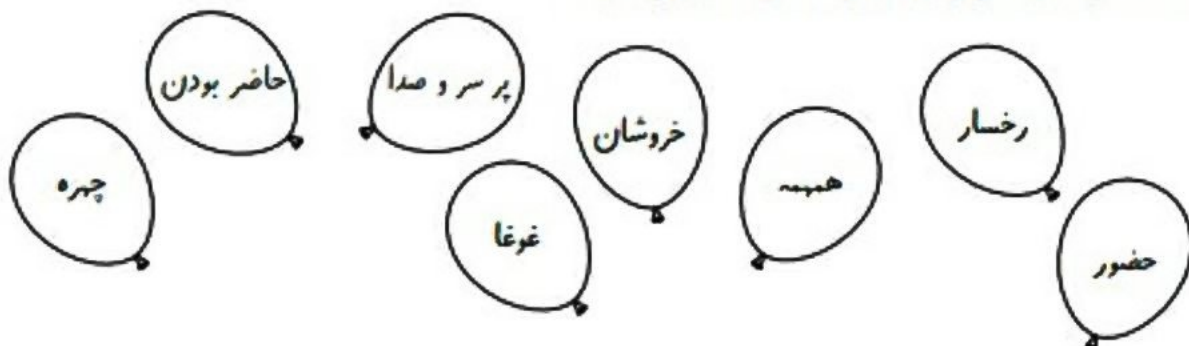
.....

پیک آدینه ۱۴



فارسی

۷- کلمه های هم معنی را با یک رنگ ، رنگ آمیزی کنید.



۸- فرزند گلم: معنی کلمات زیر را بنویس.

خوددار: به کسی می گویند که.....

خود پسند به کسی می گویند که.....

خودکار به کسی می گویند که.....

۹- برای هر کلمه عزیزم دو صفت مناسب بنویس.



شیر



انسان



آسان



خورشید

Eight empty rectangular boxes for writing adjectives.

۱۰- کلمات بهم ریخته را مرتب کنید و یک جمله و بنویسید.

حس ، وجود ، خنکی ، صبح ، کردم ، هوا ، را ، تمام ، با

شده ، کوچه ، پر ، جمعیت ، و ، بود ، از ، خیابان

Two horizontal dotted lines for writing a sentence.



نام و نام خانوادگی :

پایه : چهارم

نام آموزگار :

تاریخ :

بوجه بندی محتوایی :

قرآن و هدیه های آسمانی - روشن ترین شب درس ۱۰
ریاضی فصل ۳- بخش پذیری - تقسیم - محاسبه ی تقریب
فارسی و نگارش: درس ۷- مهمان شهر ما
علوم: درس ۶- سنگ ها - استفاده از سنگ ها در صنعت و زندگی
مطالعات اجتماعی: درس ۱۰- مورخان چگونه گذشته را مطالعه می کنند



پیک آدینه

شماره

۱۵

چهارم دبستان



هدیه های آسمان

۱- فرزندم آیا می دانید (الله اوالله) یعنی چه؟

۲- نام پدر حضرت مریم (س) چه بود؟

۳- فرزندم حضرت محمد(ص) در چه سالی و چه ماهی به پیامبری برگزیده شدند؟

۴- خداوند با مبعوث کردن پیامبر (ص) به مردم چه هدایایی داد؟

۵- پیامبر اکرم (ص) به می رفتند و در آنجا به و باخدا می پرداختند.

۶- در شب بعثت اولین پیام وحی را فرشته ای بنام بر پیامبر (ص) نازل شد



فارسی

۷- دانش آموز گلم بانوجه به این مثال دو جمله بنویسید که (اما) در ان به کار رفته باشد

ساموران باغ وحش همه جای شهر را گشتند اما شیر کوچولو را پیدا نکردند.

جمله اول :

جمله دوم :



نام و نام خانوادگی :

پایه : چهارم

نام آموزگار :

تاریخ :



پیک
آدینه

شماره

۲۰

چهارم دبستان



بودجه بندی محتوایی :

قرآن و هدیه های آسمانی: درس ۱۳ - خاله نرگس
ریاضی: فصل ۵- عدد مخلوط و اعشاری
فارسی بخوانیم و بنویسیم: درس ۱۱ فرمانده ی دل ها
علوم: درس ۶- بدن ما (۱) بخش های مختلف هر سلول- تقسیم و رشد سلول
مطالعات اجتماعی: درس ۱۴- سفری به کرمانشاه



هدیه های آسمان

۱- در عبارت قرآنی زیر حروف ناخوانا را مشخص کنید.

استغفر الله الذي لا اله الا هو الحي القيوم و اتوب اليه

۲- این سخن از کیست؟ (ای علی! برترین سخن قرآن است).....

۳- صله ی رحم یعنی چه؟.....

۴- دیدار با خویشاوندان چه فایده ای دارد؟.....

۵- پیامبر اکرم (ص) درباره ی دیدار خویشاوندان چه فرموده اند؟.....

۶- عزیزم خاله نرگس از چه چیزهایی تعریف می کرد؟.....



فارسی

۷- جمله ها را با کلمه ی مناسب تکمیل کنید.

الف) حسین می گفت: مهمترین نقطه برای آزادی خرمشهر محور است.

ب) آزادی خرمشهر همه مردم ایران بود.

۸- عزیزم شما می دانی که کلمه ای که اسم قبل از خود را توضیح می دهد صفت نامیده می شود.



بنابر این برای هر کلمه یک صفت مناسب بنویسید مانند نمونه

مدرسه = مدرسه ی زیبا

ب) کتاب

الف) آسان

د) پیرمرد

ج) ایران

۹- معنی واژه های زیر را عزیزم بنویس.

	مختصر		دلنگ		دُر
	صیبی		حومه		عملیات

۱۰- فرزند خوبم معنی شعر زیر را به زبان ساده در یک سطر بنویسید؟

ملک ایران یکی، گلستان است ما گل سرخ این گلستانیم.

۱۱- فرزندم در هر گروه از کلمات، یک کلمه با بقیه ناهماهنگ است آن را مشخص کنید.

- الف) سرباز - پاسدار - دشمن - بیجی ● ب) خرمشهر - جهان آرا - شلچه - خونین شهر ●
- ج) وصف ناپذیر - تسخیر ناپذیر - شکفت انگیز - خستگی ناپذیر ●



ریاضی

۱۲- فرزندم خوبم هر کدام از نقطه های مشخص شده ی روی محور چه عدد اعشاری را نمایش می دهد.



پیک آدینه ۱۰



فارسی

۵ - مخالف هر کلمه را رو به روی آن بنویس.

غلام \neq دلتنگ \neq ثروتمند \neq

گران ها \neq رهایی \neq شروع \neq

۶ - کلمه های هم معنی را هم رنگ کن.



۷ - کلمه های به هم ریخته را مرتب کن و جمله بنویس.

آن امن به / راه / آموخت / دوست / را / هندوستان / کار / در / خود / ارهایی / با امن

مردن / چگونه / آن / بگوید / ارا / انسی / دانست / به / موضوع / او / اطوطی

۸ - با اصطلاحات زیر جمله بنویس.

ترس و لرز :

آزاد و رها :

لحظه به لحظه :

۹ - در هر گروه از کلمه های زیر یک کلمه با بقیه ناهماهنگ است. آن را مشخص کنید.

زاغ - قو - غوک - طوطی

خدمتکار - غلام - کنیز - خواجه

ارمغان - سوغات - تجارت - هدیه

هندوستان - ایران - افغانستان - تهران



نام و نام خانوادگی :

پایه : چهارم

نام آموزگار :

تاریخ :

بودجه بندی محتوایی :

قرآن و هدیه های آسمان: درس ۶ حرمی با دو گنبد
ریاضی- فصل ۲ کسرهای ساده کردن کسر- جمع و تفریق و ضرب کسر مرور درس ۳ ضرب و تقسیم
فارس و نگارش- درس ۵ - رهایی از قفس
علوم- فصل ۳- مدار الکتریکی- رسانا و نارسانای الکتریکی
مطالعات اجتماعی- درس ۸ (زندگی شهر و روستا)



پیک آدینه

شماره

۱۰

چهارم دبستان



هدیه های آسمان

۱- معنی کلمات زیر را بنویسید.

مرسلین : الناس : صراط :

تفرقوا : جميعا :

۲- حروف مقطعه زیر را همانطور که می خوانید بنویسید.

الم (.....) طه (.....) كهيعص (.....)

۳- با توجه به آیه ی (والكاظمين الغيظ والعافين عن الناس)

الف) معنی آیه را بنویسید.

ب) شما چگونه می توانید نمونه ی انسان نیکوکار باشید.

۴- جملات مربوط به هم را وصل کنید.

- لقبش فرو بنده ی خشم بود. • امام جواد (ع)
- به دستو او امام هفتم (ع) ۱۴ سال در زندان بودند. • امام هفتم (ع)
- نام امام دهم شیعیان است. • کاظمین
- حرم امام جواد (ع) و امام موسی کاظم (ع) در این شهر واقع شده است. • باقر (ع)
- هارون الرشید



نام و نام خانوادگی :

پایه : چهارم

نام آموزگار :

تاریخ :

بودجه بندی محتوایی :

قرآن و هدیه های آسمانی : درس ۳ - به مسجد می رویم -
ریاضی : درس ۲ : کسر - راهبرد حل مساله ساده تر
فارسی بخوانیم و بنویسیم : درس ۳ - راز نشانه ها
علوم : درس ۳ - انرژی نیاز هر روز ما - شکل های مختلف انرژی
مطالعات اجتماعی : درس ۴ - نقشه ی محله ی ما



پیک آدینه

شماره
۵



چهارم دبستان



هدیه های آسمان

۱ - کلمه ی **سَمَوات** - **عِنْدَه** هنگام وقف چگونه می خوانیم ؟

۲ - کلمه ی مسجد در زبان عربی به چه معناست ؟

۳ - نام اولین سوره ای که بر پیامبر (ص) نازل شده است را بنویسید .

۴ - اولین مسجدی که پیامبر اسلام (ص) و یارانش ساختن چه نام دارد ؟ و در کجاست ؟

۵ - مهمترین مساجد مسلمانان را نام ببرید ؟

۶ - عبارت قرآنی زیر را بخوان و معنی آن را بنویس .

« خذوا زینتکم عند کل مسجد »



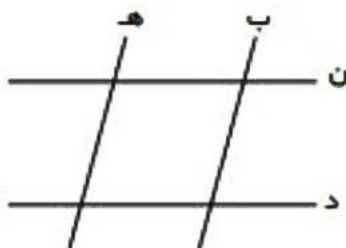
چهارم دبستان

۱۱ - به شکل روبرو دقت کنید کدام یک از زاویه های زیر با یکدیگر برابرند؟ آنها را در یک تساوی قرار دهید.





چه نتیجه ای می گیرید؟

۱۲ - به شکل روبرو توجه کنید و خطوط موازی را نام ببرید.



۱۳ - فرزندانم به کمک نقاله و خط کش تمام زاویه ها و ضلع های شکل های زیر را اندازه گیری کنید و به سوالات زیر پاسخ دهید.



الف) در کدام یک از شکل ها تمام زاویه ها با هم برابرند؟

ب) در کدام یک از شکل ها تمام ضلع ها با هم برابرند؟

ج) در کدام یک از شکل تمام زاویه ها و تمام ضلع ها با هم برابرند؟



فرزند پرتلاش فصل بی مهره ها را بخوان و به سوالات پاسخ صحیح بده

۱۴ - جاهای خالی را با کلمات مناسب پر کنید.

الف) مهره داران در بدن خود..... دارند.

ب) زالو نوعی کرم است و از تغذیه می کند.

ج) کرم کوچکی که در روده ی انسان زندگی می کند، نام دارد.





چهارم دبستان

۱۲ - فرزندم برای تقسیم زیر یک مسئله طراحی کن و پاسخ را بدست آورید.

$$561 \overline{) 12}$$

۱۳ - حاصل ضرب دو عدد (۳۶) شده است . مجموع این عدد می تواند چه عدد هایی باشند؟

۱۴ - فرزندم، علی و محمد روی هم ۸۵۰۰ تومان پول دارند امیر ۱۲۰۰ تومان بیشتر دارد. پول هر کدام چند تومان است.

۱۵ - ۱۲ اسکناس ۱۰۰۰۰ ریالی و (۱۲) اسکناس ۵۰۰۰ ریالی و ۱۸ اسکناس ۲۰۰۰ ریالی . جمعاً چندریال است ؟ این مبلغ چند تومان است؟

۱۶ - فرزندم در نا مساوی زیر حداکثر چه عددی می توان قرار داد.

$$63 > \square \times 8$$

۱۷ - عزیزم یک ماه چند ساعت و چند دقیقه است(راهنمایی هر ماه ۳۰ روز است).



۱۸ - عزیزگلم به چرا های زیر پاسخ مناسب بدهید .

الف) چرا در بنا های تاریخی نوشته های روی سنگ ها هنوز مشخص هستند؟

ب) چرا نباید مدادهایمان را بیهوده بتراشیم ؟

ج) چرا سنگ مرمر برای ساختمان سازی استفاده میشود؟

د) چرا سنگ های رسوبی لایه لایه هستند؟