



21.cm

29.cm

انتشارات تاک کتاب

پیش به سوی آدینه  
دوم دبستان  
تاک کتاب

تعمیرات و تعمیرات

[www.taakbook.ir](http://www.taakbook.ir)



نام و نام خانوادگی :

پایه : دوم

نام آموزگار :

تاریخ :

بودجه بندی محتوایی :

قرآن : درس ۲ هدیه : درس ۲

فارسی : درس دوم

ریاضی : ص ۱۸-۱۲

علوم : درس دوم



پیک  
آدینه

۳

شماره



دوم دبستان



هدیه های آسمان

۱- غنچه ی شادابم سه کلمه ی تشدیددار از درس دوم قرآن انتخاب کن و بنویس.

۲- فرشته ی کوچولو جاهای خالی را با دقت کامل کن.

الف) در هنگام ..... ما با خدا سخن می گوئیم و در وقتی که ..... می خوانیم خدا با ما سخن می گوید.

ب) نام اولین فرزند حضرت فاطمه (س) ..... است.

ج) در موقع ..... از خدا کمک می خواهیم.

۳- گل من می توانی بنویسی که امام حسن (ع) از مادرشان چه چیزی یاد گرفتند؟

۴- فرزندم می دانم دوست داری با خدا حرف بزنی پس جمله ی زیر را ادامه بده.

خدایا به من کمک کن تا .....





۶- عزیز دلم درست یا نادرست بودن جمله های زیر را مشخص کن .

- به کسی که مرتب نیست نامرتب می گویند.  درست  نادرست
  - به جایی که در آن وضو می گیرند وضوخانه می گویند.  درست  نادرست
  - به چیزی که از آهن ساخته شده باشد فلزی می گویند.  درست  نادرست
- ۷- نازنینم در جای خالی کلمه یا عبارت مناسب قرار بده.

- دانشگاه جایی است که .....
- به جایی که در آن گل نگه می دارند ..... می گویند.
- کسی که از هوش می رود یعنی او ..... می شود.
- به محل زیارت ..... می گویند.
- آزمایشگاه یعنی جایی .....
- به کسی که اهل اصفهان است ..... می گویند.
- چوبی یعنی .....

۸- شکوفه ی لشنکم با توجه به کلمه ی داخل کمانک هر بار جمله را تغییر بده و بنویس.

من فردا به کتابخانه خواهم رفت. (تو)

تو فردا به کتابخانه خواهی رفت (با دوستت)

۹- عزیز دلم جدول را کامل کن.

ان	ها	گاه	خانه	هم	تا	بی	
							دقت
							دست
							ورزش
		آرامگاه			نا آرام		آرام





نام و نام خانوادگی :  
پایه : دوم  
نام آموزگار :  
تاریخ :

**بودجه بندی محتوایی :**

قرآن : مرور ۸ تا ۱۴ - هدیه : مرور ۱۱ تا ۲۰  
فارسی : مرور فصل ۹ تا ۱۷  
ریاضی : ۱۴۸-۱۴۱  
علوم : مرور فصل ۸ تا ۱۴



**پیک  
آدینه**

شماره

**۳۰**

**دوم دبستان**



**هدیه های آسمان**

۱- غنچه ی شاداب هر کلمه را به معنی آن وصل کن.

- احسان
- رزق
- جزا
- رحمه
- ربنا
- رحمت
- پروردگارا
- نیکی
- روزی
- پاداش

۲- کوچولوی قشنگ این تصویر مربوط به کدام پیام قرآنی است آن را بنویس و تصویر را رنگ بزن.



۳- نونهالیم این آیه را شمرده و بخش بخش بخوان و تعداد بخش های آن را بنویس.

أَلَيْسَ اللَّهُ بِأَحْكَمِ الْحَاكِمِينَ

۴- گل ناز امام حسین (ع) در چه روزی به دنیا آمدند و در چه روزی به شهادت رسیدند؟

۵- کودک زرنگم خدا در قرآن به پیامبر درباره ی سلام کردن چه فرمود؟





نام و نام خانوادگی :  
پایه : دوم  
نام آموزگار :  
تاریخ :

# پیک آدینه

شماره ۸

دوم دبستان



## بودجه بندی محتوایی :

هدیه : درس ۶ - قرآن : درس ۴  
فارسی : درس ۵  
ریاضی : ص ۳۵-۲۰  
علوم : گردش زمین (فصل چهارم)



## هدیه های آسمان

۱- غنچه ی شادابم پاسخ درست را علامت بزن.

آیه ی زیر مربوط به کدام سوره ی زیبای قرآن است؟ «مِنَ الْجَنَّةِ وَ النَّاسِ»

- الف) سوره ی ناس       ب) سوره ی توحید       ج) سوره ی فلق

پیام قرآنی (و کُلُوا وَ اشْرَبُوا و لَأَسْرِفُوا) به چه معنی است؟

- الف) بیاشامید ولی اسراف نکنید       ب) هر چه می خواهید بخورید       ج) بخورید و بیاشامید ولی اسراف نکنید

پیامبران برای ..... فرستاده شده اند.

- الف) درس دادن به مردم       ب) راهنمایی مردم       ج) گرفتن حق مردم

۲- کودک زرنگ گل هایی را که در گلدان هم معنی هستند با یک رنگ مشخص کن.





نام و نام خانوادگی :

پایه : دوم

نام آموزگار :

تاریخ :

**بودجه بندی محتوایی :**

قرآن : درس ۲ هدیه : درس ۲

فارسی : درس دوم

ریاضی : ص ۱۸-۱۲

علوم : درس دوم



**پیک  
آدینه**

**۳**

شماره



**دوم دبستان**



**هدیه های آسمان**

۱- غنچه ی شادابم سه کلمه ی تشدیددار از درس دوم قرآن انتخاب کن و بنویس.

۲- فرشته ی کوچولو جاهای خالی را با دقت کامل کن.

الف) در هنگام ..... ما با خدا سخن می گوئیم و در وقتی که ..... می خوانیم خدا با ما سخن می گوید.

ب) نام اولین فرزند حضرت فاطمه (س) ..... است.

ج) در موقع ..... از خدا کمک می خواهیم.

۳- گل من می توانی بنویسی که امام حسن (ع) از مادرشان چه چیزی یاد گرفتند؟

۴- فرزندم می دانم دوست داری با خدا حرف بزنی پس جمله ی زیر را ادامه بده.

خدایا به من کمک کن تا .....



# پیک آدینه ۱۰



فارسی

۷- تازنینم کلمه ی مشترک هر دسته را در جای خالی بنویس.

خوش حال - خوش رو - خوش بو

خندان - خنده رو - خوش خنده

سفن گو - سفن دان - سفن چینی

۸- فرزندم جاهای خالی را با کلمات داده شده کامل کن. (حتماً - معمولاً - قبلاً - لطفاً)

- علی فردا به مسافرت می رود او ..... وسایلش را آماده کرده است.

- سارا برای گرفتن چیزی از پدر و مادرش همیشه از کلمه ی ..... استفاده می کند.

- نانوا ..... صبح زود سر کار می رود.

- من ..... هر شب دندان هایم را مسواک می زنم برای اینکه دندان هایم سالم بماند.

۹- حروف به هم ریخته را مرتب کن و با آن یک جمله ی زیبا بساز. (عزیزم سعی کن از کلمه ی «من» استفاده نکنی)

گ - س - ت - و - ا - ر ←

م - ی - ص - ت - م ←

۱۰- برای هر نشانه ی داده شده سه کلمه بنویس.



۱۱- دلبندم جمله های زیر را مرتب کن و با خط زیبا بنویس.

دو - گرفتند - نصیب - تازه ای - یاد - چیزهای - بگیرند - برادر

را - طوطی سفن گو - حرف زدن - از - خواست - بدهد - به - نوشا - او - خوب - یاد





فارسی

۳- نازنینم پروانه ها و گل هایی را که مخالف هم هستند به یکدیگر وصل کن تا با هم دوست شوند.

					
کوتاه	دروغگو	پریش	مریض		
					
پاسخ	راست گو	خوشحال	سالم	بلند	زیاد

۴- دلبندم از درس چوپان درست کار ۳ کلمه ی جالب انتخاب کن و با آن ها یک جمله بساز.

۵- فرزندم به هر کلمه «ها» اضافه کن و معنی آن را بنویس.

- خانه + ها = ..... یعنی:
- درخت + ها = ..... یعنی:
- کوچه + ها = ..... یعنی:
- بچه + ها = ..... یعنی:

۶- نونهالم برای کلمات زیر هرچقدر می توانی کلمه ی هم معنی بنویس.

- آهسته: .....
- خیلی: .....
- پاکیزه: .....
- فایده: .....
- مراقبت: .....
- اول: .....

۷- گل شادابم کلمه ها را مرتب کن و جمله ها را بنویس.

انسان های - خداوند - دوست - راستگو - را - دارد

را - مزدت - بگیر - چوپانی ات - تو - بکن - را - و







ریاضی

۸- زرنکم با رقم های ۹ و ۴ برای یکان ۷ و ۳ و ۵ برای دهگان چند عدد دورقمی می توانی بسازی آن ها را بنویس.

۹- نوگلم حاصل جمع و تفریق ها را به صورت تقریبی بنویس.

$$\begin{array}{r} 67 \rightarrow + \\ 22 \rightarrow + \\ \hline \end{array}$$

$$\begin{array}{r} 75 \rightarrow - \\ 36 \rightarrow - \\ \hline \end{array}$$

$$\begin{array}{r} 43 \rightarrow + \\ 27 \rightarrow + \\ \hline \end{array}$$

$$\begin{array}{r} 54 \rightarrow - \\ 18 \rightarrow - \\ \hline \end{array}$$


۱۰- عزیزم با دقت به این ساعت های زیبا نگاه کن و زمان آنها را بنویس.



۱۱- کوچولوی خلاق حاصل جمع و تفریق درون بادبادک ها را به دست آور، بعد با توجه به جدول راهنما آنها را با

مداد رنگی های قشنگت رنگ کن و بچه ها را خوشحال کن.

رنگ	حاصل جمع
آبی	۳۰-۴۰
قرمز	۳۱-۴۰
سبز	۴۱-۵۰
زرد	۵۱-۶۰
نارنجی	۶۱-۷۰



۱۲- نونهالم برای جمع و تفریق زیر شکل های زیبا بکش و سپس آن ها را به صورت فرآیندی بدست آور.

$$\begin{array}{r} 39 \\ + 16 \\ \hline \\ + \\ \hline \end{array}$$

$$\begin{array}{r} 43 \\ - 27 \\ \hline \\ - \\ \hline \end{array}$$





علوم

۱۴ - دانشمند کوچولو پاسخ درست را علامت بزن.

کدام یک از میوه های زیر چند دانه ای است؟

- الف) سیب       ب) آلو       ج) کیلاس

غذای کدام یک از جانوران زیر میوه یا دانه نیست؟

- الف) میمون       ب) کبوتر       ج) شیر

کدام یک از مواد زیر جامد است؟

- الف) آبمیوه       ب) قند       ج) شیر

۱۵ - مهربانم چگونه یک تخم قورباغه به قورباغه ی بالغ تبدیل می شود؟ مراحل آن را بنویس؟

.....

۱۶ - کوچولوی پرتوان چه چیزهایی را بخوریم تا سالم رشد کنیم؟

.....

۱۷ - گل شادام مواد را در چه جاهایی نگه داری می کنیم؟

.....

۱۸ - نابغه ی کوچولو چگونه می توانیم از زود خراب شدن نان جلوگیری کنیم؟

.....

جدول ارزشیابی عملکردی و بازخورد توصیفی (اولیاء محترم)	خیلی خوب	خوب	لامال قبول	نیاز به تلاش
درک مفاهیم و مطالب پیک				
مدیریت و برنامه ریزی در انجام تکالیف				
بازخوردهای مناسب در روند آموزش				
انگیزه و دقت دانش آموز				
دقت در نوشتن درست				
گوش دادن و توجه به راهنمایی های والدین				
استقلال و عدم وابستگی				
اشتیاق به انجام فعالیت های بیشتر				





# پیش دبستانی

دور دومین توپ خط بکش



دور اولین توپ خط بکش



دور سومین توپ خط بکش



در کدام بطری هیچ شکلی وجود ندارد آنرا رنگ آمیزی کن





۱۱- کودک باهوش با استفاده از ۳ رنگ زیبا حاصل جمع های زیر را پیدا کن.

$6 + 3 + 1 =$

$7 + 4 + 2 =$

۱۲- عزیزم با رقم های ۴ و ۳ و ۸ هر چقدر می توانی عدد دو رقمی بنویس.

کلمه حالا از بین عددهایی که نوشتی بزرگترین و کوچک ترین را پیدا کن.

بزرگ ترین:

کوچکترین:

۱۳- دانشمند کوچولو حاصل جمع و تفریق های زیر را با کشیدن شکل بدست بیاور.

  $7 + 8 =$

$18 - 9 =$  

۱۴- متفکر کوچک الگوهای عددی را ادامه بده (برای کامل کردن الگوهای عددی می توانی از رسم شکل یا چوب خط استفاده کنی)

 ۳    ۷    ۱۱                   

۱۵- فرزند باهوشم به سوالات زیر با دقت پاسخ بده.

در شمارش ۸ تا ۸ تا عدد بعد از ۲۴ چند است.  $8 - 16 - 24 - ?$

در شمارش ۵ تا ۵ تا عدد قبل از ۲۵ چند است.  $5 - 10 - 15 - 25 - ?$

۱۶- کودک توانا حاصل جمع و تفریق ها را با هر روشی که دوست داری به دست بیاور.

$10 + 6 =$     $7 + 8 =$     $10 + 5 + 20 + 10 + 30 =$

$16 - 8 =$     $19 - 10 =$     $3 + 4 + 10 + 5 + 20 + 10 + 5 =$





نام و نام خانوادگی :  
 پایه : دوم  
 نام آموزگار :  
 تاریخ :

**بودجه بندی محتوایی :**

هدیه : درس ۸ - قرآن : درس ۵  
 علوم : فصل پنجم  
 ریاضی : ص ۴۲-۵۷  
 فارسی : درس ۶



**پیک  
 آدینه**

شماره  
**۱۰**



**دوم دبستان**

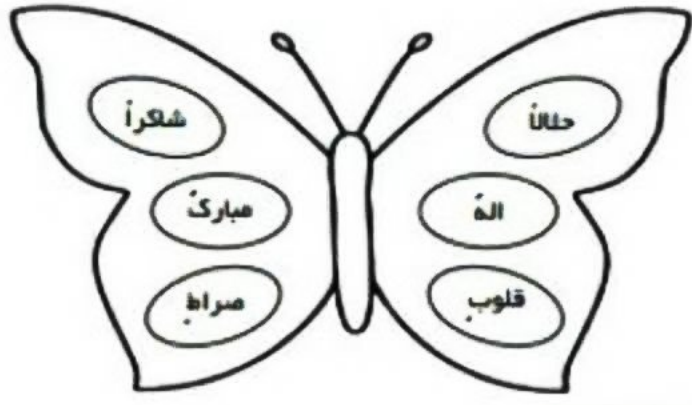


**هدیه های آسمان**

۱- غنچه ی شاداب من کدام تنوین همراه با « ا » می آید؟

- الف) تنوین       ب) تنوین       ج) تنوین 

۲- مهربانم پروانه ی روبه رو را با توجه به جدول راهنما رنگ آمیزی کن تا زیبا شود.



رنگ	تنوین
قرمز	
زرد	
آبی	

۳- قشنگم مفهوم پیام قرآنی «و ما بکم من نعمه فمین الله» را بنویس.

.....

۴- عزیز دلم چرا به حضرت محمد (ص) محمد امین می گفتند؟

.....

۵- دلبندم وقتی که نام پیامبر را می شنوی چه می گویی؟

.....

۶- نوگلم به کمک بزرگترها یک حدیث زیبا از پیامبر (ص) را بنویس.

.....



# پیک آدینه ۱۱

تاک



فارسی

۵- کودک باهوش جاهای خالی را کامل کن.

- به کسی که دارو می سازد ..... می گویند.

- سبزی فروش یعنی .....

- ..... کتاب یعنی کتابی نزدیک است.

- همان ماشین یعنی .....

۶- عزیزم جمله ها را بخوان و نام شخص پنهان شده را بنویس.

- اگر من کوچه ها و خیابان ها را تمیز نگم کثیفی همه جا را می گیرد. ....

- با نبودن خیابان ها بی نظم و شلوغ می شوند و تصادف زیاد می شود. ....

- کار من مراقبت از گل ها و گیاهان است. ....

۷- کوچولو ی زرنکم وسایلی که هر شغل نیاز دارد را بنویس.



۸- فرزندم نام دوستانی که در درس دوستان ما آمده است، را بنویس.

عزیز دلم به جز دوستانی که در درس آمده است نام چند دوست دیگر را هم بنویس.



۱۴- زهرا کوچولو چهار روسری به رنگ های آبی، بنفش، قرمز، زرد دارد و سه پیراهن به رنگ های سبز و نارنجی و قهوه ای دارد. او به چند روش می تواند روسری و پیراهن را با هم بپوشد.



علوم

۱۵- دانشمند کوچولو فکر کن و پاسخ درست را علامت بزن.

- علت به وجود آمدن شب و روز ..... است.

الف) چرخش زمین به دور خورشید  ب) چرخش خورشید به دور زمین  ج) چرخش زمین به دور خود

- زمین هر ..... ساعت یکبار به دور خود می چرخد.

الف) ۴۸ ساعت  ب) ۲۴ ساعت  ج) ۱۲ ساعت

- چقدر طول می کشد که زمین یکبار به دور خورشید بچرخد؟

الف) یک شبانه روز  ب) یکسال  ج) یک ماه

۱۶- عزیز دلم جاهای خالی را با کلمات مناسب کامل کن.

- گرما در محل های سایه ..... از محلی است که به آن آفتاب می تابد.

- همه ی جانداران به ..... و ..... خورشید نیاز دارند.

- زمانی که نور خورشید به محلی به طور راست بتابد آن محل ..... می شود و وقتی به طور مایل بتابد آن

محل ..... می شود.

جدول ارزشیابی عملکردی و بازخورد نوسانی (اولیاء محترم)	خیلی خوب	خوب	قابل قبول	نیاز به تلاش
درک مفاهیم و مطالب پیک				
مدیریت و برنامه ریزی در انجام تکالیف				
بازخوردهای مناسب در روند آموزش				
انگیزه و دقت دانش آموز				
دقت در نوشتن درست				
گوش دادن و توجه به راهنمایی های والدین				
استقلال و عدم وابستگی				
اشتیاق به انجام فعالیت های بیشتر				





## دوم دبستان



ریاضی

۱۲ - کوچولوی باهوش به این شکل ها با دقت نگاه کن و یک تفاوت و یک شباهت برای آن ها بنویس.

تفاوت :



شباهت :



۱۳ - فرزند خوبم نقطه ها را به هم وصل کن و شکل خواسته شده را به دست آور.



سه ضلع و سه گوشه دارم

۴ ضلع و ۴ گوشه دارم و  
۲ ضلع من با هم مساوی است

۱۴ - دلبندم الگوی عددی را با رسم شکل ادامه بده.



۱۵ - دانش آموز زرنگ اعدادی را که مثل هم هستند به هم وصل کن.

۱ ۹ ۵ ۲ ۴ ۸ ۰ ۶ ۳ ۷  
۳ ۷ ۶ ۴ ۵ ۲ ۹ ۰ ۸ ۱

۱۶ - عزیزم هر ساعت چه زمانی را نشان می دهد؟



۷:۲۴  
07:24



۹:۱۳



۱۱:۴۸





# پیک آدینه ۳



فارسی

۵- عزیزم مانند نمونه کلمات را دسته بندی کن.

خواندن - خورشید - ورزش - کوه - حوصله - گروهی - دونه - خواهر - خواهش

صدای و	صدای ا	صدای او	بی صدا

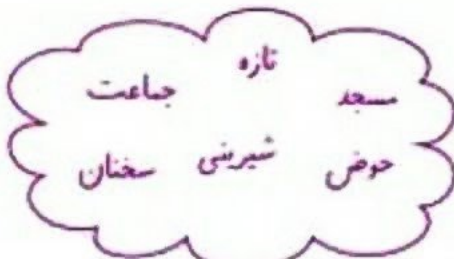
۶- تازنینم با استفاده از کلمات داخل ابر جاهای خالی را کامل کن.

- مردم من خواستند برای اولین بار ناز را به ..... در مسجد بخوانند.

- کار بنایی مسجد ..... تمام شده بود.

- من با دقت به ..... امام جماعت گوش دادم.

۷- کلم کلمات را ترکیب کن و معنی آن را بنویس.



..... = با + حوصله

..... = با + هوش

..... = با + .....

..... = با + سواد

۸- غنچه ی شاداب با هر یک از کلمه های زیر جمله ای زیبا بساز.

تشکر =

همکاری =

خوش حال =

۹- گل شادم با حوصله متن درس را بخوان و دو کلمه که به آن «با» اضافه شده است را پیدا کن و معنی آن را بنویس.

< =

< =

۱۰- قشنگم نقطه های متن زیر را در جای مناسب قرار بده.

مهدی با پدر و مادرش گلدان های رنگلی را که آورده بودند کنار حوض فرار دادند.





نام و نام خانوادگی :

پایه : دوم

نام آموزگار :

تاریخ :

# پیک آدینه

شماره ۶

دوم دبستان



## بودجه بندی محتوایی :

هدیه : درس ۵ و ۴ - قرآن : درس ۳

فارسی : درس سوم

ریاضی : ص ۲۴ - ۲۸

علوم : فصل سوم



## هدیه های آسمان

۱- شکوفه ی قشنگم با دقت به تمرین های زیر پاسخ بده.

خداوند چه کسانی را بیشتر دوست دارد ؟

- الف) نیکوکاران     
  ب) ستمکاران     
  ج) ظالمان

این آیه مربوط به کدام سوره است؟ (مَالِكِ يَوْمِ الدِّينِ)

- الف) سوره ی توحید     
  ب) سوره ی ناس     
  ج) سوره ی حمد

اولین کاری که در وضو انجام می دهیم چیست؟

- الف) دست ها را می شوئیم     
  ب) نیت کردن     
  ج) مسح سر

۲- مهربانم در کادر زیر یک گل زیبا بکش و کنار آن جمله ای قشنگ برای تشکر از پدر و مادر مهربانت بنویس.



۳- فرشته ی کوچولو درس سوم کتاب قرآن (سوره ی حمد) را بخوان و

کلماتی که نشانه ی (ک) دارد پیدا کن و بنویس.





ریاضی

۹- نوکلم با رقم های ۳ و ۴ برای یکان و ۷ و ۶ برای دهگان هر چه می توانی عدد دو رقمی بنویس.

۱۰- نازنینم از ذهن خلاقیت استفاده کن و مسئله ای زیبا برای تفریق روبرو بنویس.

$19 - 7 =$

۱۱- دلبندم الگوی عددی را ادامه بده.

۶	۹	۱۲				
۲۴	۲۸					
				۱۶	۱۸	۲۰


۱۲- امید کلاس اول جواب جمع و تفریق داخل گل ها را بدست بیاور بعد آن ها را به گلدان های مربوط به

خودش وصل کن.

$8-6$	$8+4$	$9+9$	$20-11$	$11+7$
$15-3$	$10+2$	$13+6$	$6+6$	



۱۳- نوکلم با دقت به ساعت ها نگاه کن و بگو عقربه ی بزرگ چند دقیقه به جلو رفته است؟





ریاضی

۱۰ - عزیز دلم الگوهای زیر را ادامه بده.



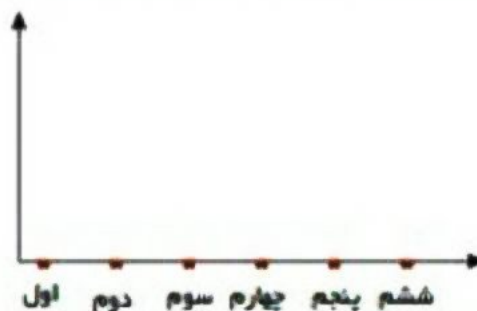
۳۰۶	۳۰۴				
۱۱۱	۱۱۳				
۵۲۵	۵۳۰				
۸۱	۸۴	۸۷			



۱۱ - تعداد دانش آموزان یک مدرسه به صورت زیر است.

ابتدا تعداد تقریبی را در جدول بنویس سپس نمودار تصویری را کامل کن. دلبندم به ازای هر ۱۰ دانش آموز یک 😊 بکش.

اول	دوم	سوم	چهارم	پنجم	ششم	
۴۳	۵۱	۴۵	۳۹	۵۴	۶۳	تعداد
						تعداد تقریبی



۱۲ - در یک باغ گل تعداد گل ها به صورت تقریبی در نمودار زیر مشخص شده است. (به ازای هر ۱۰ گل یک دایره کشیده

شده است) کودک باهوش با توجه به نمودار جدول را کامل کن.



تعداد تقریبی	
	نسترن
	محمدی
	رز
	لاله
	کوکب

۱۳ - کوجولوی زرنگ تعداد هر قسمت را با کامل کردن جمله ها مشخص کن.



..... تا ..... تایی می شود



..... تا ..... تایی می شود





۱۷- دلبندم پروانه های رو به رو را بشمار و جاهای خالی را کامل کن.



یکان دهگان

به عدد

به حروف



علوم

۱۸- کلمه تصویری که به آب و هوا برای زندگی کردن نیاز ندارد را علامت بزن.



۱۹- فشنگم تصویری که به پاکیزه ماندن هوای شهر کمک می کند علامت بزن.



۲۰- دلبندم کمی فکر کن و بگو انسان از آب چه استفاده هایی می کند؟

۲۱- عزیز دلم از بین مراحل زیر کدام یک ترتیب درست تصفیه ی آب را نشان می دهد؟

- الف) جمع شدن آب پشت سد - میکروب کشی
- ب) کشتن میکروب ها - عبور از توری های خاص
- ج) جمع شدن آب پشت سد - گرفتن زباله های ریز و درشت - اضافه کردن کلر

نیاز به تلاش	لامل سول	خوب	خیلی خوب	جدول ارزشیابی عملکردی و بازخورد توصیفی (اولیاء محترم)
				درک مفاهیم و مطالب پیک
				مدیریت و برنامه ریزی در انجام تکالیف
				بازخورد های مناسب در روند آموزش
				انگیزه و دقت دانش آموز
				دقت در نوشتن درست
				گوش دادن و توجه به راهنمایی های والدین
				استقلال و عدم وابستگی
				اشتیاق به انجام فعالیت های بیشتر





نام و نام خانوادگی :

پایه : دوم

نام آموزگار :

تاریخ :

# پیک آدینه

شماره

۱۱

دوم دبستان



## بودجه بندی محتوایی :

هدیه : درس ۸ - قرآن : درس ۶

فارسی : درس ۷

ریاضی : ۴۸-۵۳

علوم : فصل ششم



## هدیه های آسمان

۱- شکوفه ی قشنگم درس ششم قرآن را بخوان و ۶ کلمه که (ه، ا، ه) و یا (ه، ا، ه) دارند پیدا کن و بنویس.

۲- عزیزم آیه ی «أَللهُ الصَّمَدُ» مربوط به کدام سوره است؟

(ج) فلق

(ب) توحید

(الف) حمد

۳- قشنگم جاهای خالی را کامل کن.



۴- شکوفه ی من از بزرگترها کمک بگیر و روز ولادت حضرت محمد (ص) را بنویس.





۱۳- مادر فاطمه ۵۷ سال سن دارد اگر فاطمه ۲۹ سال از مادرش کوچکتر باشد. فاطمه چند سال دارد؟



علوم

۱۴- دانشمند کوچولو این کلمه ها گم شده اند آنها را به خانه شان برسان تا خوشحال شوند.

(مایل - سبک - راست - غذا - نور - بادنما)

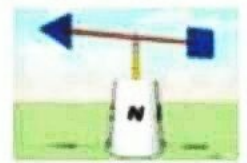
- باد می تواند چیزهای ..... را جابه جا کند.

- خورشید در زمستان ..... می تابد اما در تابستان ..... می تابد.

- گیاهان با استفاده از ..... خورشید برای خود ..... درست می کنند.

- برای تعیین جهت باد از ..... استفاده می کنیم.

۱۵- زرنگم نام شکل ها و کاری که انجام می دهند بنویس.



۱۶- کوچولوی باهوش از بزرگترها کمک بگیر و راه های تشخیص جهت باد در گذشته را بنویس.

۱۷- گل من با توجه به تصاویر بگو باد خاک کدام محل را بیش تر جابه جا می کند چرا؟



جدول ارزشیابی عملکردی و بازخورد توصیفی (اولیا، محترم)	خیلی خوب	خوب	قابل قبول	نیاز به تلاش
درک مفاهیم و مطالب بیک				
مدیریت و برنامه ریزی در انجام تکالیف				
بازخوردهای مناسب در روند آموزش				
انگیزه و دقت دانش آموز				
دقت در نوشتن درست				
گوش دادن و توجه به راهنمایی های والدین				
استقلال و عدم وابستگی				
اشتیاق به انجام فعالیت های بیشتر				





فارسی

۴- نونهالم پاسخ درست را علامت بزن.

• شعر ستاره را آقای ..... سروده است.

- الف) محمود کیانوش       ب) ناصر کشاورز       ج) عباس یبینی شریف

• به کسی که حوصله ندارد ..... می گویند.

- الف) کم حوصله       ب) با حوصله       ج) بی حوصله

۵- عزیزم در پایان هر جمله علامت مناسب قرار بده. ( . ؟ )

- خرس کوچولو تصمیم گرفت با میکروب ها بجنگد
- آیا می دانید که میکروب ها در دست های کثیف زندگی می کنند
- آیا می توان با چوب به جنگ میکروب ها رفت

۶- فرزند باهوشم با کلمات داده شده یک پیام بهداشتی برای دوستانت بنویس.

مواظبت نظافت  
وسایل شخصی

۷- نازنینم سفارش پیامبر اکرم (ص) برای اینکه مردم شهر سالم و تندرست بمانند چه بود؟

۸- کلم از ذهنت کمک بگیر و شعر ستاره را کامل کن.

باد آسان را	بودند آن ها	آن دیگری را	آن را به بالا
.....	.....	دادم به مادر	.....
سه تا ستاره	یک دانه اش را	یک دانه دیگر	در خواب کردم
.....	.....	.....	.....

