

# پہلی کتاب

## دبستان

کار و تمرین

$$9 + 12$$

$$9 + 5$$

$$12 \times 2$$

$$12 + 1$$

$$2 + 9$$

$$1 - 2$$

$$12 + 12$$



به نام خدا

ویرایش جدید

# کار و تمرین ریاضی آسان

مؤلف: اعظم سیرجانی

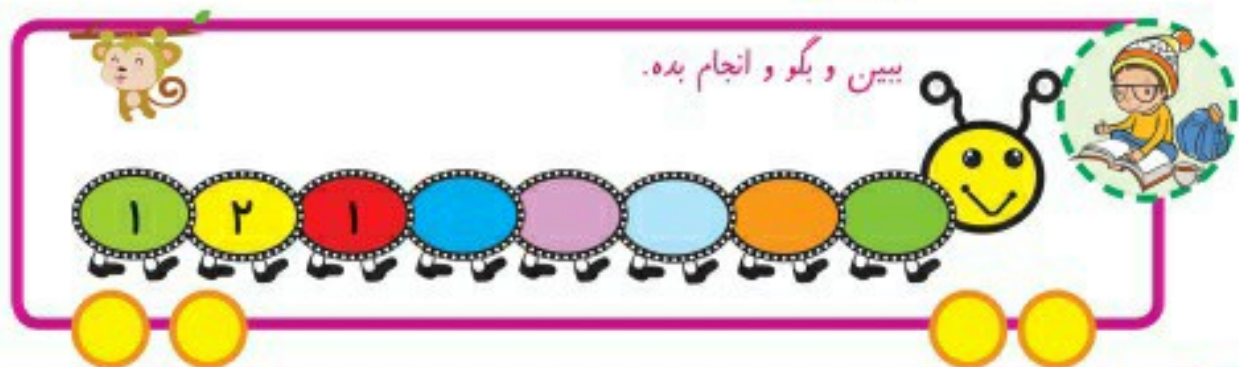
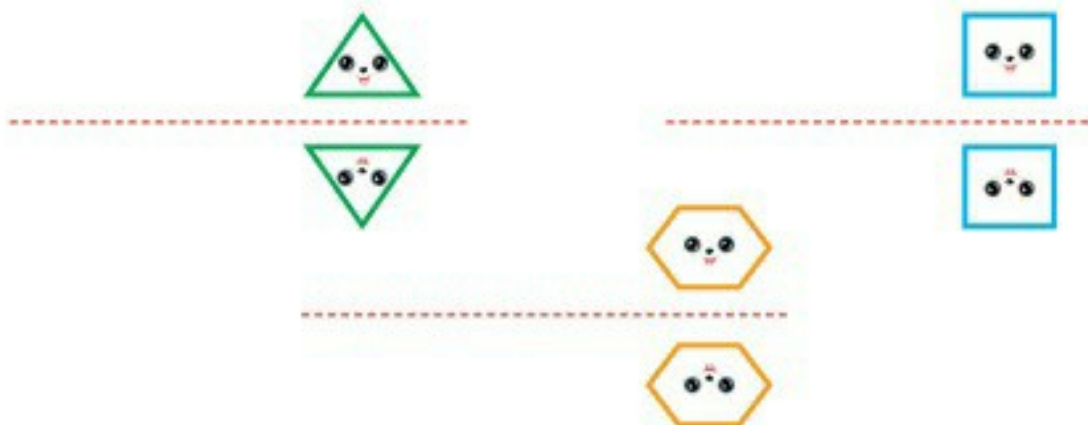
۱- شکل های ۲ تایی را پیدا کن، عدد و چوب خط آن را بنویس.



۲- در هر قسمت، دو کفه ی ترازو را طوری با هم برابر کن که هر کفه ۲ میوه داشته باشد.



۳- با شابلون تمرین کن و یک بار دیگر مانند این شکل ها را بکش.





۱- شکل های زیر چند گوشه دارند؟ آن ها را با خط کش و مداد رنگی به چوب خط درست وصل کن.



۲- با توجه به شکل ها عدد و چوب خط مناسب را رنگ کن.



۳- شعر عدد چهار را بخوان. از روی عدد بنویس و چوب خط بکش.



۴-۴



۱- عقربه های ساعت را با توجه به الگوی آن بکش.



۲- تولد آرتین دو هفته ی دیگر است چند روز دیگر به تولد او باقی مانده است؟



۳- ابوالفضل در پارکینگ ۳ ماشین و ۲ دوچرخه پارک کرده است. او چند موتور داخل پارکینگ پارک کرده است؟



۳- حلما کلاس اول است. ۳۰ دانش آموز در کلاس هستند. اگر در هر نیمکت ۲ نفر بنشینند. حلما کدام میز باید بنشیند؟



۴- کیمیا ۶ ساله است. ساناز ۵ سال از او بزرگتر است. ساناز چند سال دارد؟



بیس و بگو و انجام بده.








مدت انجام تکلیف ..... مطابق با صفحه ی ۱۵۵ و ۱۵۶ کتاب هفته اول اردیبهشت



- ۱- شمارش ۸ تا ۸ تا با استفاده از شکل و محور
- ۲- جمع عدد های یک رقمی و دو رقمی
- ۳- شمارش ۹ تا ۹ تا با استفاده از شکل و محور
- ۴- آشنایی با رسم الخط عدد های فارسی، انگلیسی، دیجیتالی
- ۵- آشنایی با ماشین حساب
- ۶- توانایی حل تمرینات متفاوت

۲۳

۱- رضا هر روز ۸ ساعت در مدرسه است او در ۵ روز چند ساعت در مدرسه است؟



۲- هر ۸ خانه را یک رنگ بزن.

چند خانه را رنگ زدی؟

چند خانه بدون رنگ باقی ماند؟



- ۱- مفهوم کاهش با بیان داستان
- ۲- نوشتن نماد عدد ۳
- ۳- ادامه دادن الگو روی صفحه ی شطرنجی
- ۴- نوشتن نماد عدد ۴
- ۵- اندازه گیری طول یک جسم با اشیاء مختلف
- ۶- ترسیم یک تصویر بزرگ با استفاده از تصویر کوچک

۸



۱- می توانی تابلوی روی دیوار را با کشیدن یک خط به دو نیمه ی مثل هم تبدیل کنی؟



در هر رکعت نماز ۲ بار به سجده می رویم.

در دو رکعت چند بار به سجده می رویم؟

وقتی نماز می خوانیم از چه کسی تشکر می کنیم؟

۲- در تصویر ۱ چند هواپیما روی باند نشسته است؟





در تصویر ۲ چند هواپیما به آسمان پرواز می کند؟



چند هواپیما روی باند باقی ماند؟

ببین و بگو و انجام بده.

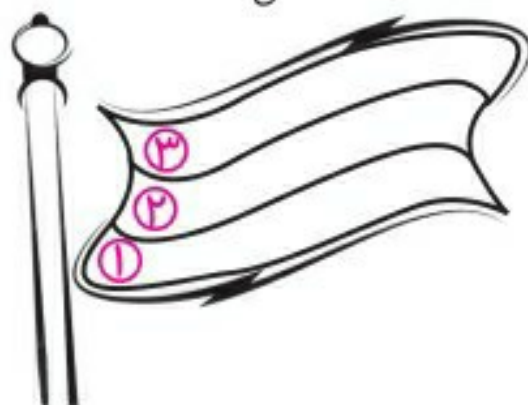




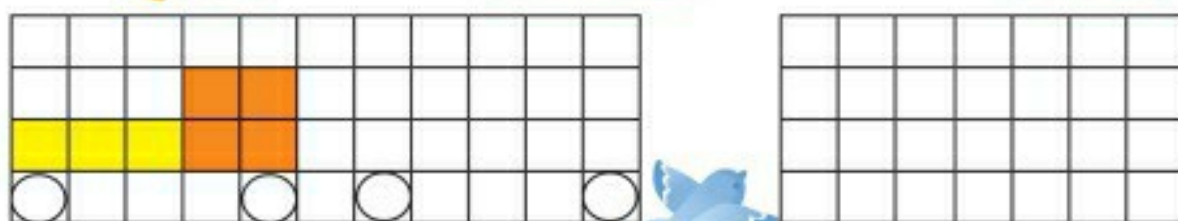
۱- آنگوها را ادامه بده و مدل را داخل ویتترین بکش.



۲- پرچم را با توجه به عدد رنگ کن.



۳- آنگوهای رنگی را ادامه بده و مدل را در ویتترین بکش.



بین و بگو و انجام بده.



۱-

۲-

۳-

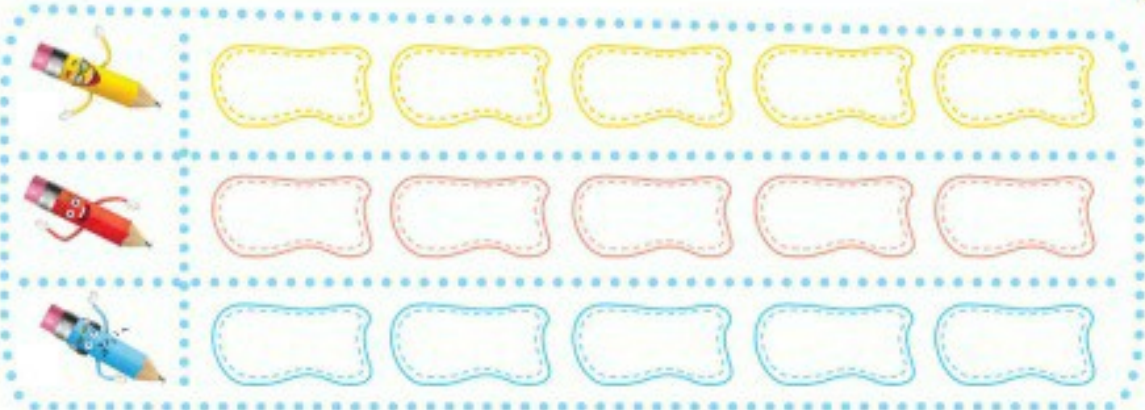







- ۱- تشخیص شکل های مثل هم
- ۲- تشکیل الگوی درست
- ۳- تشخیص شباهت ها و تفاوت ها
- ۴- سر شماری شکل ها و گفتن عدد ها
- ۵- نشان دادن عددها با انگشتان دست
- ۶- شناسایی رابطه بین الگوها

۱- به تعداد مدادهای هم رنگ از خانه های جدول رنگ کن.




۲- گل های ست راست را زرد و گل های ست چپ را صورتی کن.



بین و بگو



۱- ورزش کاران به ترتیب شماره در صف ها ایستاده اند. آقای مرتی برای انتخاب چهار نفر از اول شروع می کند و آن ها را ۷ تا ۷ تا می شمارد انتخاب می کند عدد مربوط به ورزش کارانی که انتخاب می شوند را داخل مربع بنویس.



June / July 2018		شوال ذی القعدة ۱۴۳۹		تیر ۱۳۹۷		
شنبه	یکشنبه	دوشنبه	سه شنبه	چهارشنبه	پنجشنبه	شنبه
Sunday	Monday	Tuesday	Wednesday	Thursday	Friday	Saturday
۱	۲	۳	۴	۵	۶	۷
۸	۹	۱۰	۱۱	۱۲	۱۳	۱۴
۱۵	۱۶	۱۷	۱۸	۱۹	۲۰	۲۱
۲۲	۲۳	۲۴	۲۵	۲۶	۲۷	۲۸
۲۹	۳۰	۳۱				

۲- با توجه به تقویم جاهای خالی را کامل کن.  
از روز اول شروع کن و ۷ تا ۷ تا بشمار و روز هفتم را با رنگ صورتی نشان بده.

چه عدد هایی رنگ شد آن ها را بنویس.  
هر هفته چند روز است؟ جمع روز چندم هفته است؟ اولین روز هفته چه روزی است؟

بین و بگو و انجام بده.

چهل	هفتاد	سی	پنجاه	بیست	شصت	ده	هشتاد	نود
۹۰	۸۰	۷۰	۶۰	۵۰	۴۰	۳۰	۲۰	۱۰



۱- در شکل زیر لوبیا را روی عدد ۹ بگذار و دستورات را انجام بده در هر مرحله عدد را جلوی دستور بنویس.

۹	۱۰	۱۱	۱۲	۱۳	۱۴	۱۵	۱۶	۱۷	۱۸	۱۹	۲۰	۲۱	۲۲	۲۳	۲۴	۲۵	۲۶
۸																	۲۷
۷																	۲۸
۶																	۲۹
۵																	۳۰
۴																	۳۱
۳																	۳۲
۲																	۳۳
۱																	۳۴

۸ خانه به عقب برگرد

۳۲ خانه به جلو برو

۱۰ خانه به جلو برو

۵ خانه به عقب برگرد

۲۲ خانه به جلو برو

۱۷ خانه به جلو برو

۴۱

۴۰ ۳۹ ۳۸ ۳۷ ۳۶ ۳۵ ۳۴



۲- از عدد ۷۵ تا ۸۹ بشمار و به عدد و حروف بنویس.

<table border="1" style="width: 100%; border-collapse: collapse;"> <tr> <td style="width: 20%;">۷۵</td> <td>هفتاد و پنج</td> </tr> <tr><td> </td><td> </td></tr> <tr><td> </td><td> </td></tr> <tr><td> </td><td> </td></tr> <tr><td> </td><td> </td></tr> </table>	۷۵	هفتاد و پنج									<table border="1" style="width: 100%; border-collapse: collapse;"> <tr><td> </td><td> </td></tr> <tr><td> </td><td> </td></tr> <tr><td> </td><td> </td></tr> <tr><td> </td><td> </td></tr> <tr><td> </td><td> </td></tr> </table>											<table border="1" style="width: 100%; border-collapse: collapse;"> <tr> <td style="width: 20%;">۸۹</td> <td>هشتاد و نه</td> </tr> <tr><td> </td><td> </td></tr> <tr><td> </td><td> </td></tr> <tr><td> </td><td> </td></tr> <tr><td> </td><td> </td></tr> </table>	۸۹	هشتاد و نه								
۷۵	هفتاد و پنج																															
۸۹	هشتاد و نه																															

۱۶ +  = ۲۷

۱۶ +  = ۲۳


۱۶ +  = ۲۵

۲۰ -  = ۳


۲۰ -  = ۲

۲۰ -  = ۵

بین و بگو و انجام بده.



۱- با شابلون و خط کش و مداد رنگی هایت فرش را به سلیقه خودت طراحی کن.



مدت انجام تکلیف ..... مطابق با صفحه ی ۱۷۴ و ۱۷۵ کتاب هفته سوم اردیبهشت



فرزندان دوست داشتنی من برایتان بهترین ها را آرزومندم

آموزگار تمام کلاس اولی های ایران زمین

اعظم سیرجانی





۱- در هر قسمت دور عدد بیشتر و حرف مربوط به آن خط بکش.  
حروف را در خانه ها کنار هم بنویس و کلمه ی درست شده را بخوان.



کلمه ی درست شده

۲- دور علامت مناسب بین عدد ها خط بکش و عبارت را بخوان.



$12 >$	$14$	$11 >$	$10$
$12 =$	$14$	$11 =$	$10$
$12 <$	$14$	$11 <$	$10$
$15 >$	$15$	$14 >$	$15$
$15 =$	$15$	$14 =$	$15$
$15 <$	$15$	$14 <$	$15$

۳- مربع شگفت انگیز را با عدد های مناسب کامل کن.

۱	۳	۸	۹	۷	۶	۵	۴	
۴		۹	۸		۳	۶		۱
۵	۶	۷		۲	۴		۹	۸
۶	۷	۴	۵	۹		۲	۱	۳
۲		۳	۷		۱	۹	۶	۵
۹	۱	۵		۶	۲	۷		۴
۸	۴		۶	۳	۷	۱	۵	۹
۳		۶	۴		۵	۸	۲	۷
	۵	۱	۲	۸	۹	۴		۶



بین و بگو و انجام بده.



۱- با توجه به تصویر شکل هایی را که فقط ۲ عدد است داخل خط بسته بگذار.



۲- شکل های ۲ تایی را پیدا کن و به عدد وصل کن.



۳- شعر مربوط به عدد ۲ را بخوان. از روی عدد بنویس. چوب خط آن را بکش.



۲-۲-



بین و بگو و انجام بده.