

تاک کتاب
۰۹۱۰ ۴۸۴ ۵۱۰۰

ریاضی دوم

دبستان

کار و تمرین



$$۷۳ + ۶۷$$

به نام خدا

کتاب ریاضی دوم دبستان

مؤلف:

هاشم رضائی

انتشارات تاک کتاب





فهرست مطالب

فصل اول : عدد و رقم ۵

فصل دوم: جمع و تفریق اعداد دو رقمی ۲۲

فصل سوم: اشکال هندسی ۴۲

فصل چهارم : عددهای سه رقمی ۵۴

فصل پنجم: اندازه گیری ۷۱

فصل ششم : جمع و تفریق عددهای سه رقمی ۸۳

فصل هفتم : کسر و اتمال ۱۰۳

فصل هشتم: آمار و نمودار ۱۱۳



فصل اول : عدد و رقم

در شمردن اشیاء یا اشکال باید به ترتیب بشماریم و آن ها را یک بار بشماریم .

آخرین عددی که بیان کردیم . تعداد اشکال یا اشیاء می باشد . ما می توانیم برای شمردن دقیق ، از روش های مختلفی استفاده کنیم . مثلاً روی هر شکل (×) بزنیم یا شکل ها را دسته بندی کنیم .

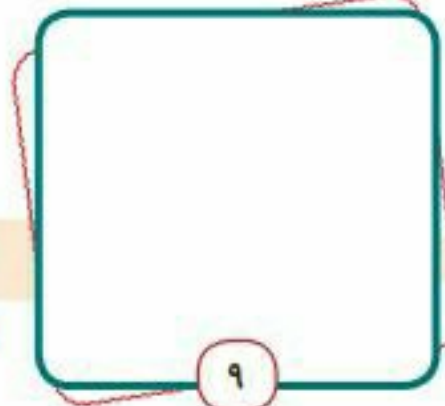
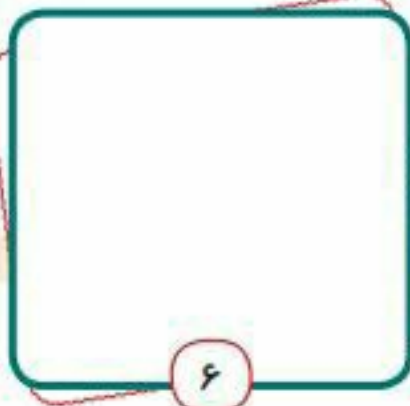
مثلاً دسته های ۲ تایی ، ۳ تایی ، ۵ تایی و ...

حالا بگو تو چه روشی برای شمارش می دانی؟

۱- هر کدام از شکل ها چه عددی را نشان می دهد؟



۲- به اندازه ی هر عدد شکل بکش .



۱- به حیوانات داخل باغ وحش با دقت نگاه کن . تعداد هر کدام را بشمار و با عدد و چوب خط نشان بده .



۲- جدول شگفت انگیز را کامل کن .

۴	۳	۹	۸	۱	۵		۲	۶
		۲	۳		۶	۴		۱
۶	۷	۱		۹	۴	۸	۵	۳
۹	۶	۳		۸		۲	۱	۵
۲		۴	۹		۳	۶		۸
۸	۵			۶		۳	۴	۹
۳	۴	۶	۵	۲	۹		۸	۷
۱		۵	۷		۸	۹		۴
۷	۹	۸	۶	۴		۵	۳	۲





۱۱- علامت $< = >$ بگذار.

۳۴ ○ ۲۷

۳+۷ ○ ۴+۹

۵۸ ○ ۴۹

۲+۶ ○ ۱۴-۶

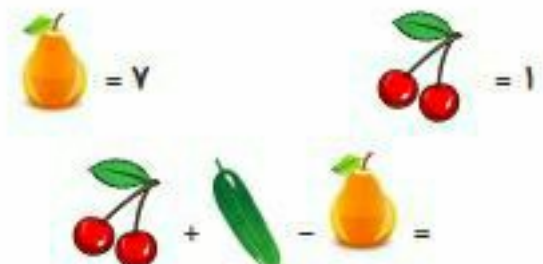
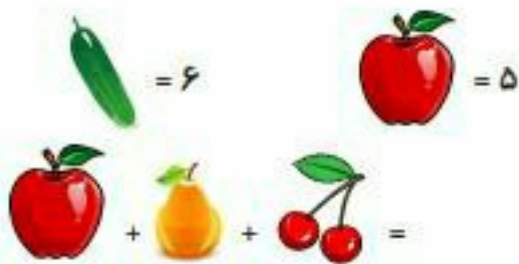
۵۰ ○ ۳۶

۹-۴ ○ ۵+۰

۷۸ ○ ۲۴

۲+۹ ○ ۷+۶


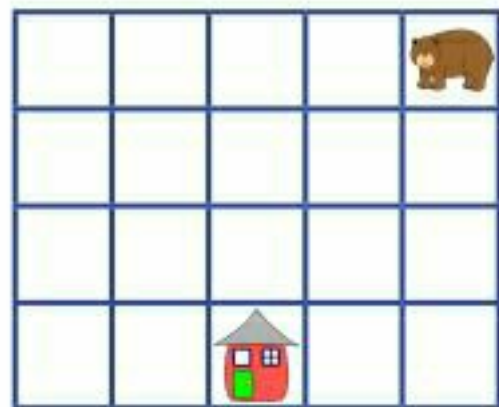
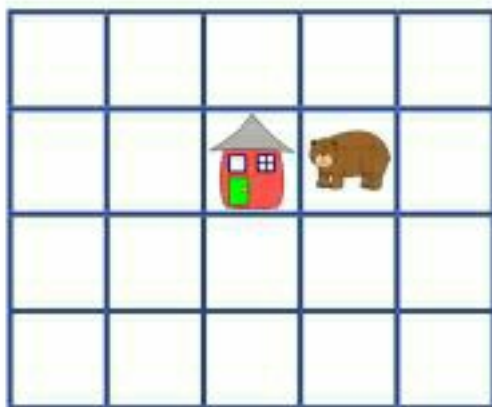
۱۲- با توجه به عدد هر میوه ، حاصل جمع و تفریق ها را بنویس.



..... + + =

..... + - =

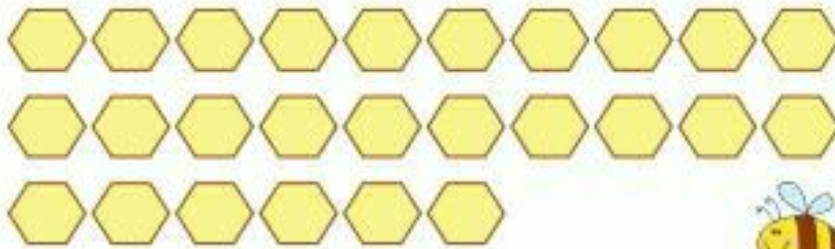
۱۳- با کشیدن خط ، خرس را طوری به خانه اش برسان که از همه ی خانه ها عبور کند :



فصل اول : دسته های ده تایی و یکی

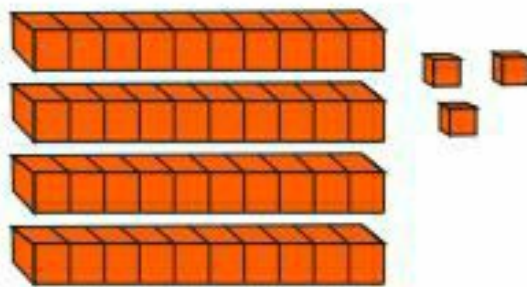


۱- با توجه به شکل ها، جدول ها را کامل کن. عددها را بنویس.



..... دسته ی ده تایی و یکی می شود

ده تایی	یکی



..... دسته ی ده تایی و یکی می شود

ده تایی	یکی

۲- در جاهای خالی عدد مناسب بنویس.

..... یعنی ۴۷ ده تایی و یکی

..... یعنی ۷۳ ده تایی و یکی

..... یعنی ۵۵ ده تایی و یکی

..... یعنی ۶۸ ده تایی و یکی

۳- جاهای خالی را کامل کن.



۳۴ ۳۱ ۲۹



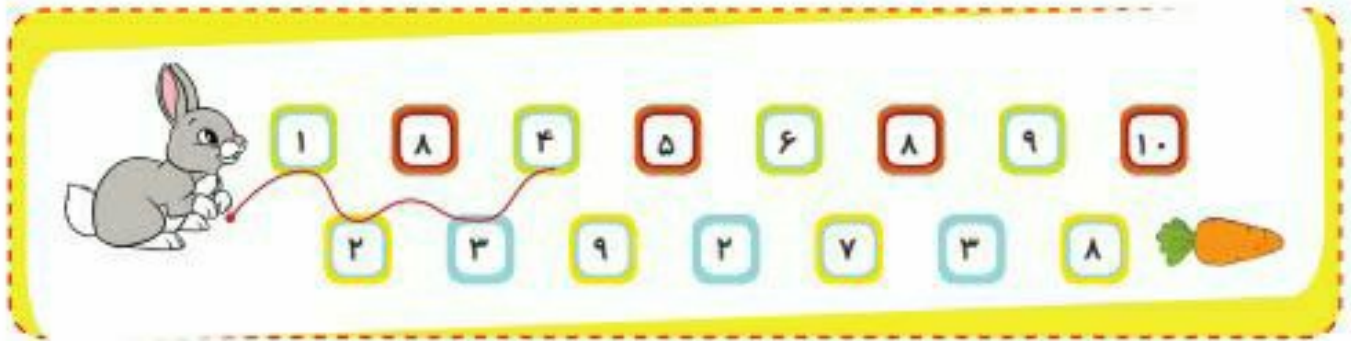
 ۷۶ ۷۳



۱- در جاهای خالی، عدد مناسب بنویس.



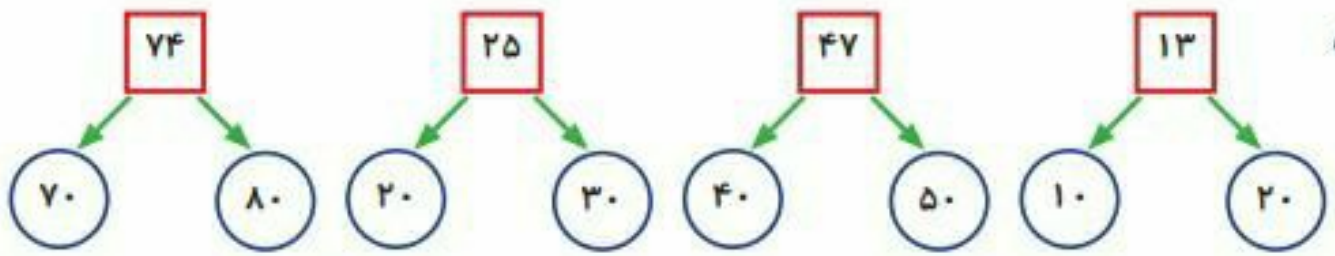
۲- با کشیدن ادامه ی خط، خرگوش را از مسیر ۱ تا ۱۰ به هویج برسان.



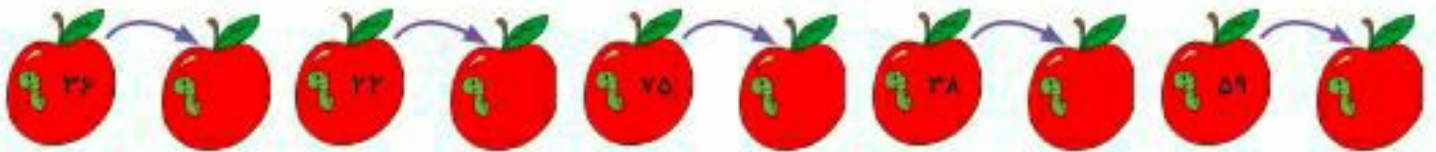
۳- جاهای خالی را کامل کن.






۱- عددهای زیر به کدام ده تایی نزدیک تر است؟ رنگ کن.



۲- عددهای زیر را به صورت تقریبی بنویس.



۳- در یک باغ وحش ۱۸ میمون، ۳۲ خرگوش و ۴۵ آهو نگهداری می شوند. تعداد و تعداد تقریبی هر کدام را در جدول بنویس.

			حیوان
			تعداد
			تعداد تقریبی

هر ۱۰ حیوان را با  نشان بده و نمودار را کامل کن.



فصل چهارم : عددهای سه رقمی



۱- عدد هر شکل را بنویس.



.....



.....



.....

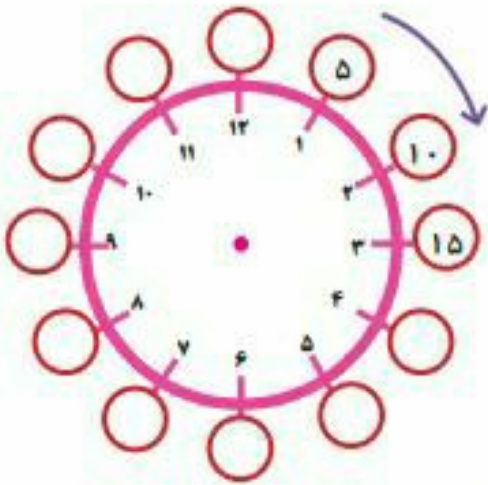
۲- الگوی زیر را کامل کن.

۱۰	۲۰	۳۰	●	●	●	●	●	●	●
۹۱	۹۲	۹۳	●	●	●	●	●	●	●

ده تا یکی می شود یک دسته ی ده تایی . با کنار هم گذاشتن ده تا دسته ی ده تایی می توان یک دسته ی صد تایی درست کرد .
 واحد پول کشور ما ریال است. با ده تا یک ریالی می توان یک سکه ی ده ریالی گرفت و با ده تا ده ریالی می توان یک سکه ی صد ریالی گرفت.



۱- الگوی عددی را ادامه بده.



۲- در هر ساعت عقربه بزرگ چند دقیقه جلو رفته است؟



..... دقیقه



..... دقیقه



..... دقیقه



..... دقیقه

۳- عقربه دقیقه شمار را رسم کن.



ساعت ۷ و ۲۰ دقیقه



ساعت ۹ و ۴۰ دقیقه



ساعت ۱۲ و ۱۰ دقیقه



ساعت ۴ و ۴۵ دقیقه

۴- هر کدام از شکل ها، چه ساعتی را نشان می دهد؟



ساعت و دقیقه



ساعت و دقیقه



ساعت و دقیقه



ساعت و دقیقه



برای اینکه بتوانیم در اندازه گیری طول ، یک پاسخ یکسان داشته باشیم، از وسیله هایی مثل خط کش ، متر و... استفاده می کنیم .




در این وسایل از واحدی به نام سانتی متر استفاده شده است.




۱- خط کش تو چند سانتی متر است؟

۲- برای اندازه گیری پارچه از چه وسیله ای استفاده می شود؟


۳- طول هر یک از شکل های زیر چند سانتی متر است؟



..... سانتی متر



..... سانتی متر



..... سانتی متر

۴- از نقطه « م » با خط کش به اندازه ۶ سانتی متر روی خط علامت بزن و خط خود را پر رنگ کن.



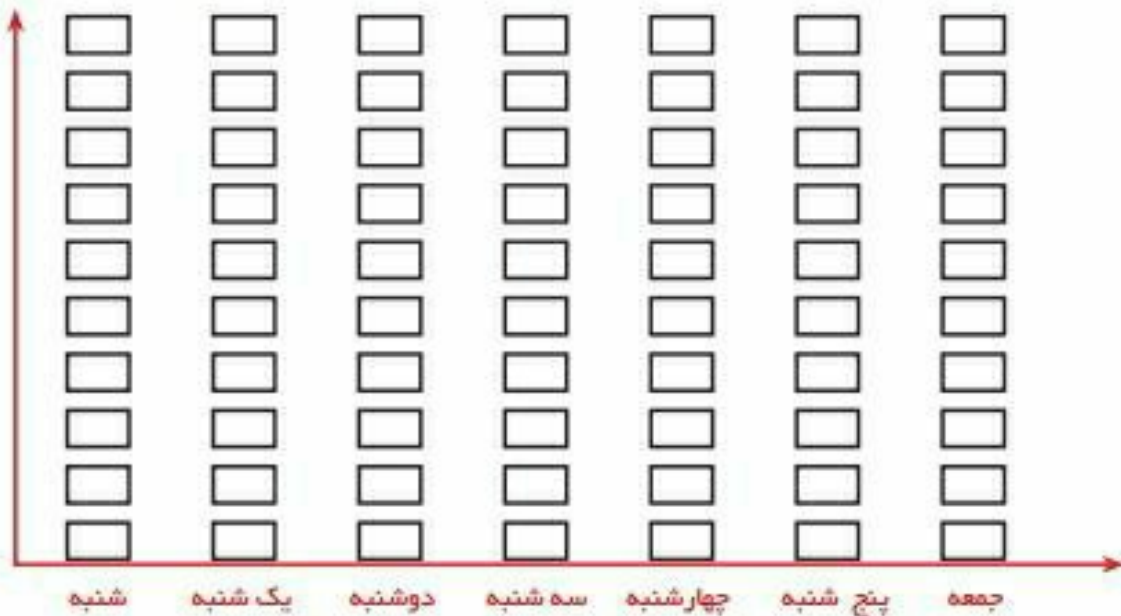
۱- مقدار فروش شیر یک فروشگاه در هفته، در جدول زیر نوشته شده است.

روز	شنبه	یکشنبه	دوشنبه	سه شنبه	چهارشنبه	پنج شنبه	جمعه
تعداد شیر	۴۶	۳۲	۵۳	۲۷	۴۳	۶۷	—
تعداد تقریبی							

در کدام روز، کمترین پاکت شیر فروخته شده است؟

چرا در روز پنجشنبه مقدار فروش از همه ی روزها بیش تر است؟


۲- در نمودار زیر با توجه به جدول سوال قبل، برای هر ۱۰ پاکت شیر، یک مربع را رنگ کن.



۳- تعداد و نوع ساعت هایی که یک ساعت فروشی در یک ماه فروخته است، در جدول زیر آمده است.

برای هر ۱۰ ساعت یک بکش.

نوع ساعت			
تعداد	۳۱	۴۵	۶۳
تعداد تقریبی			





۱- تعدادی از وسایل یک آشپزخانه در جدول زیر مشخص شده است . تعداد تقریبی هر وسیله را بنویس .

					وسيله
۱۴	۲۳	۴۷	۳۸	۵۴	تعداد
					تعداد تقریبی

برای هر ۱۰ وسیله یک  بکش و نمودار را کامل کن .



۲- در یک باغ تعدادی درخت میوه وجود دارد . اگر هر ۱۰ درخت با  نشان داده شود . جدول زیر را کامل کن .

نمودار تصویری	تعداد درخت	نوع درخت
	۸۷	سیب
	۵۴	پرتقال
	۶۳	گلابی
	۴۶	موز