

دفتر  
مشق تاک

ریاضی

اول دبستان



به نام خداوند بخشنده مهربان

دفتر

# مَسُوقِ تَاكِ رِيَاضِي

اول دبستان

مolf: زهرا آقایی



ای که با نامت جهان آغاز شد دفتر ما هم به نامت باز شد

درود فراوان

اثری که پیش روی شماست (دفتر مشق ریاضی اولی ها) با محتوای ریاضی سال اول دبستان به صورتی جمع آوری شده است که بتواند موانع و مشکلات دانش آموز را در امر یادگیری براساس تکرار و تمرین برطرف کند.

تمام مطالب دفتر مشق مطابق با کتاب ریاضی اول دبستان می باشد، تا برای معلمان عزیز و اولیا روند آموزش در سطح نسبتاً مطلوبی صورت پذیرد و سهولت کار را به ثمر رساند.

سعی کرده ایم دفتر مشق جذاب و دوست داشتنی را در اختیار دانش آموزان عزیز قرار دهیم چرا که ریاضی بسیار مهم است و باید از همان ابتدا یادگیری آن را جدی بگیریم تا بتوانیم فرزندانمان را در مهارت های حل مسئله پیش تاز کنیم. امید دارم به خوبی از انجام این کار مهم برآمده باشم. امید است با پیشنهادات و انتقادات خود یاریمان کنید.


و در پایان از تمامی عزیزانی که در به ثمر رساندن این دفتر مشق صمیمانه همراه بودند سپاسگزاری می کنم.

به امید روزهای خوب برای فرزندان سرزمینم



زهرا آقایی



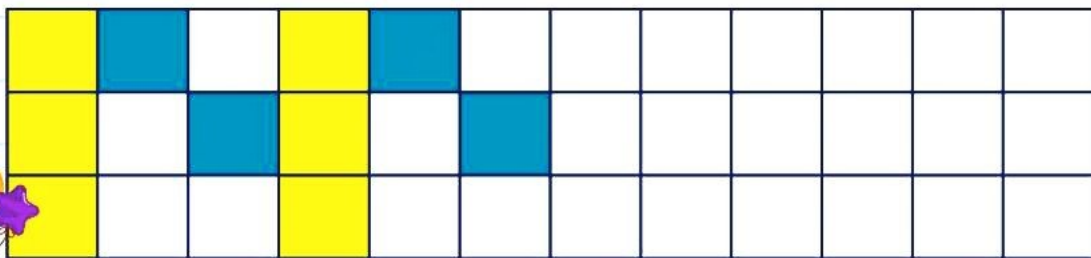
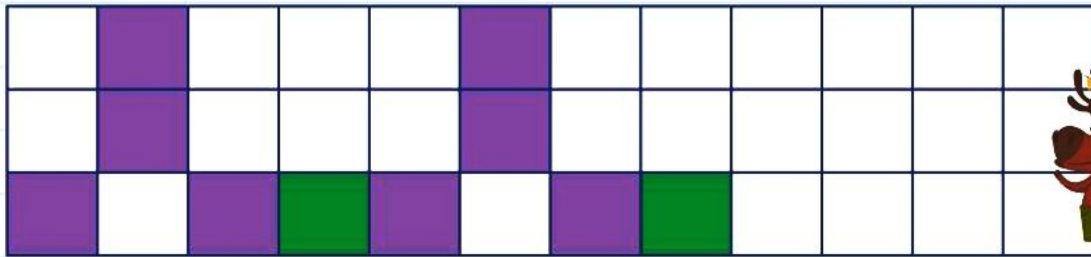
● در هر قسمت، انگشتان ۲ دست روی هم چندتا می شود؟ به تعداد آن ها، از شکل های زیر رنگ کن.



● هر شکل را در خانه های شطرنجی بکش.



● الگوها را ادامه بده.



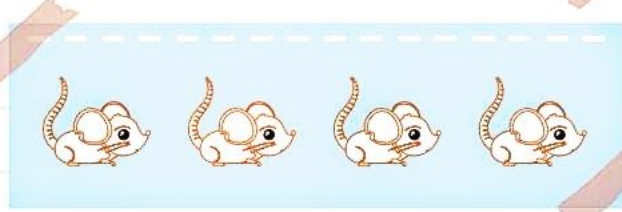
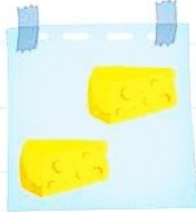
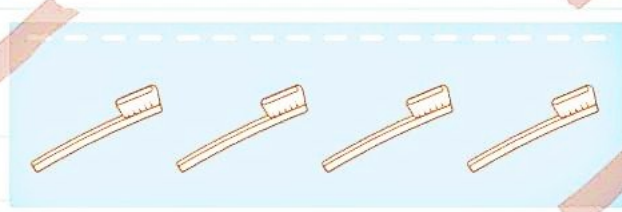



# مشق تاک - ریاضی اول دبستان





تم ۲

● به تعداد شکل های سمت چپ، از شکل های سمت راست رنگ بزن.





● در هر ردیف با توجه به رنگ خواسته شده رنگ بزن.

- سبز →
- آبی →
- زرد →




● عزیزم! هر ستون را به دلخواه رنگ بزن.

● جدول ها را با رنگ مناسب کامل کن.





● در هر قسمت، دسته هایی که تعداد شکل هایشان به اندازه ی تعداد انگشتان است را رنگ بزن.



● رنگ کردن شکل ها را به همان ترتیب ادامه بده





● دانش آموز گلم! به جمله ها گوش کن و تصویر را کامل کن.



۱- چند ماهی در تصویر می بینی؟ آن ها را قرمز کن.

۲- روی درخت بلندتر یک میوه بکش.

۳- پرنده ی سمت راست را زرد کن و پرنده ی سمت چپ را سبز کن.

۴- بالای کوه ها خورشید بکش.

۵- چند قورباغه در رودخانه می بینی؟ دور قورباغه ی وسطی خط بسته بکش.

۶- زیر درخت بلندتر یک سیب بکش.




۷- سمت راست درخت کوتاه تر یک گل بکش.

۸- پایین کوه یک آدم بکش.







● دور دسته ی کمتر خط بکش.



● شکل هایی که تعدادشان اندازه ی هم است را به هم وصل کن.



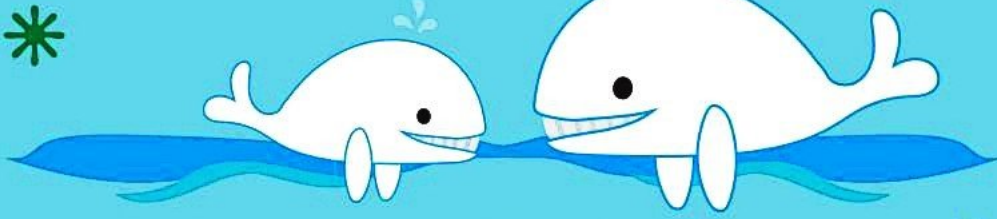
● در جای خالی کدام یک از شکل ها قرار می گیرد؟ به آن ها وصل کن.



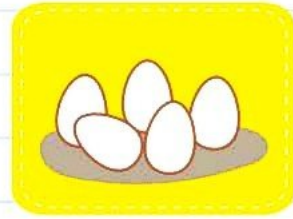


● عزیزم! نهنگ بزرگ را آبی کن.



● نهنگ کوچک را زرد کن.




● تخم مرغ های داخل سبد را رنگ کن.



● نازنینم! لیوان سمت چپ را خالی نگه دار و لیوان سمت راست را با مداد رنگی آبی پر از آب کن.



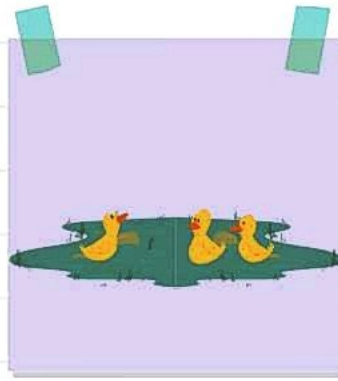

● گل خوشبوی من، کدام سنگین تر است؟ رنگ آمیزی بکن.





# مشق تاک - ریاضی اول دبستان


● چند اردک از آب بیرون می روند؟ چند اردک در آب می مانند؟ با چوب خط نشان بده.



● در ایستگاه چند مسافر از اتوبوس پیاده می شوند؟ چند مسافر می مانند؟ با چوب خط نشان بده.



● چند سیب در ظرف خورده شده است؟ چند سیب باقی مانده است؟ با چوب خط نشان بده.








● چند لیوان شکسته شده است؟ چند لیوان سالم باقی مانده است؟ با چوب خط نشان بده.





● شکل های زیر را با شابلون روی کاغذ رنگی بکش و با قیچی ببر و هر شکل را در مقابل خودش بچسبان و بگو هر شکل چند لبه و چند گوشه دارد؟ هر کدام را با چوب خط بکش.

			گوشه
			لبه
			گوشه
			لبه
			گوشه
			لبه
			گوشه
			لبه
			گوشه
			لبه

● من ۵ تا شکلات داشتم. ۳ تای آن را خوردم. چندتا شکلات برایم باقی می ماند؟ جواب را با چوب خط نشان بده.




۳۸







● به تعداد هر شکل چوب خط بکش.




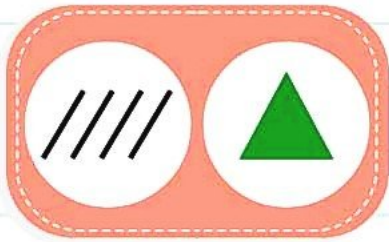
۳۲



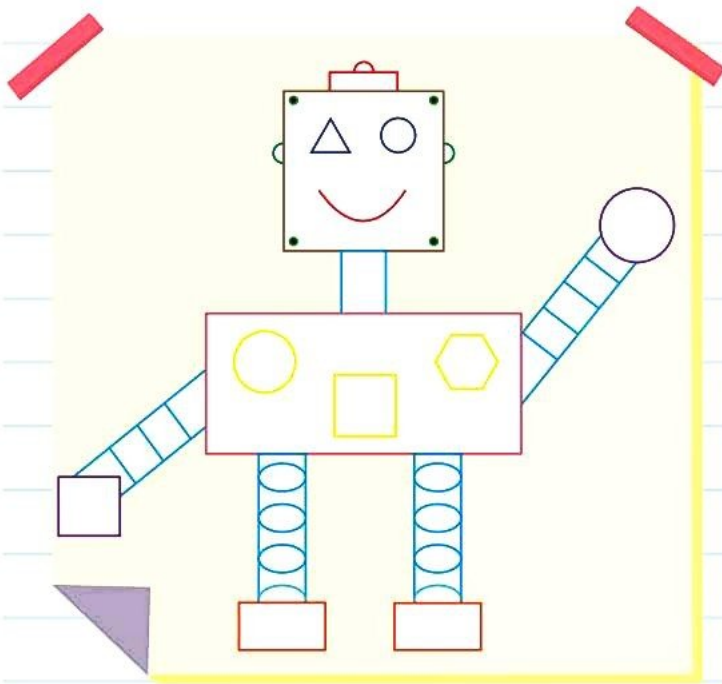


## مشق تاک - ریاضی اول دبستان

● با استفاده از شابلون، به تعداد چوب خط ها در هر ردیف، مانند شکل داده شده بکش و آن ها را رنگ بزن.




● با استفاده از شابلون، شکل را بکش و آن را رنگ بزن و به یک نقاشی زیبا تبدیل کن.





● تعداد هر شکل را در جدول، زیر تصویر آن بنویس.





# مشق تاک - ریاضی اول دبستان

● شکل های سمت چپ و راست روی هم چندتا می شود؟ با عدد و چوب خط نشان بده.




● در جای خالی عدد مناسب بنویس.



● اگر به تعداد شکل های سمت راست از شکل های سمت چپ برداریم، چند تا می ماند؟ عدد آن را

بنویس.

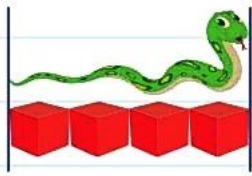







# مشق تاک - ریاضی اول دبستان

اندازه ی هر شکل از چندتا شکل کوچک درست شده است.



اندازه ی  .....  است.

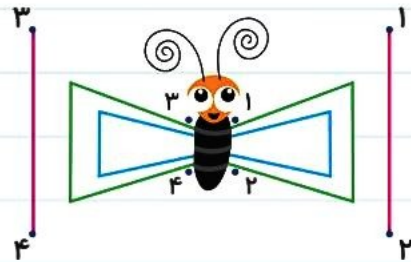


اندازه ی  .....  است.


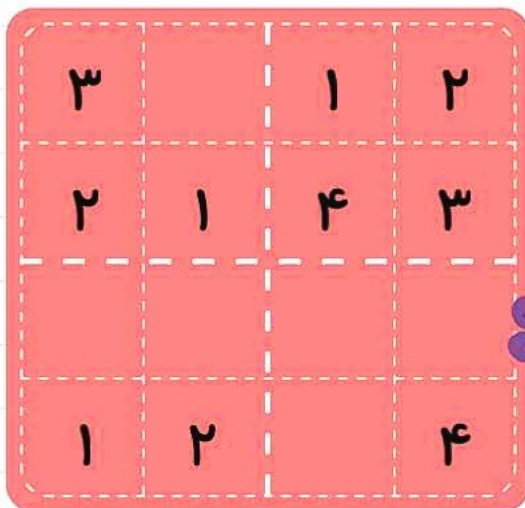


اندازه ی  .....  است.

عددهای مثل هم را با خط کش مانند نمونه به هم وصل کن.



مربع های شگفت انگیز را با عددهای مناسب پر کن.





● از هر دسته بادکنک، چندتا بادکنک ترکیده است؟ با چوب خط نشان بده.



● از هر دسته بادکنک، چندتا بادکنک سالم مانده است؟ با چوب خط نشان بده.


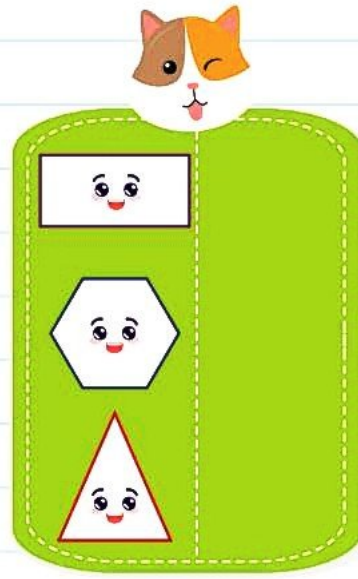
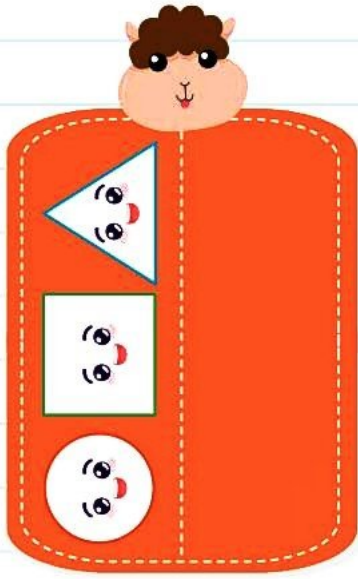


● از هر دو دسته بادکنک، روی هم چندتا بادکنک سالم مانده است؟ با چوب خط نشان بده.





● به تصاویر دقت کن و با کمک خط کش شابلون دار در قسمت دیگر شکل ها را بکش.






# مشق تاک - ریاضی اول دبستان



تم ۱۳

● عدد مربوط به انگشتان هر دست را بنویس. انگشتان دست چپ را تا جایی که می شود به دست راست منتقل کن و حاصل را بنویس و برایش چوب خط بکش.



..... + ..... = .....



..... + ..... = .....



..... + ..... = .....



..... + ..... = .....

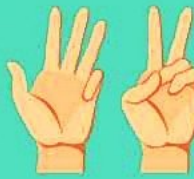









# مشق تاک - ریاضی اول دبستان

عدد هر دسته را بنویس و یکی از علامت های  $<$   $=$   $>$  بگذار



● با توجه به فلش عدد نه را بنویس.



۹ ↓ ۹

● با توجه به عدد نوشته شده از شکل ها جدا کن و خط بسته بکش و در زیر هر عدد چوب خط بکش.



جای خالی را با عدد مناسب پر کن.

ده تایی   یکی

ده تایی   یکی

ده تایی   یکی

ده تایی   یکی

ده تایی   یکی

ده تایی   یکی

ده تایی   یکی

ده تایی   یکی


ده تایی   یکی

ده تایی   یکی

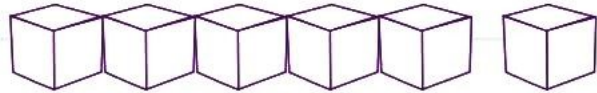




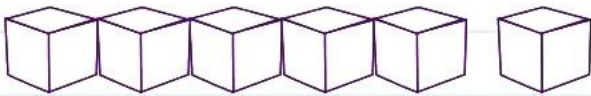
مانند نمونه برای هر عدد از یک رنگ استفاده کن و با رنگ کردن، جواب جمع را پیدا کن.



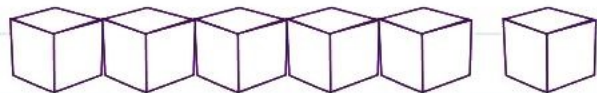
$$2 + 3 + 1 = \dots\dots$$



$$4 + 1 + 1 = \dots\dots$$



$$2 + 2 + 1 = \dots\dots$$



$$0 + 3 + 2 = \dots\dots$$

جاهای خالی را با عدد مناسب پر کن. نمونه آخر را خودت رنگ بزن.



$$\dots\dots + \dots\dots + \dots\dots = \dots\dots$$



$$\dots\dots + \dots\dots + \dots\dots = \dots\dots$$



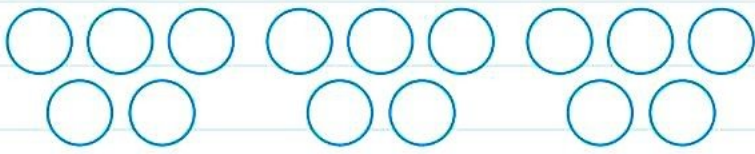
$$\dots\dots + \dots\dots + \dots\dots = \dots\dots$$



$$\dots\dots + \dots\dots + \dots\dots = \dots\dots$$



با استفاده از دو رنگ مختلف جواب جمع ها را پیدا کن.




$$۸ + ۵ = \dots\dots$$




$$۵ + ۶ = \dots\dots$$



$$۹ + ۷ = \dots\dots$$



$$۸ + ۸ = \dots\dots$$



$$۷ + ۴ = \dots\dots$$





$$۹ + ۵ = \dots\dots$$







● الگوی عددی را ادامه بده.

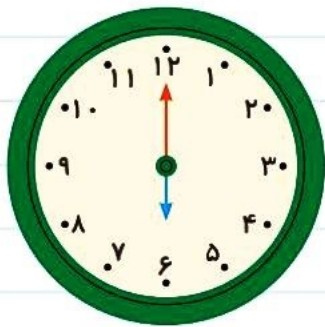
۳۲ - ۳۴ - ۳۶ - ..... - ..... - ..... - ..... - ..... 

۳۵ - ۴۰ - ۴۵ - ..... - ..... - ..... - ..... - ..... 

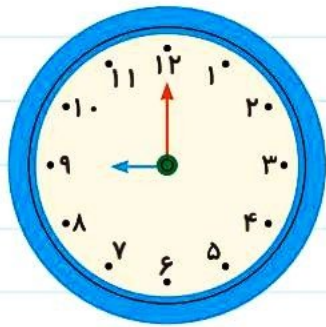
۴ - ۸ - ۱۲ - ..... - ..... - ..... - ..... - ..... 

۱۳ - ۱۶ - ۱۹ - ..... - ..... - ..... - ..... - ..... 

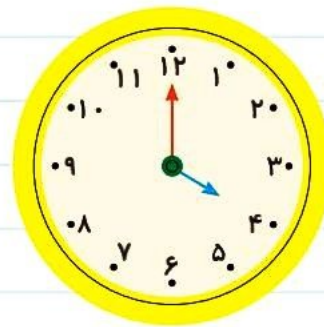
● در جای خالی زمان مناسب را بنویس.



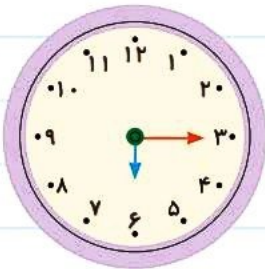
ساعت ..... است.



ساعت ..... است.



ساعت ..... است.



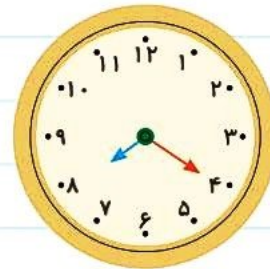
ساعت از ..... گذشته است.



کمی به ساعت ..... مانده است.




کمی به ساعت ..... مانده است.



ساعت از ..... گذشته است.




● دسته های ده تایی درست کن. جدول را کامل کن و عدد مربوط را بنویس.




ده تایی	یکی

.....




ده تایی	یکی

.....



ده تایی	یکی

.....



ده تایی	یکی

.....

● نوشتن عدد ها را ادامه بده.

۵۰ - ۵۱ - ۵۲ - ..... - ..... - ..... - ..... - .....

۶۰ - ۶۱ - ۶۲ - ..... - ..... - ..... - ..... - .....

۷۰ - ۷۱ - ۷۲ - ..... - ..... - ..... - ..... - .....








# مشق تاک - ریاضی اول دبستان

● با کمک شکل‌ها جاهای خالی را کامل کن.



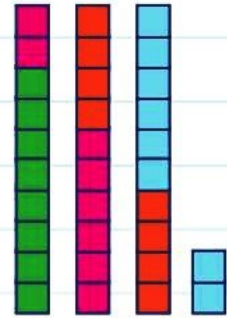
.....



.....



.....



.....

● مسئله‌ها را با کمک شکل حل کن.

بهروز ۲۵ شکلات دارد. ۹ تا را به دوستش داد.

حالا چند شکلات دارد؟ .....


اگر ۳ تای آن را به آموزگارش بدهد چند شکلات برایش می‌ماند؟ .....



۲۷ قورباغه داخل برکه بودند. ۷ تا از قورباغه‌ها از برکه بیرون پریدند. ۵ تای دیگر هم به بیرون

پریدند. حالا چند قورباغه داخل برکه باقی مانده است؟

..... قورباغه باقی مانده است.



● کامل کن.

۶۰ یعنی ..... ده تایی و ..... یکی

۵ یکی و ۸ ده تایی می‌شود .....

۱۷ یعنی ..... یکی و ..... ده تایی


۳ تا ده تایی و ۹ یکی می‌شود .....





تم ۲۵

● در جای خالی عدد های مناسب بنویس.



۵ تا ۵ از عدد پنج شروع به رنگ زدن کن و از رنگ آبی استفاده کن.

۲ تا ۲ از عدد دو شروع به رنگ زدن کن و از رنگ زرد استفاده کن.

۶ تا ۶ از عدد ۶ شروع به رنگ زدن کن و از رنگ سبز استفاده کن.

● در جای خالی عدد های مناسب بنویس.



۱۴۲

