

سنجش ماهانه

پایه چهارم دبستان

هماهنگ با ساحت‌های شش‌گانه سند تحول بنیادین

و

طبق آخرین دستورالعمل ارزشیابی توصیفی وزارت آموزش و پرورش

- طراحی استاندارد پرسش‌ها، طبق آخرین بودجه‌بندی و تغییرات کتاب‌های درسی وزارت آموزش و پرورش
- طراحی استاندارد پرسش‌ها براساس سبک‌های یادگیری (تصویری، کلامی و ...)
- آزمون‌های مهارتی - عملکردی، طبق آخرین دستورالعمل وزارت آموزش و پرورش
- تناسب کیفیت، حجم و نوع پرسش‌ها با گروه سنی دانش‌آموزان (چندگزینه‌ای، درست و نادرست، وصل‌کردنی، کوتاه‌پاسخ، بلندپاسخ)
- کاربردی‌ترین بازخوردهای ارزشیابی توصیفی وزارت آموزش و پرورش (خودسنجی - والدسنجی - همسال‌سنجی)
- دارای پاسخ‌نامه تشریحی (ویژه آموزگاران محترم)



☎ ۰۲۱-۶۶۹۸۹۳۴۰

🌐 nashrehesami.ir

مؤلف: مهندس یاسمن عبدلی
مدیریت برنامه ریزی و تولید: نازنین فاطمه مصدقی
ویراستار علمی: زینب اسکندری



جدول بودجه‌بندی
سنجش ماهانه
پایه چهارم دبستان

ماه	درس	شماره	ریاضی	فارسی	علوم	مطالعات اجتماعی	هدیه‌های آسمان
مهر	۱	فصل ۱	درس ۱ و ۲	درس ۱ و ۲	درس ۱ تا ۳	درس ۱ و ۲	
آبان	۲	فصل ۲	درس ۱ تا ۵	درس ۳ و ۴	درس ۴ و ۵	درس ۱ تا ۵	
آذر	۳	فصل ۳	درس ۱ تا ۷	درس ۵ و ۶	درس ۶ تا ۸	درس ۱ تا ۸	
نوبت اول	۴	ص ۲ تا ۷۴	درس ۱ تا ۱۱	درس ۱ تا ۸	درس ۱ تا ۱۱	درس ۱ تا ۱۱	
بهمن	۵	فصل ۴	درس ۱۲ و ۱۳	درس ۹ و ۱۰	درس ۱۲ تا ۱۴	درس ۱۱ تا ۱۳	
اسفند	۶	فصل ۵	درس ۱۲ تا ۱۵	درس ۱۱	درس ۱۵ تا ۱۸	درس ۱۱ تا ۱۶	
فروردین	۷	فصل ۶	درس ۱۲ تا ۱۶	درس ۱۲	درس ۱۹ و ۲۰	درس ۱۱ تا ۱۷	
نوبت دوم	۸	کل کتاب	درس ۱ تا ۱۷ کل کتاب	درس ۱ تا ۱۳ کل کتاب	درس ۱ تا ۲۲ کل کتاب	درس ۱ تا ۱۹ کل کتاب	




یاد گرفته یاد گرفته یاد نگرفته

۳ ۲ ۱

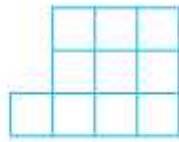
شکل پنجم الگوی زیر را کامل کنید.




(۱)



(۲)



(۳)



(۴)

(۵)

الگوهای عددی زیر را ادامه دهید.




جمعیت یک شهر در سال گذشته حدوداً ۳۰۳۶۵۴۲۱ نفر بوده است.

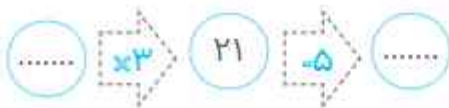
این عدد را به حروف بنویسید.

بزرگ‌ترین رقم در چه مرتبه‌ای قرار دارد؟

کوچک‌ترین و بزرگ‌ترین عدد ۶ رقمی بدون تکرار رقم‌ها را بنویسید.



جاهای خالی را در ماشین‌های (ورودی - خروجی) زیر کامل کنید.



با توجه به کاری که ماشین انجام می‌دهد، شکل خروجی را رسم کنید.



- ۱
- ۲
- ۳

۶

عبارت زیر را در جدول ارزش مکانی قرار دهید.

هزار					
صدگان	دهگان	یکان	صدگان	دهگان	یکان

۵ تا صد هزرتایی + ۶ تا ده هزرتایی + ۳ تا صدتایی ←

- ۱
- ۲
- ۳

۷

گسترده عدد داده شده کدام است؟



- $800000 + 8000 + 80$
- $800000 + 800 + 80$
- $800000 + 80 + 800$
- $800 + 800 + 800$

- ۱
- ۲
- ۳

۸

حاصل عبارت‌های زیر را به دست آورید.

$700 \times 5000 =$ <input type="text"/>	$6700 - 2300 =$ <input type="text"/>	$8200 + 1700 =$ <input type="text"/>
--	--------------------------------------	--------------------------------------

- ۱
- ۲
- ۳

۹

عبارت‌های مربوط به هم را به یک‌دیگر وصل کنید.

۲۶۲۰۲۱	بیست و پنج هزار و ششصد و دوازده
۲۵۶۱۲	دویست و هشتاد و یک هزار و سیصد و نه
۲۸۱۳۰۹	دویست و شصت و دو هزار و بیست و یک

- ۱
- ۲
- ۳

۱۰

ارزشیابی توصیفی

آموزگار محترم، عملکرد دانش‌آموزتان در پاسخ‌دهی به پرسش‌ها را با انتخاب یکی از اعداد ۱، ۲ یا ۳ مشخص کنید.

۱ یادگرفته	جمع و تفریق و ضرب	ماشین‌های روزی و فروشی	الگو	عدد نویسی
۲ تا حدودی یادگرفته	۳ ۲ ۱	۳ ۲ ۱	۳ ۲ ۱	۳ ۲ ۱
۳ یاد نگرفته				

بازفورد توصیفی آموزگار،

ارزشیابی آموزگار



یاد گرفته تا حدود یاد گرفته یاد نگرفته

درک مطلب

۱ با توجه به درس «آفریدگار زیبایی»، کدام فصل را به عنوان دومین نقاشی طبیعت می‌شناسیم؟
 ۱ بهار ۲ زمستان ۳ تابستان ۴ پاییز

۲ با توجه به معنی بیت زیر، جاهای خالی را کامل کنید.
 برگ درختان سبز در نظر هوشیار هر ورقش دفترى است معرفت کردگار
 برگ درختان سبز در نگاه مانند ورق‌هایی از دفتر شناخت _____ است.

۳ با توجه به درس کوچ پرستوها، جنبش پرستوها در ابتدای پاییز، نشانه‌ی چیست؟

۴ وقتی می‌خواهیم به کسی بگوییم «از تو قوی‌تر هم وجود دارد»، از چه ضرب المثلی استفاده می‌کنیم؟
 ۱ دست بالای دست بسیار است ۲ مرغ همسایه غاز است
 ۳ توانا بود هر که دانا بود ۴ سحر خیز باش تا کامروا شوی

دانش زبانی و واژه‌آموزی

۵ هم‌خانواده‌ی کلمه‌های داده‌شده را از داخل ابر پیدا کنید و بنویسید.
 مجموع، لطیف، نظر، لطافت، ناظر، جامع، جمع، لطف، منظره

۶ در متن زیر، از کدام نشانه‌های نگارشی باید استفاده کنیم؟
 زمستان با خود گفت تا وقتی کارم را تمام نکردم خورشید نباید نقاشی مرا ببیند

۷ با توجه به عنوان داده‌شده، نمودار را کامل کنید.



هم‌معنی کلمه‌های زیر را بنویسید.

۸

جامه

کمیاب

جهان‌افروز



با انتخاب حرف مناسب و توجه به معنی، کلمه‌های ناقص را کامل کنید.

۹



لـ سیف، نرم (ط / ت)

سـ راغ، پی چیزی رفتن (ص / س)

وـ ک، قورباغه (غ / ق)

باتوجه به معنی هر جمله، شکل صحیح کلمه را از داخل کمانک انتخاب کنید.

۱۰

۱. در این سفر (طولانی / تولانی) خطرهای بسیاری وجود دارد.

۲. خورشید (پزیرفت / پذیرفت) که بین آن‌ها داوری کند.

۳. پاییز رنگ برخی از درختان را (ارقوانی / ارغوانی) کرد.



با توجه به درس «آفریدگار زیبایی»، نقاش پاییز چطور آن را کشیده است؟ (در یک بند توصیف کنید).

۱۱



Four horizontal lines for writing the answer to question 11.

ارزشیابی توصیفی

والدین گرامی؛ پس از بررسی آزمون فرزندتان، نقاط قوت، نقاط قابل بهبود و پیشنهادهایی برای عملکرد بهتر او بنویسید.

نقاط قوت:

نقاط قابل بهبود:

پیشنهادها:

بازفورد توصیفی آموزگار:

والدین گرامی

۱

یاد گرفته تا حدودی یاد گرفته یاد نگرفته

۱ ۲ ۳

زیر واژه‌ی درست خط بکشید.

۱. آخرین مرحله از یک تحقیق علمی (نتیجه‌گیری / مشاهده) است.

۲. آب گل‌آلود نوعی (مخلوط جامد در مایع / محلول جامد در مایع) است.

عبارت‌های مربوط به هم را به یک‌دیگر وصل کنید.



درستی یا نادرستی جمله‌های زیر را مشخص کنید.

۱. بیش‌تر مواد در دنیای اطراف ما مخلوط هستند.

۲. پودر نبات، بهتر و سریع‌تر از شاخه نبات در آب حل می‌شود.

۳. حباب‌ها حتماً به شکل حباب‌ساز درمی‌آیند.

X	✓
<input type="radio"/>	<input type="radio"/>
<input type="radio"/>	<input type="radio"/>
<input type="radio"/>	<input type="radio"/>

نوع هر مخلوط را با علامت مشخص کنید.

نام مخلوط	یکنواخت	غیریکنواخت
دوغ		
نمک در آب		

گزینه‌ی درست را انتخاب کنید.

۱۱۵ برای جداسازی اجزای مخلوط نمک در آب، کدام روش مناسب‌تر است؟

- ۱ صاف کردن
- ۲ تبخیر کردن
- ۳ بی‌حرکت گذاشتن
- ۴ سرریز کردن

۱۱۶ در یک شهر گرم و آفتاب‌گیر، بهتر است از چه رنگ لباسی بیش‌تر استفاده کنیم؟

- ۱ رنگ‌های روشن
- ۲ رنگ‌های تیره
- ۳ فرقی نمی‌کند
- ۴ قهوه‌ای تیره

با توجه به شکل، عبارت داده‌شده را کامل کنید.



آب سرد آب نیمه‌گرم آب داغ

۱۱۷ شکر در آب _____ سریع‌تر حل می‌شود، چون

در حل شدن مواد در آب اثر دارد.

یک مورد از استفاده و کاربرد مخلوط‌ها در زندگی را بنویسید.

محلول را تعریف کنید.

ارزشیابی توصیفی

دوست عزیزم!

شما توانسته‌ای همه‌ی تعداد زیادی تعداد کمی از پرسش‌ها را پاسخ دهی. برای موفقیت بیش‌تر، به تو پیشنهاد می‌کنم که

بازفورد توصیفی آموزگار،

مسئول ستادی

سنجش ماهانه چهارم دبستان مطالعات اجتماعی

درس ۱ تا ۳

نام: _____

نام خانوادگی: _____

کلاس: _____

یاد گرفته تا حدودی یاد گرفته یاد نگرفته

۱ ۲ ۳

پاسخ درست را با علامت مشخص کنید.

۱ کدام گزینه، جزء امکانات عمومی یک محله است؟

- ۱ ایستگاه اتوبوس ۲ خانه‌های مردم
 ۳ خودروها ۴ مغازه سبزی‌فروشی

۲ کدام یک از محل‌های اجتماع مردم، محل برگزاری مراسم مذهبی و عبادت خداوند است؟

- ۱ بوستان ۲ مسجد ۳ درمانگاه ۴ کتابخانه

۳ جاهای خالی را با عبارتهای مناسب پر کنید.

۱ مردم هر محله، برای _____ و _____ به بوستان یا فضای سبز می‌روند.

۲ به محل ایستادن امام جماعت در مسجد، _____ می‌گویند.

۳ هنگام خواندن نماز جماعت، مردم _____ امام جماعت و روبه _____ نماز می‌خوانند.

۴ جمله‌های درست و نادرست را مشخص کنید.

X	✓
<input type="checkbox"/>	<input type="checkbox"/>
<input type="checkbox"/>	<input type="checkbox"/>
<input type="checkbox"/>	<input type="checkbox"/>

۱ موقع خداحافظی با مهمان‌ها در راهرو، با صدای بلند صحبت کنیم.

۲ با گذشت زمان در محله، تغییراتی به وجود می‌آید.

۳ نانوایی یکی از شغل‌های تولیدی است.

۵ محله را تعریف کنید.

۶ دو مورد از قوانین آپارتمان را بنویسید.

هر جمله را به کلمه‌ی مربوط به آن وصل کنید.

۶

بودجه	پولی که از راه کارکردن به دست می‌آید.
پس‌انداز	پولی که برای خرید کالاهای موردنیاز خرج می‌کنیم.
هزینه	پولی که برای زمان‌هایی که نیاز داریم، نگه می‌داریم.
درآمد	جدولی که برای مدیریت کردن پول‌هایمان است.

- ۱
- ۲
- ۳

فرموده‌ی پیامبر اکرم (ص)، را درباره‌ی همسایه‌ها کامل کنید.

۷

اگر می‌خواهید _____ و پیامبر، شما را دوست داشته باشند، راستگو و _____ باشید و با _____ خود به _____ رفتار کنید.

- ۱
- ۲
- ۳

کدام گزینه، از مقررات یک محله نیست؟

۸

- ۱ پارک نکردن جلوی پارکینگ همسایه
- ۲ بلندنکردن صدای ضبط و رادیو
- ۳ قرار ندادن زباله در محل مخصوص
- ۴ بازی نکردن در کوچه هنگام استراحت همسایه‌ها

- ۱
- ۲
- ۳

امکانات عمومی یعنی چه؟

۹

- ۱
- ۲
- ۳

ارزشیابی توصیفی

دانش آموز عزیزم! مواردی که باید در آن تمرین و آموزش داشته باشی،

ارزشیابی آموزگار

سنجش ماهانه

چهارم دبستان

هدیه‌های آسمان

درس ۱ و ۲

نام: _____

نام خانوادگی: _____

کلاس: _____

ماجرای کودکی بر آب، سرگذشت کدام پیامبر است؟

- حضرت ابراهیم (ع) حضرت محمد (ص)
 حضرت عیسی (ع) حضرت موسی (ع)

درستی یا نادرستی عبارتهای زیر را مشخص کنید.

X	✓
<input type="radio"/>	<input type="radio"/>
<input type="radio"/>	<input type="radio"/>
<input type="radio"/>	<input type="radio"/>

اگر شکل همهی دندان‌هایمان شبیه هم بود، به راحتی می‌توانستیم نیازهایمان را برطرف کنیم.

همسر فرعون، یکی از بهترین زنان عالم است.

خداوند توانا، نیازهای موجودات زنده را برطرف می‌کند.

چرا فرعون دستور داد همهی فرزندان پسر را از بین ببرند؟

عبارتهای زیر را با انتخاب کلمه‌ی مناسب، کامل کنید.

- حضرت موسی (ع)، برای هدایت قوم (بنی اسرائیل / فرعون) فرستاده شده بود.
 خداوند روز را زمان تلاش و شب را زمان (کار / استراحت) قرار داده است.

نیاز نوزادان به مواد غذایی چگونه تأمین می‌شود؟

- استراحت دارو شیر مادر انواع غذا

عبارتهای مربوط به هم را هم‌رنگ کنید.

• مادر حضرت موسی (ع)	• رودی که در کشور مصر جریان دارد.
• نیل	• مانع کشته‌شدن حضرت موسی (ع) توسط فرعون شد.
• آسیه	• فرموده‌ی خداوند، کودکش را در آب گذاشت.
• خواهر حضرت موسی (ع)	• به دنبال سبد حضرت موسی (ع) تا کنار قصر فرعون رفت.

آسیه با گفتن چه جمله‌ای، مانع از کشته شدن حضرت موسی شد؟

۷

۱
۲
۳

جانوران برای زنده ماندن به چه چیزهایی نیاز دارند؟ ۲ مورد.

۸

۱
۲
۳

هر تصویر، به کدام اتفاق در زندگی حضرت موسی (ع) اشاره می‌کند؟

۹

۱
۲
۳



آسیه که بود و سرانجامش چه شد؟

۱۰

۱
۲
۳

ارزشیابی توصیفی

از عملکرد خود راضی هستم راضی نیستم چون _____

و پاسخ به پرسش‌های _____ برایم دشوار است.

بازفورد توصیفی آموزگار: _____

فوردسنلی